

ҚАЗАҚСТАН РЕСПУБЛИКАСЫ
БІЛІМ ЖӘНЕ ҒЫЛЫМ МИНИСТРЛІГІ

ҰЛТТЫҚ ТЕСТЛЕУ ОРТАЛЫҒЫ

БАЙҚАУ СЫНАҒЫ

СҰРАҚ КІТАПШАСЫ

7005 - НҰСҚА

Аты-жөні _____

ТЖК _____ Жауап парағының № _____

Лек _____ Аудитория № _____ Орын № _____

Бесінші пән аты _____

Талапкердің қолы _____

Сектор 5			
Нұсқа:			
7	0	0	5
①	①	①	①
②	②	②	②
③	③	③	③
④	④	④	④
⑤	⑤	⑤	●
⑥	⑥	⑥	⑥
●	⑦	⑦	⑦
⑧	⑧	⑧	⑧
⑨	⑨	⑨	⑨
⑩	●	●	⑩



2010

ҚАЗАҚ ТІЛІ

1. Диалект сөзді табыңыз.
 - A) Нағашы.
 - B) Бөле.
 - C) Құдаша.
 - D) Абысын.
 - E) Құдағай.
2. Ашық дауыстылы сөзді көрсетіңіз.
 - A) Күні-түні.
 - B) Бесарықтың.
 - C) Павлодар.
 - D) Алматы.
 - E) Ақсу.
3. Қате тасымалданған сөзді көрсетіңіз.
 - A) Жү-зі.
 - B) Ер-лік.
 - C) О-ю.
 - D) Ер-тең-гі.
 - E) Ба-ла.
4. Сөздердің қосарлануы арқылы жасалған сөзді белгілеңіз.
 - A) Алты(бақан)
 - B) Арманның (ауылы)
 - C) Өн(діргіш)
 - D) Жел(тоқсан)
 - E) Жан(жануар)
5. Зат есімді табыңыз.
 - A) Сары.
 - B) Әрең.
 - C) Кітап.
 - D) Әттең.
 - E) Екі.
6. Жинақтық сан есімді табыңыз.
 - A) Бес.
 - B) Бес-бестен.
 - C) Беске жуық.
 - D) Бесінші.
 - E) Бесеу.
7. Тәуелденіп келген есімдік түрін белгілеңіз.
 - A) Өзіммен, қайсыбіреу.
 - B) Кімде-кім, әркім.
 - C) Бұны, кімін?
 - D) Осысы, мынауың.
 - E) Өз, бұған.

8. Күрделі еліктеу сөзді анықтаңыз.
- A) Жарқ.
 - B) Былғаң.
 - C) Баж-бұж.
 - D) Бір-екі.
 - E) Ербең.
9. Сөйлемді көрсетіңіз.
- A) Оқып жатыр.
 - B) Бір мың тоғыз жүз тоқсан тоғыз.
 - C) Сұрастыру.
 - D) Мен келдім.
 - E) Барлық ұстаз.
10. Омоним бола алатын сөзді табыңыз.
- A) Өзен.
 - B) Аухау-аухау.
 - C) Әркім.
 - D) Сана.
 - E) Шалбар.
11. Тұрақты сөз тіркесін табыңыз.
- A) Нашар кісі.
 - B) Айызы қану.
 - C) Күллі ғалам.
 - D) Дауыссыз дыбыс.
 - E) Күн көзі.
12. Ілгерінді ықпалды көрсетіңіз.
- A) Оқушы.
 - B) Жолдасым.
 - C) Аңшы.
 - D) Ойыншық.
 - E) Қашса.
13. Етістіктен жұрнақ арқылы жасалған сын есімді көрсетіңіз.
- A) Саңқ етті.
 - B) Бір топ адам.
 - C) Ерте тұру.
 - D) Аспалы шам.
 - E) Тез жүру.
14. Болымсыз етістіктің жұрнағын көрсетіңіз.
- A) -ма,-ме.
 - B) -ып,-іп.
 - C) -ар,-ер.
 - D) -ды,-ді.
 - E) -қан,-кен.

15. Интонация арқылы байланысқан тәсілді табыңыз.
- A) Мектеп – кеме.
 - B) Жал-құйрығы қандай?
 - C) Бұл ауылда тұрады.
 - D) Бақа-шаян көп.
 - E) Ерлі-зайыпты адамдар.
16. Қосарлы айқындауыш қатысып тұрған сөйлемді табыңыз.
- A) Көбінің жүзі ақшыл не қызғылт сарғыш келеді.
 - B) Қызыл, жасыл жапырақтар жерде жатыр.
 - C) Ақәділ қария ақ боз үйдің есігін түргізіп қойып, әңгіме айтып тұр.
 - D) Пайда, мақтан - бәрі тұл.
 - E) Есік алды гүлмен құлпырып тұр.
17. Жақты сөйлемді табыңыз.
- A) Мына кісіні қайдан көргенімді ұмытып тұрмын.
 - B) Жақсы оқуымыз керек.
 - C) Ұшуға болмайды.
 - D) Менің сөйлегім келмейді.
 - E) Саған қатты қимылдауға болмайды.
18. Қыстырма сөзге байланысты қойылып тұрған тыныс белгіні табыңыз.
- A) Ой, Ардақ, сен ақ қоян қырдан қашқан.
 - B) Сол арада, шынын айту керек, аздап қуанып та қалдым.
 - C) Домбыра, сырнай, сыбызғы - қазақтың көне аспаптары.
 - D) Жамбыл, Дина - өнердің қос қазығы.
 - E) Ол математиканы, физиканы, әдебиетті жақсы оқитын.
19. Қоғамдық, саяси-әлеуметтік мәселелермен айналысатын айбынды құрал тілін табыңыз.
- A) Көркем әдебиет.
 - B) Ресми тіл.
 - C) Ғылыми тіл.
 - D) Ауызекі тіл.
 - E) Публицистика.
20. Қосымша арқылы жасалған сөзді табыңыз.
- A) Шекара.
 - B) Жолдастық.
 - C) Аққу.
 - D) Шеше.
 - E) Техника.
21. Үстеу қандай сөйлем мүшесі екенін анықтаңыз.
- Оқты жаңбырша жаудырды.*
- A) Толықтауыш.
 - B) Анықтауыш.
 - C) Баяндауыш.
 - D) Бастауыш.
 - E) Пысықтауыш.

22. Септеулік шылаулы сөйлемді табыңыз.
- A) Сенен кейін барамын.
 - B) Мектепке кейін барамын.
 - C) Әңгіменді кейін айтарсың.
 - D) Кейін тұрып сөйлесіңіз.
 - E) Кейін бәрі кеш болады.
23. Шартты бағыныңқы сабақтасты табыңыз.
- A) Маған жақындап келгенде ғана, өзімнің шәкіртім екенін таныдым.
 - B) Бүгін жаңа ай туды.
 - C) Кітабын оқып болғандықтан, досына бере салды.
 - D) Ертең апам келеді.
 - E) Табиғаттың тілін білсең, ешқашан қор болмайсың.
24. Төл сөздің төлеу сөзге айналу жолының дұрысын көрсетіңіз.
- Енді кері қайтуға бола ма? – деп сұрады жауынгерлер.*
- A) Жауынгерлер кері қайтуға болмайтынын сұрады.
 - B) Жауынгерлер енді кері қайтуға болатын, болмайтынын сұрады.
 - C) Жауынгерлер кері қайтуға болатынын сұрады.
 - D) Жауынгерлер кері қайтатынын айтты.
 - E) Жауынгерлер қайтуға рұқсат сұрады.
25. Тырнақша дұрыс қойылған сөйлемді табыңыз.
- A) Абыз Қарт ананы жалғыз отырғызу ретсіз – деп ойлады.
 - B) Абыз; Қарт ананы жалғыз отырғызу ретсіз « деп ойлады».
 - C) Абыз, Қарт ананы жалғыз отырғызу ретсіз деп,- ойлады.
 - D) Абыз: “Қарт ананы жалғыз отырғызу ретсіз”, – деп ойлады.
 - E) Абыз- Қарт ананы жалғыз отырғызу ретсіз – деп ойлады.

**ҚАЗАҚ ТІЛІ
ПӘНІНЕН СЫНАҚ АЯҚТАЛДЫ**

ОРЫС ТІЛІ

1. Укажите звонкие согласные звуки:
 - A) б, в
 - B) п, б
 - C) з, с
 - D) ж, ш
 - E) г, к
2. В слове пропущена буква *п*:
 - A) пойти в клу...
 - B) хру...кое здоровье
 - C) ро...ко возражать
 - D) джинсовая ю...ка
 - E) курить тру...ку
3. Имя существительное обозначает
 - A) предмет
 - B) действие
 - C) признак предмета
 - D) количество предметов
 - E) действие предмета
4. Укажите, какой частью речи выражено дополнение в предложении:
Завтра не будет похоже на сегодня.
 - A) Наречием
 - B) Местоимением
 - C) Числительным
 - D) Прилагательным
 - E) Существительным
5. Управление:
 - A) взглянули гордо
 - B) черные нивы
 - C) взглянули на него
 - D) теплая ночь
 - E) творческая работа
6. Укажите примыкание:
 - A) назначается на должность
 - B) назначается надолго
 - C) должностное лицо
 - D) высокая должность
 - E) должность назначается

7. Дополнение отвечает на вопросы
- А) Что делать? Что сделать?
 - В) Косвенных падежей.
 - С) Где? Когда?
 - Д) Какой? Чей?
 - Е) Кто? Что?
8. Укажите сложносочиненное предложение (знаки не расставлены).
- А) Обоз тронулся с места рано потому что было жарко.
 - В) Из окошка далеко блестят горы и виден Днепр.
 - С) Мальчики бежали сломя голову испугавшись крика Фимина.
 - Д) А природа не спала.
 - Е) Чуть брезжилось когда нас разбудили.
9. Монографии, диссертации, доклады, рефераты - жанры
- А) публицистического стиля
 - В) художественного стиля
 - С) разговорного стиля
 - Д) научного стиля
 - Е) официально-делового стиля
10. Укажите неологизм:
- А) микроб
 - В) грипп
 - С) социум
 - Д) катер
 - Е) монета
11. Окончания прилагательных в словосочетаниях
Чуж... дети, стояч... вод, хорош... друзьям:
- А) -ие, -ая, -ым
 - В) -ие, -им, -ым
 - С) -ые, -их, -им
 - Д) -ие, -ых, -им
 - Е) -ие, -их, -им
12. Укажите числительное с мягким знаком в середине:
- А) 30 саженцев
 - В) 18 лодок
 - С) 17 павильонов
 - Д) 20 этажей
 - Е) 70 участников
13. Укажите глагол в форме инфинитива:
- А) нести, стеречь
 - В) пишешь, соревнуется
 - С) соревнуется, плести
 - Д) стеречь, пишешь
 - Е) плести, печет

14. Причастие от прилагательного отличается, в частности, по наличию у причастия...
- А) форм времени
 - В) падежных форм
 - С) форм числа
 - Д) краткой и полной формы
 - Е) краткой формы
15. Предложение с деепричастным оборотом:
- А) Тропинка, заворачивающая к лесу, была узкой.
 - В) Наступила осень, похолодало.
 - С) Вернувшись домой, я нашел эту книгу.
 - Д) А утро было славное, хотя и холодное.
 - Е) Мне не хотелось никого приглашать на свой юбилей.
16. Предлог с причинным значением:
- А) беречь для покупки
 - В) отсутствовать по болезни
 - С) далеко от дома
 - Д) со слезами в голосе
 - Е) несмотря на уверения
17. Подлежащее выражено прилагательным.
- А) Новое в жизни требует новых названий.
 - В) Трое повернули к обрыву головы.
 - С) С тех пор уже никто не заговаривал с Татьяной.
 - Д) Всю ночь горела в салоне дежурная лампочка.
 - Е) Мы шли по чуть заметной тропинке.
18. Укажите двусоставное предложение:
- А) В этом театральном сезоне не удалось побывать в опере.
 - В) Под старыми липами даже в жаркий полдень было тихо и прохладно.
 - С) Судно было унесено волнами.
 - Д) Меня тянуло ещё раз поехать на этот остров.
 - Е) На море после шторма ещё не стихло.
19. Укажите сложноподчиненное предложение с придаточным места.
- А) Олжас из когорты редких людей, про которых говорят: «Пришел, увидел, победил».
 - В) Сердце мое заныло, когда очутились мы в давно знакомой комнате.
 - С) Тот день, когда я сдавал свой первый экзамен, запомнится мне навсегда.
 - Д) Нет величия там, где нет простоты, добра и правды.
 - Е) М. Пришвин говорил, что выбрал себе в спутники десять умных книг.
20. Укажите значение фразеологического оборота *с грехом пополам*:
- А) быстро
 - В) медленно
 - С) долго
 - Д) легко
 - Е) небрежно

21. Укажите ряд слов с приставкой *об*:
- А) обеднеть, обогреть
 - В) обежать, обставить
 - С) обаяние, обагрить
 - Д) обскакать, обрадовать
 - Е) окружить, обогнать
22. Укажите слово, образованное с помощью суффикса:
- А) смородина
 - В) паровоз
 - С) счётчик
 - Д) отмерить
 - Е) передача
23. Укажите тип односоставного предложения:
*Лишь к твоей золотой свирели
В черный день устами прильну.*
- А) определённо-личное
 - В) неопределённо-личное
 - С) назывное
 - Д) безличное
 - Е) двусоставное
24. Укажите предложение с уточняющим членом:
- А) Итак, на свидание к Александру никто не ездил.
 - В) Дождь, кажется, зарядил надолго.
 - С) Между прочим, существует своего рода закон воздействия писательского слова на читателей.
 - Д) Незаметным образом я привязался к доброму семейству, даже к кривому гарнизонному поручику.
 - Е) Решение судьи, бесспорно, было правильным.
25. Предложение с однородным подчинением - это
- А) предложение с разными типами связи.
 - В) бессоюзное сложное предложение со значением одновременности.
 - С) сложноподчиненное предложение, где два и более придаточных одного типа относятся к одному и тому же слову главного предложения.
 - Д) сложноподчиненное предложение, где первое придаточное относится к главному, второе придаточное относится к первому и т. д.
 - Е) сложносочиненное предложение со значением одновременности.

ҚАЗАҚСТАН ТАРИХЫ

1. Ғалымдардың ең ежелгі адамды атауы:
 - A) синантроп
 - B) епті адам
 - C) кроманьон
 - D) тік жүретін адам
 - E) неандерталь
2. Қазақ халқының құрамына енген ірі тайпалардың бірі және Орта жүздің руы:
 - A) Адай
 - B) Дулат
 - C) Үйсін
 - D) Қаңлы
 - E) Керей
3. Әбу Насыр Әл-Фараби өз шығармаларын жазған тіл:
 - A) Сирия.
 - B) Соғды.
 - C) Ұйғыр.
 - D) Араб.
 - E) Түрік.
4. XVI-XVII ғасырлардағы қазақ тарихының маңызды ескерткіші - Қадырғали Жалайырдың шығармасы:
 - A) "Диуани хикмет".
 - B) "Бадап әл-уәкәй".
 - C) "Диуани-лұғат ат-түрк".
 - D) "Жылнамалар жинағы".
 - E) "Тарихи рашиди".
5. Абылай хан жерленген қала:
 - A) Түркістан
 - B) Сығанақ
 - C) Созақ
 - D) Ташкент
 - E) Тараз
6. XVIII ғ. Кіші жүздегі шаруалар көтерілісіне басшылық етті:
 - A) Сырым Датұлы.
 - B) Амангелді Иманов.
 - C) Кенесары Қасымұлы.
 - D) Есет батыр.
 - E) Исатай Тайманұлы.

7. 1867-1868 жылғы «Ереже» бойынша салықтан босатылғандар:
- A) Билер
 - B) Шыңғыс тұқымдары
 - C) Байлар
 - D) Молдалар мен имамдар
 - E) Батырлар
8. 1909 жылы шығармалар жинағы баспадан шыққан белгілі ақын:
- A) Ш.Құдайбердиев.
 - B) Н.Байғанин.
 - C) Ы.Алтынсарин.
 - D) С.Торайғыров.
 - E) А.Құнанбаев.
9. 1916 жылғы ұлт-азаттық қозғалыстың Қарқарадағы жетекшілерінің бірі:
- A) Ә.Бөкейханов.
 - B) М.Дулатұлы.
 - C) С.Сейфуллин.
 - D) Ж.Мәмбетов.
 - E) А.Иманов.
10. Бешатыр обасының салынған мерзімі:
- A) б.з.б. 5-4 ғғ.
 - B) б.з.б. 7-6 ғғ.
 - C) б.з.б. 5-1 ғғ.
 - D) б.з.б. 6-5 ғғ.
 - E) б.з.б. 8-5 ғғ.
11. Жібек жолының Қазақстандағы Солтүстік-Шығыс тармағы арқылы Монғолияға Мөңке хандығына барып қайтқан елші:
- A) Томсон
 - B) Клоусон
 - C) Сюань-Цзянь
 - D) Рубрук
 - E) Диц
12. Ақ Орда мемлекеті өмір сүруін тоқтатты:
- A) XIV ғ.
 - B) XVI ғ. басы
 - C) XV ғ. басы
 - D) XV ғ. аяғы
 - E) XIV ғ. басы
13. Тұрсын сұлтан өзін хан, Ташкент қаласының билеушісі деп жариялаған жыл:
- A) 1618 жыл
 - B) 1617 жыл
 - C) 1612 жыл
 - D) 1613 жыл
 - E) 1615 жыл

14. 1854 жылы көктемде құрылған бекініс:
- A) Ақтау
 - B) Лепсі
 - C) Ақмешіт
 - D) Верный
 - E) Қапал
15. 1886 жылғы «Ереже» бойынша облыстық, уездік билеушілердің мүддесін қорғайтын сот:
- A) соттардың төтенше съезі
 - B) жоғарғы сот
 - C) облыстық сот
 - D) бітістіруші сот
 - E) «халық соты»
16. XX ғасырдың басында 300-ден астам жұмысшысы бар ірі өнеркәсіпорын:
- A) Успен кеніші
 - B) Көкшетау кен орны
 - C) Асташево кен орны
 - D) Шымкент сантонин зауыты
 - E) Владимирск алтын кеніші
17. 1920 жылғы наурыздың аяғына қарай Семей облысының солтүстік жағы ақ гвардияшылардан азат етіліп, соған байланысты жойылған майдан:
- A) Сарыарқа.
 - B) Ақмола.
 - C) Сырдария.
 - D) Жетісу.
 - E) Алтай.
18. Ұлттық қазақ театрында тұңғыш рет қойылған пьеса:
- A) «Қызыл сұңқарлар».
 - B) «Шаншар молда».
 - C) «Арқалық батыр».
 - D) «Қозы Көрпеш – Баян сұлу».
 - E) «Еңлік-Кебек».
19. Қазақ КСР Жоғарғы Кеңесінің Төралқасы республиканың жаңа Конституциясы жобасын «бүкілхалықтық талқылауға» ұсынған жыл:
- A) 1978 ж
 - B) 1977 ж
 - C) 1979 ж
 - D) 1960 ж
 - E) 1980 ж

20. Өзбек ұлысында (XV ғ.) үш халықтың болғандығы, оның ішінде ең көп ержүректері қазақтар екені жайлы жазған:
- A) Рузбихан
 - B) Ш.Уәлиханов
 - C) М.Дулатов
 - D) Б.Е.Көмеков
 - E) В.Рубрук
21. «Дешті уалаяты Берке ханға бағынған кезде дінсіздердің көп бөлігін ол ислам дініне кіргізді»-деп жазылған Өтеміс қажының кітабы:
- A) «Ислам діні»
 - B) «Шыңғыснама»
 - C) «Оғызнама»
 - D) «Мухаббатнама»
 - E) «Кодекс куманикус»
22. «Қазақ сұлтандары хижраның 870 жылдары (1465-1466) билей бастады» деген мәлімет келтірілген тарихи шығарма:
- A) «Шежірелер жинағы»
 - B) «Кодекс куманикус»
 - C) «Тарих-и-Абулхаир-хани»
 - D) «Тарих-и-Рашиди»
 - E) «Оғызнама»
23. Сұлтан Баймағамбетов жаудың арнайы салынған қорғаныс ұясының оқ жаудырып тұрған аузын кеудесімен жауып, қаза тапты:
- A) Мәскеу үшін шайқаста.
 - B) Курск үшін шайқаста.
 - C) Сталинград үшін шайқаста.
 - D) Ленинград үшін шайқаста.
 - E) Брест қамалы үшін шайқаста.
24. Ұлы Отан соғысынан кейінгі жылдары «Жамал», «Атамекен» сияқты суреттерді дүниеге әкелген жас суретші:
- A) С.Мәмбеев
 - B) Н.Таңсықбаев
 - C) Қ.Телжанов
 - D) М.Лизогуб
 - E) М.Кенбаев

25. КСРО-да қайта құру мен қоғамды демократияландыру үрдісіндегі қадам жасалды:
- A) 1991 ЖЫЛЫ
 - B) 1981 ЖЫЛЫ
 - C) 1986 ЖЫЛЫ
 - D) 1987 ЖЫЛЫ
 - E) 1988 ЖЫЛЫ

**ҚАЗАҚСТАН ТАРИХЫ
ПӘНІНЕН СЫНАҚ БІТТІ**

МАТЕМАТИКА

1. Өрнекті ықшамдаңыз: $\frac{4a-4b}{3a+3x} \cdot \frac{(a+x)^2}{a^2-b^2}$

A) $\frac{4a-4x}{a^2-b^2}$

B) $\frac{4a+4x}{a^2+b^2}$

C) $\frac{4a+4x}{3(a+b)}$

D) $\frac{4a+4x}{a^2-b^2}$

E) $\frac{4(a+x)}{3(a-b)}$

2. Өрнекті ықшамдаңыз: $\frac{21a^3 - 6a^2b}{12ab - 42a^2}$

A) $\frac{2}{3}a$

B) $1\frac{1}{3}a$

C) a

D) $-\frac{a}{2}$

E) $\frac{a}{2}$

3. $\frac{1}{3}$ бөлігінің $\frac{3}{5}$ бөлігі 6 болатын санды табыңыз.

A) 25.

B) 55.

C) 45.

D) 60.

E) 30.

4. Теңсіздікті шешіңіз: $\frac{6x-1}{6} + \frac{x+1}{3} > \frac{x-1}{2}$.

A) $x > -\frac{4}{5}$.

B) $x > \frac{1}{6}$.

C) $x < \frac{4}{5}$.

D) $x > -1$.

E) $x < 0$.

5. Теңдеуді шешіңіз: $\sqrt{x} + \sqrt{20} = \sqrt{5}$.

A) Жауабы жоқ.

B) 15.

C) 5.

D) 25.

E) 35.

6. Теңдеуді шешіңіз: $\text{ctg}3x = \text{ctg}x$.

A) $-\frac{\pi}{4} + \pi k, k \in \mathbb{Z}$.

B) $\frac{\pi}{8}k, k \in \mathbb{Z}$.

C) $\frac{\pi}{4}(2k+1), k \in \mathbb{Z}$.

D) $\frac{\pi}{4}k, k \in \mathbb{Z}$.

E) $\frac{\pi}{2}k, k \in \mathbb{Z}$.

7. Сөйлемді аяқтаңыз:

“Синус пен косинус функцияларының анықталу облысы - ...”.

- A) Барлық нақты сандар жиыны
- B) Барлық рационал сандар жиыны
- C) Барлық натурал сандар жиыны
- D) Барлық бүтін оң сандар жиыны
- E) Барлық бүтін теріс сандар жиыны

8. Квадраттың диагоналы 10 см, қабырғасын табыңыз.

- A) 5 см.
- B) 6 см.
- C) $5\sqrt{2}$ см.
- D) 3 см.
- E) 7 см.

9. m векторының қандай мәнінде $\vec{a}(2; m+1; -3)$ және $\vec{b}(1; -2; 2)$ векторлары перпендикуляр болады?

- A) 2
- B) 0
- C) -3
- D) -5
- E) 1

10. x -ті табыңыз: $\frac{2,5x+8\frac{1}{5}}{5,9} = \frac{16\frac{7}{20}}{5,45}$.

- A) 10,36.
- B) 7.
- C) 3,8.
- D) 12.
- E) 9,5.

11. Теңдеуді шешіңіз: $-9x^2 - 14x = x^3$

- A) 0; 2; 7.
- B) -7; 0; 2.
- C) 0; 9; 14.
- D) -7; -2; 0.
- E) -9; 0; 14.

12. Теңдеулер жүйесін шешіңіз:

$$\begin{cases} 3^{x+2} + y = 2 \\ 2 \cdot 3^x - y = 9 \end{cases}$$

- A) (0;-7)
- B) (0;-5)
- C) (-5;0)
- D) (-7;-5)
- E) (-7;0)

13. Теңдеуді шешіңіз: $|\log_3(x-2)| = 2$

A) $2\frac{1}{9}; 6$.

B) 6.

C) 11.

D) 6; 11.

E) $2\frac{1}{9}; 11$.

14. Теңсіздіктің дұрыс шешімін анықтаңыз: $\log_3 x + \log_3(x-2) \geq 1$.

A) $(-\infty; 3]$

B) $(3; +\infty)$.

C) $(-1; 3)$.

D) $[-1; 3]$.

E) $[3; +\infty)$.

15. Ықшамдаңыз: $\frac{\sin \alpha + \sin 3\alpha}{\sin 4\alpha}$

A) $\frac{\cos \alpha}{\cos 2\alpha}$.

B) $-\frac{\cos \alpha}{\cos 2\alpha}$.

C) $\cos 2\alpha$.

D) $\frac{1}{\cos 2\alpha}$.

E) $\frac{\sin \alpha}{\sin 2\alpha}$.

16. Арифметикалық прогрессияның айырымы 6-ға, ал оның алғашқы он мүшелерінің қосындысы 340-қа тең. Прогрессияның оныншы мүшесін табыңыз.
- A) 67.
 - B) 55.
 - C) 61.
 - D) 79.
 - E) 59.
17. Функцияның туындысын табыңыз: $f(x) = 3^x(x^5 + x)$
- A) $5^{x+2}(2x^5 \ln 5 + 3x \ln 5 - 1)$
 - B) $7^{x-1}(\ln 3 - x \ln 5 + 1)$
 - C) $5^x(3x^5 \ln 3 + x \ln 3 + 4x^5 - 3)$
 - D) $3^x(x^5 \ln 3 + x \ln 3 + 5x^4 + 1)$
 - E) $3^{x+1}(2x^5 \ln 5 + x \ln 5 + 3x^5 + 1)$
18. $f(x)$ функциясының туындысы мынаған тең: $f'(x) = (x^2 - 1)(x^2 - 9)(x^2 - 16)$. Онда оның кему аралықтарының ұзындығының қосындысын табыңыз.
- A) 5.
 - B) 2.
 - C) 6.
 - D) 3.
 - E) 4.

19. Бір үшбұрыштың периметрі оған ұқсас үшбұрыштың периметрінің $\frac{11}{13}$ бөлігіндей. Сәйкес екі қабырғасының айырмасы 1м-ге тең. Осы

қабырғаларды табыңыз.

A) 5,5 м; 8,5 м.

B) 6,5 м; 5,5 м.

C) 6,5 м; 7,5 м.

D) 6,5 м; 8,5 м.

E) 5,5 м; 7,5 м.

20. Теңдеулер жүйесін шешіңіз:
$$\begin{cases} |x-1| + y = 4 \\ x + y = 3 \end{cases}$$

A) (0;3)

B) (-3;3)

C) (3;0)

D) (3;-3)

E) (0;0)

21. Есептеңіз: $16 \sin \frac{\alpha}{2} \sin \frac{3\alpha}{2}$, егер $\cos \alpha = \frac{3}{4}$

A) 6.

B) 5.

C) 7.

D) 8.

E) 26.

22. Теңсіздікті шешіңіз: $\sin\left(\frac{\pi}{3} - 2x\right) \cdot \cos\left(\frac{\pi}{3} - 2x\right) \geq -\frac{\sqrt{3}}{4}$.

A) $[-\frac{\pi}{3} + \pi k; \frac{\pi}{4} + \pi k]$, $k \in Z$.

B) $[-\frac{\pi}{6} + \frac{\pi}{2}k; \frac{\pi}{4} + \frac{\pi}{2}k]$, $k \in Z$.

C) $[-\frac{\pi}{6} + 2\pi k; \frac{\pi}{4} + 2\pi k]$, $k \in Z$.

D) $[-\frac{\pi}{6} + \pi k; \frac{\pi}{4} + \pi k]$, $k \in Z$.

E) $(-\frac{\pi}{6} + 2\pi k; \frac{\pi}{4} + 2\pi k)$, $k \in Z$.

23. $y = \frac{4}{x^2}$; $y = -x - 1$; $x = -1$ сызықтарымен шектелген фигураның ауданы:

A) 1,5

B) 2,5

C) 2

D) 3

E) 1

24. Дұрыс үшбұрышты пирамиданың бүйір қыры 6-ға тең, табанына 30° бұрыш жасап көлбеген. Пирамида көлемін табыңыз.

A) $81 \frac{\sqrt{3}}{4}$.

B) $27 \frac{\sqrt{3}}{4}$.

C) 80.

D) $75 \frac{\sqrt{3}}{4}$.

E) $72 \frac{\sqrt{3}}{4}$.

25. Биіктігі h конус, радиусы r шарға іштей сызылған. Конус көлемін табыңыз.

A) $\pi r^2 h$

B) $3\pi r^2 h$

C) πr^2

D) $2\pi r^2 h$

E) $\frac{\pi h^2 (2r - h)}{3}$

МАТЕМАТИКА
ПӘНІНЕН СЫНАҚ БІТТІ

ФИЗИКА

1. Бір қалыпты түзу сызықты қозғалыстың жылдамдығының анықтамасына сәйкес келетін өрнек

A) $\vartheta = \frac{2\pi \cdot R}{T}$

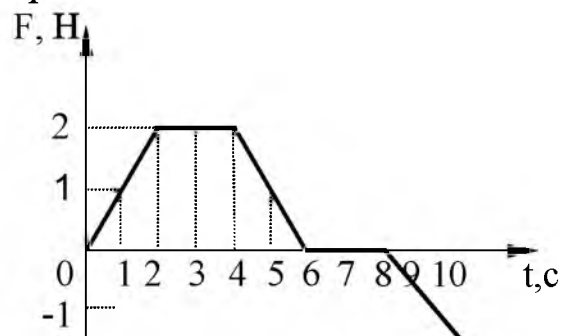
B) $\vartheta = \omega R$

C) $\vartheta = 2\pi R \nu$

D) $\vec{\vartheta} = \frac{\vec{s}}{t}$

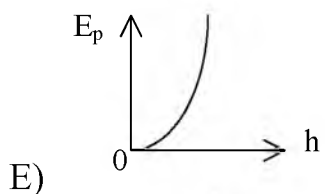
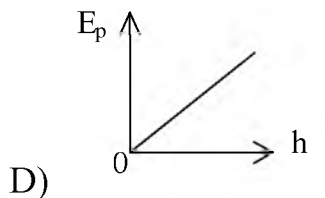
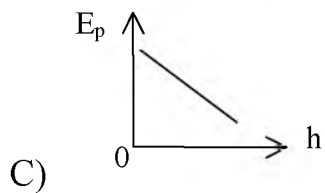
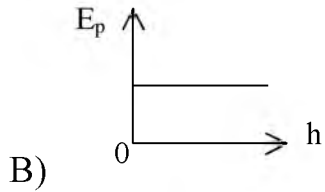
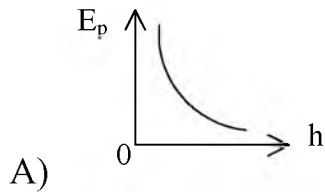
E) $\vartheta_x = \vartheta_{0x} + a_0 t$

2. Суретте денеге әсер етуші күштің қозғалыс уақытына тәуелдік графигі көрсетілген. Дене оң үдеумен бірқалыпты үдемелі қозғалатын уақыт аралығы



- A) 2 - 4.
 B) 0 - 2.
 C) 8 - 10.
 D) 4 - 6.
 E) 6 - 8.

3. Дененің потенциалдық энергиясының биіктікке тәуелділік графигі



4. Механикалық кернеудің өлшем бірлігі

- A) Па
- B) Дж
- C) Н
- D) кг/м³
- E) В

5. Бір денеден екінші денеге абсолют шамасы бойынша берілетін ең аз электр заряды

- A) e .
- B) 1 Кл.
- C) 0,1 Кл.
- D) $e/5$.
- E) $2e$.

6. Өзекшесіз соленоид ішіндегі өрістің индукциясы $B_0 = 2\text{ мТл}$. Соленоидқа болат өзекшені енгізгенде оның индукциясы ($\mu_{\text{болат}} = 8000$)

- A) $16 \cdot 10^3 \text{ Тл}$
- B) 16 мТл
- C) 16 Тл
- D) 4000 мТл
- E) $4 \cdot 10^5 \text{ Тл}$

7. Жиілігі 2000 Гц контурдың тербеліс периоды

- A) 0,0005 с.
- B) 0,5 с.
- C) 1,0 с.
- D) 2,5 с.
- E) 1,5 с.

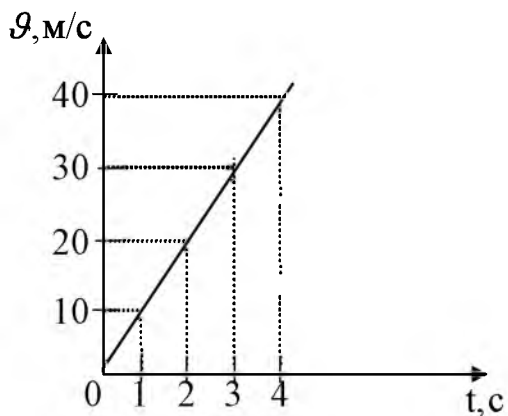
8. Шынының сыну көрсеткіші 1,5 болғанда ондағы жарық жылдамдығының шамасы ($c = 3 \cdot 10^8$ м/с)

- A) $2 \cdot 10^8$ м/с.
- B) $3 \cdot 10^7$ м/с.
- C) $2,5 \cdot 10^8$ м/с.
- D) $3 \cdot 10^8$ м/с.
- E) $1,5 \cdot 10^8$ м/с.

9. ${}^{14}_7\text{N} + {}^1_0\text{n} \rightarrow {}^{14}_6\text{C} + ?$ реакциясындағы белгісіз бөлшек

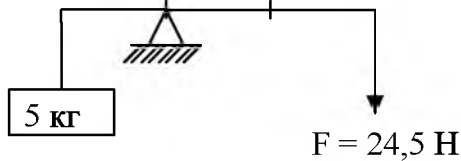
- A) ${}^1_0\text{n}$
- B) γ
- C) ${}^{-1}_0\text{e}$
- D) ${}^1_1\text{p}$
- E) ${}^4_2\text{He}$

10. Суретте көрсетілген түзу сызықты қозғалыстағы дененің 4 секундта жүрген жолы



- A) 60 м.
- B) 40 м.
- C) 50 м.
- D) 80 м.
- E) 20 м.

11. Автомобиль 10 м/с жылдамдықпен қозғалуда. Оның кинетикалық энергиясын 2 есе арттыру үшін оның қозғалыс жылдамдығы
- A) 40 м/с.
 B) $10\sqrt{2}$ м/с.
 C) 20 м/с.
 D) 5 м/с.
 E) 2,5 м/с.
12. Суреттегі рычаг тепе-теңдік қалыпта тұр. Рычагтың массасын ескермеуге болады. Егер рычагтың қысқа иінінің ұзындығы 20 см болса, онда рычагтың ұзындығы ($g = 9,8 \text{ м/с}^2$)



- A) 20 см
 B) 40 см
 C) 80 см
 D) 60 см
 E) 100 см
13. Бу турбиналарындағы будың бастапқы және ақырғы температуралары шамамен мынадай $T_1 = 800\text{К}$, $T_2 = 300\text{К}$. Осы температурадағы бу турбинасының ПӘК-інің ең жоғарғы мәні
- A) 72%.
 B) 62%.
 C) 82%.
 D) 42%.
 E) 52%.
14. Нүктелік зарядтың өріс кернеулігі кейбір нүктеде 4 Н/Кл. Егер зарядтың орналасу қашықтығын 2 есе арттырсақ, онда өріс кернеулігінің мәні
- A) 16 Н/Кл
 B) 1 Н/Кл
 C) 4 Н/Кл
 D) $\frac{1}{4}$ Н/Кл
 E) 8 Н/Кл
15. Ток жүрген кезде зат тасымалы болатын өткізгіштер
1. Металдар;
 2. Жартылай өткізгіштер;
 3. Электролиттер.
- A) Тек қана 2.
 B) Тек қана 1.
 C) Тек қана 3.
 D) 1, 2 және 3.
 E) 1 және 2.

16. Индукциясы 28,2 мТл магнит өрісінде электрон 10^7 м/с жылдамдықпен қозғалады. Оның айналып ұшу орбитасының радиусы
($m_e = 9,1 \cdot 10^{-31}$ кг; $e = 1,6 \cdot 10^{-19}$ Кл)
- A) 2,8 см.
 - B) 5 см.
 - C) 3 см.
 - D) 0,2 см.
 - E) 4,8 см.
17. Егер математикалық маятниктің ұзындығын 4 есе арттырса, оның тербеліс периоды
- A) 2 есе артады.
 - B) 2 есе кемиді.
 - C) 4 есе артады.
 - D) 4 есе кемиді.
 - E) 4,5 есе артады.
18. Тізбектегі токтың максимал мәні 5 А болса, оның әсерлік мәні
- A) 7,1 А.
 - B) 10 А.
 - C) 3,5 А.
 - D) 5 А.
 - E) 12 А.
19. Жарық толқынының жиілігін 2 есе арттырғанда, фотондар импульсі
- A) 4 есе азаяды.
 - B) 2 есе азаяды.
 - C) 4 есе көбейеді.
 - D) өзгермейді.
 - E) 2 есе көбейеді.
20. 180 м биіктіктегі тікұшақтан жүк тасталды. Егер тікұшақ 3 м/с жылдамдықпен жоғары көтеріліп бара жатса, жүктің жерге түсу уақыты
($g = 10$ м/с²)
- A) 5,3 с.
 - B) 5,7 с.
 - C) 6,7 с.
 - D) 6 с.
 - E) 6,3 с.
21. Соңғы 2 секундта 60 м жол жүріп, жерге құлаған дененің құлау уақыты
($g = 10 \frac{\text{м}}{\text{с}^2}$)
- A) 4 с
 - B) 5 с
 - C) 2 с
 - D) 1 с
 - E) 3 с

22. 2 м/с және 1 м/с жылдамдықпен бір- біріне қарама-қарсы қозғалған массалары 1 кг және 2 кг екі шардың абсолют серпімсіз центрлік соқтығысуы нәтижесінде ішкі энергияларының өзгеруі
- A) 2 Дж.
 - B) 3 Дж.
 - C) 2,67 Дж
 - D) 0,33 Дж.
 - E) 1 Дж.
23. Изотермиялық сығылу кезінде газ көлемі 5 л-ге азайып, қысымы 3 есе артса, газдың бастапқы көлемі
- A) 5,5 л
 - B) 9,5 л
 - C) 7,5 л
 - D) 6,5 л
 - E) 8,5 л
24. Массасы 300 кг сутегін қыздырғанда 60 кДж жылу мөлшері берілді. Бұл процестегі температураның өзгерісі $\left(c = 14,2 \cdot 10^3 \frac{\text{Дж}}{\text{кг} \cdot \text{К}} \right)$
- A) 0,2 К.
 - B) 0,04 К.
 - C) 0,1 К.
 - D) 4 К.
 - E) 0,014 К.
25. Бір пластинкасының ауданы 200 см^2 , пластиналар арасында қалыңдығы 1 мм шыны бар конденсатор сыйымдылығы $(\epsilon_{\text{шыны}} = 7, \epsilon_0 = 8,85 \cdot 10^{-12} \text{ Кл}^2/\text{Н} \cdot \text{м}^2)$
- A) 1,24 нФ
 - B) 3,5 нФ
 - C) 4,2 нФ
 - D) 8,85 нФ
 - E) 6,2 нФ

ФИЗИКА
ПӘНІНЕН СЫНАҚ БІТТІ

ХИМИЯ

1. Химиялық құбылыс:
 - A) оттектің кристалдануы.
 - B) сұйық ауадан ректификациялық айдау арқылы оттекті алу.
 - C) оттектің суда еруі.
 - D) сұйық оттектің булануы.
 - E) бертолле тұзынан оттекті алу.
2. Ядросында 26 протоны бар элемент
 - A) Fe
 - B) Ba
 - C) Cu
 - D) Al
 - E) Zn
3. Диссоциацияланғанда көп анион түзетін зат
 - A) кальций хлориді
 - B) калий хлориді
 - C) мыс (II) хлориді
 - D) алюминий хлориді
 - E) темір (II) хлориді
4. Катализатор деп ... айтамыз
 - A) химиялық реакцияны жылдамдататын заттарды
 - B) химиялық реакцияның мнімін өзгертетін заттарды
 - C) химиялық реакцияны баяулататын заттарды
 - D) химиялық реакцияны өзгертпейтін заттарды
 - E) химиялық реакцияның т%сін өзгертетін заттарды
5. Қосылыстарда алюминийдің тотығу дәрежесі:
 - A) -1
 - B) +1
 - C) -1
 - D) +3
 - E) +5
6. Органикалық заттың құрамына міндетті түрде кіретін элемент
 - A) оттекті
 - B) азот
 - C) көміртек
 - D) кремний
 - E) сутек
7. Құрамында он екі сутек атомы бар алкеннің мольдік массасы (г/моль)
 - A) 84
 - B) 96
 - C) 98
 - D) 104
 - E) 112

8. Жоғары карбон қышқылдары глицеринмен әрекеттескенде түзілетін қосылыс:
- A) Альдегид.
 - B) Тұз.
 - C) Майлар.
 - D) Жай эфир.
 - E) Ангидрид.
9. Қыздырғанда жұмсарып, суытқанда қатып қалу қасиеті бар пластмасса түрі:
- A) Термопластар.
 - B) Гетинакс.
 - C) Пенопластар.
 - D) Текстолит.
 - E) Волокнит.
10. $N_2 + 3H_2 = 2NH_3$ реакциядағы сутектің концентрациясын 2 есе азайтқанда реакция жылдамдығы ...
- A) 2 есе артады.
 - B) 8 есе кемиді.
 - C) 6 есе кемиді.
 - D) 6 есе артады.
 - E) 3 есе кемиді.
11. 80 г ерітіндіні буландырған соң, ыдыста 20г тұз қалды. Ерітіндідегі еріген заттың массалық үлесі
- A) 20%
 - B) 25%
 - C) 35%
 - D) 30%
 - E) 22%
12. Осы реакция нәтижесінде суда ерімейтін негіз түзіледі
- A) $CuCl_2 + H_2SO_4 \rightarrow$
 - B) $Na + H_2O \rightarrow$
 - C) $Ba(NO_3)_2 + 2NaOH \rightarrow$
 - D) $K_2O + H_2O \rightarrow$
 - E) $FeCl_3 + 3NaOH \rightarrow$
13. Моль сандары тең зат
- A) 22,4 л Cl_2 және 380 г F_2
 - B) 4,48 л F_2 және 73 г Cl_2
 - C) 2,24 л Cl_2 және 38 г F_2
 - D) 11,2 л F_2 және 127 г J_2
 - E) 5,6 л Cl_2 және 16 г Br_2

14. Концентрлі күкірт қышқылымен әрекеттеспейтін заттар жұбы:

- A) Al, Pt
- B) Ca, Cu
- C) Fe, Ca
- D) Al, Ag
- E) Na, Au

15. 10,7 г аммоний хлоридін қыздырғанда бөлінген газды азот қышқылына сіңіргенде алынған тұз массасы:

- A) 16 г.
- B) 160 г.
- C) 8 г.
- D) 1,6 г.
- E) 80 г.

16. Жұмыртқа қабығы кальций карбонатынан тұратынын дәлелдейтін реакция:

- A) $\text{CaCO}_3 + 2\text{HCl} \rightarrow \text{CaCl}_2 + \text{H}_2\text{O} + \text{CO}_2\uparrow$
- B) $\text{CaCO}_3 \rightarrow \text{CaO} + \text{CO}_2$
- C) $\text{K}_2\text{CO}_3 + \text{Cu}(\text{OH})_2 \rightarrow 2\text{KOH} + \text{CuCO}_3$
- D) $\text{CaCO}_2 + 2\text{NaOH} \rightarrow \text{Ca}(\text{OH})_2 + \text{Na}_2\text{CO}_3$
- E) $\text{CaCO}_3 + \text{BaSO}_4 \rightarrow \text{CaSO}_4 + \text{BaCO}_3$

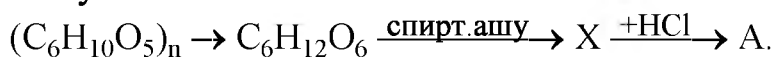
17. Жер қыртысында тек қосылыс күйінде кездесетін металдар қатары

- A) Pt, Au, Ag
- B) Na, Ca, K
- C) Cu, Fe, Pt
- D) Ag, Pb, K
- E) Mn, Au, Zn

18. Өзгерістер тізбегіндегі тұнба түзілетін реакциялар

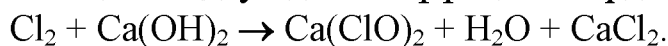
- $\text{CuO} \xrightarrow{1} \text{CuCl}_2 \xrightarrow{2} \text{Cu}(\text{OH})_2 \xrightarrow{3} \text{CuSO}_4 \xrightarrow{4} \text{Cu}_3(\text{PO}_4)_2$
- A) 1,3
 - B) 1,2
 - C) 3,4
 - D) 2,3
 - E) 2,4

19. Өзгерістерді жүзеге асыру нәтижесінде түзілген А затының аталуы:



- A) Глюкоза.
- B) Хлорвинил.
- C) Хлорэтан.
- D) Этил спирті.
- E) Сірке қышқылы.

20. Реакция теңдеуіндегі коэффициенттердің қосындысы



- A) 9.
- B) 5.
- C) 11.
- D) 8.
- E) 7.



тізбегіндегі В затының молекулалық массасы:

- A) 17
- B) 145
- C) 278
- D) 129
- E) 127

22. Егер теория жүзіндегіге қарағандағы шығымы 80% болып, 33,32 г циклобутан алынған болса, онда металдық натриймен әрекеттескен 1,4 дибромбутанның массасы:

- A) 160,65 г
- B) 152,65 г
- C) 154,65 г
- D) 156,65 г
- E) 158,65 г

23. Егер шығымы 55% болса, онда 42 кг көміртек (II) оксиді бар синтез газдан түзілетін метанолдың массасы

- A) 15,9 кг
- B) 21,9 кг
- C) 23,9 кг
- D) 19,9 кг
- E) 26,4 кг

24. Картопта 20 % крахмал бар. Егер шығымы 75 % болса, онда 1620 кг картоптан алынатын глюкозаның массасы:

- A) 360 кг
- B) 180 кг
- C) 300 кг
- D) 220 кг
- E) 270 кг

25. Аланинге азот қышқылымен әсер еткенде 304 г тұз түзілді. Жұмсалған аланиннің массасы (г)
- A) 89
 - B) 267
 - C) 445
 - D) 358
 - E) 178

ХИМИЯ
ПӘНІНЕН СЫНАҚ БІТТІ

БИОЛОГИЯ

1. Ботаника ... зерттейді:
 - A) Өлі табиғатты
 - B) Өсімдіктерді
 - C) Топырақты
 - D) Вирустарды
 - E) Жануарларды
2. Гүлтабан дегеніміз -
 - A) күлтені құрайтын ішкі жапырақшалар.
 - B) гүлдің негізгі бөлімі.
 - C) гүл сағағының кеңейген жері.
 - D) гүлдің ең жіңішке бөлімі.
 - E) тостағаншаны құрайтын сыртқы жапырақшалар.
3. Қантышпақ амёбасының кәдімгі амёбадан айырмашылығы
 - A) Теңіздерде тіршілік етеді.
 - B) Адамның ішегінде паразитті тіршілік етеді.
 - C) Топырақта тіршілік етеді.
 - D) Ағысы қатты суларда тіршілік етеді.
 - E) Өсімдіктерде паразитті тіршілік етеді.
4. Тірі ағзаларда тіршілік етеді:
 - A) Паразиттер
 - B) Сапрофиттер
 - C) Түйнек бактериялары
 - D) Цианобактериялар
 - E) Шіріту бактериялары
5. Алқа тұқымдасының гүліндегі күлте жапырақшаларының саны-
 - A) 8.
 - B) 10.
 - C) 6.
 - D) 4.
 - E) 5.
6. Ең жоғары сатыдағы омыртқалы жануарлар
 - A) Сүтқоректілер класы
 - B) Балықтар класы
 - C) Қосмекенділер класы
 - D) Құстар класы
 - E) Жорғалаушылар класы
7. Есту мүшесі.
 - A) Мұрын.
 - B) Тіл.
 - C) Құлақ.
 - D) Ауыз.
 - E) Тері.

8. Тыныс алатын ауаны жылытып, залалсыздандыратын мүше:
- A) көмей
 - B) мұрын қуысы
 - C) кеңірдек
 - D) аңқа
 - E) ауыз
9. Несепағардың төменгі бөлімі жалғасатын мүше.
- A) Қуық.
 - B) Зәр шығару өзегі.
 - C) Несепағар.
 - D) Бүйрек.
 - E) Ішек.
10. Жасушалары үнемі бөлінетін ұлпа:
- A) Фотосинтездеуші.
 - B) Өткізуші.
 - C) Түзуші.
 - D) Жабын.
 - E) Тірек.
11. Мыналар минералды тыңайтқышқа жатады:
- A) Шымтезек, қи, қарашірік.
 - B) Азот, шымтезек, қи.
 - C) Қарашірік, қи, күл.
 - D) Қи, күл, құс саңғырығы.
 - E) Азот, фосфор, күл.
12. Гидраның жауынан қорғану және жемін аулауға әсер ететін жасушалары
- A) Аралық.
 - B) Безді.
 - C) Атпа.
 - D) Жүйке.
 - E) Тері – бұлшықет.
13. Ортаңғы құлаққа жатады
- A) Құлақ қалқаны, сыртқы дыбыс жолы
 - B) Қуыстар, дабыл жарғағы
 - C) Дабыл жарғағы, сыртқы дыбыс жолы
 - D) Дабыл жарғағынан самай сүйегінің ішіне дейін
 - E) Қуыстар мен иірім озекшелері
14. Төмендегі қайсысы жұп сүйектер
- A) Төссүйек
 - B) Төменгі жақ сүйек
 - C) Маңдай
 - D) Шүйде
 - E) Самай

15. Ең ірі қан тамыры:
- A) Қолқа
 - B) Салатамыр
 - C) Қылтамыр
 - D) Көктамыр
 - E) Өкпе салатамыры
16. Ас қорыту кезінде май ыдырайды:
- A) Суға.
 - B) Аминқышқылына.
 - C) Глюкозаға.
 - D) Көмірқышқыл газына.
 - E) Глицерин мен май қышқылына.
17. Жасушаны энергиямен қамтамасыз ететін реакциялар жиынтығы:
- A) метаболизм.
 - B) катаболизм (энергетикалық алмасу).
 - C) анаэробты ыдырау.
 - D) аэробты ыдырау.
 - E) анаболизм (пластикалық алмасу).
18. Алғашқы прокариотты жасушалардың пайда болуы.
- A) 5-кезең.
 - B) 1- кезең.
 - C) 2- кезең.
 - D) 4- кезең.
 - E) 3-кезең.
19. Редуценттерге жататын ағзалар
- A) Етқоректі жануарлар.
 - B) Бір жасушалы балдырлар.
 - C) Автотрофтылар.
 - D) Продуценттер.
 - E) Саңырауқұлақтар мен ұсақ ағзалар.
20. Гидраның жыныссыз жолмен көбеюі.
- A) Зигота.
 - B) Гамета.
 - C) Бүршіктену.
 - D) Пілде түзу.
 - E) Гермафродитті.
21. Өте сирек кездесетіндіктен, Қазақстан Қызыл кітабына тіркелген ашық тұқымды осімдік.
- A) Самырсын.
 - B) Зеравшан аршасы.
 - C) Қос масақшалы қылша.
 - D) Кәдімгі арша.
 - E) Жатаған шырша.

22. Қырықбуынның көктемде дамиды өркенінде болады
- A) сабақ.
 - B) тамырсабақ.
 - C) масақшасы бар қоңыр өркендер.
 - D) қосалқы тамырлар.
 - E) жасыл өркендер.
23. Мейоздың бірінші бөлінуі.
- A) Эквационды.
 - B) Зиготена.
 - C) Диплотена.
 - D) Редукциялық.
 - E) Лептотена.
24. Айқас тозаңданатын өсімдіктер селекциясында әр түрлі тармақтары өзара тозаңдандыру:
- A) Ментор әдісі.
 - B) Мутагенездік әдіс.
 - C) Линияаралық гибридтер.
 - D) Полиплоидиялық әдіс.
 - E) Әріден гибридтеу.
25. Полеозой кезеңі.
- A) Юра.
 - B) Неоген.
 - C) Бор.
 - D) Девон.
 - E) Палеоген.

БИОЛОГИЯ
ПӘНІНЕН СЫНАҚ БІТТІ

ГЕОГРАФИЯ

1. Магеллан саяхатының мәні
 - A) Жердің шар тәрізді екені дәлелденді.
 - B) Жаңа аралдар ашылды.
 - C) Африка ашылды.
 - D) Үндістанға жол ашылды.
 - E) Жаңа жерлер ашылды.
2. Экватор орналасқан ендік
 - A) Шығыс.
 - B) Оңтүстік.
 - C) Солтүстік.
 - D) Экваторда 0° , ендік болмайды.
 - E) Батыс.
3. Жырлардың пайда болуы неге байланысты:
 - A) Ауаның құрғақшылығына.
 - B) Судың ағуына.
 - C) Желдің әсеріне.
 - D) Жоғары температураға.
 - E) Өсімдіктер мен жануарлар әсеріне.
4. Климаттық элементтердің таралауы картада бейнеленеді
 - A) Изосызықтармен
 - B) Сызықтармен
 - C) Нүктелермен
 - D) Бояулармен
 - E) Түстермен
5. Мұхиттың белгілі бір бөліктерін алып жатқан зор көлемді су
 - A) Толқын
 - B) Су массасы
 - C) Мұзтау
 - D) Толысу
 - E) Цунами
6. Фосфорит рудасы өндірілетін тау жоталары
 - A) Сауыр, Тарбағатай.
 - B) Көкшетау, Сарыарқа.
 - C) Кетпен, Ұлытау.
 - D) Мұғалжар, Қаратау.
 - E) Маңғыстау, Алтай.
7. Бурабай курорты орналасқан тау.
 - A) Қарқаралы.
 - B) Мұғалжар.
 - C) Маңғыстау.
 - D) Баянауыл.
 - E) Көкшетау.

8. Қазақстан территориясының аумағы (мың км):
A) 1550,2
B) 2070,1
C) 2724, 9
D) 2700,2
E) 2710,4
9. Су көлігінде жетекші орындағы өзен
A) Іле
B) Жайық
C) Тобыл
D) Есіл
E) Ертіс
10. Табиғи күйінде ағаш өсімдігі негізгі орын алатын табиғат зона:
A) Тундра
B) Дала
C) Шөлейт
D) Орман
E) Шөл
11. Қылқан жапырақты, ірі жыртқыштар мен жұп тұяқтылар кездесетін табиғат зонасы:
A) Аралас орман.
B) Тайга.
C) Орманды тундра.
D) Тундра.
E) Дала.
12. Жағасында мыс балқыту комбинаты салынған көл:
A) Арал.
B) Каспий.
C) Зайсан.
D) Теңіз.
E) Балқаш.
13. Құрлықтағы табиғат зоналарының бір-бірінен айырмашылығы:
A) Құрлық пен судың бөлінуінен.
B) Халық санынан.
C) Жер бетінің сипатынан.
D) Батпақтардың болуынан.
E) Өсімдік жамылғысының сипатынан.
14. Қазақстанның ең ірі сауда серіктесі
A) Жапония
B) Қырғызстан
C) АҚШ
D) Өзбекстан
E) Ресей

15. Демалыс, туризм, емдік мақсатта пайдаланылатын ресурстар:
- A) Археологиялық.
 - B) Тарихи.
 - C) Рекреациялық.
 - D) Мәдени.
 - E) Табиғи ресурстар.
16. Темір кенін сыртқа шығаруда қоры мол мемлекет:
- A) Ресей
 - B) ГФР
 - C) Мексика
 - D) Қазақстан
 - E) Бразилия
17. Армениядағы СЭС:
- A) Раздан
 - B) Слеан
 - C) Арпа
 - D) Ереван
 - E) Арарат
18. Солтүстік Еуропа мемлекеті.
- A) Португалия.
 - B) Швеция.
 - C) Греция.
 - D) Испания.
 - E) Италия.
19. Алтын өндіруден әлемде бірінші орында:
- A) Танзания.
 - B) Свазиленд.
 - C) Марокко.
 - D) ОАР.
 - E) Алжир.
20. Мұхиттардағы зоналық... аталады
- A) Ендікпен
 - B) Географиялық орнымен
 - C) Мұхит атымен
 - D) Климат белдеулерімен
 - E) Тереңдікпен
21. ... жылдары П.П.Семенов Орталық Тянь-Шаньға барып Хан Тәңірі массивіне дейін жетті.
- A) 1827-1828
 - B) 1856-1857
 - C) 1833-1834
 - D) 1863-1864
 - E) 1845-1846

22. Алтайдың қазақстандық бөлігінің климаты
- A) Қоңыржай теңіздік
 - B) Қоңыржай континентті
 - C) Қоңыржай
 - D) Шұғыл континентті
 - E) Қоңыржай тропиктік
23. Мұнайды өңдегеннен кейін қалатын қатты қалдық, жол құрылысында пайдаланылады:
- A) Гудрон.
 - B) Кокс.
 - C) Пластмасса.
 - D) Мазут.
 - E) Каучук.
24. Орталық Қазақстандағы өнеркәсіп тораптары:
- A) Атасу, Теміртау
 - B) Балқаш, Саяқ
 - C) Қарағанды-Теміртау, Балқаш, Жезқазған
 - D) Қарағанды, Абай
 - E) Жезқазған, Саяқ, Қоңырат
25. Темір кен қоры мол мемлекет:
- A) Венесуэла.
 - B) Аргентина.
 - C) Перу.
 - D) Мексика.
 - E) Бразилия.

ГЕОГРАФИЯ
ПӘНІНЕН СЫНАҚ БІТТІ

ДҮНИЕ ЖҮЗІ ТАРИХЫ

1. Ежелгі Афина қаласындағы биік төбеге орналасқан «үстіңгі қала»:
 - A) Форум.
 - B) Акрополь.
 - C) Амфитеатр.
 - D) Пантеом.
 - E) Агора.
2. Қайта өрлеу мәдениетінің орталығы:
 - A) Испания.
 - B) Англия.
 - C) Франция.
 - D) Италия.
 - E) Греция.
3. Ағылшын парламентінің палаталары:
 - A) Сенат және конгресс.
 - B) Қауымдар және лордтар.
 - C) Жоғарғы және халықтық.
 - D) Кортес және сенат.
 - E) Бундестаг және рейхстаг.
4. 1793 ж. Жирондықтар құлағаннан кейін саяси билікке келгендер:
 - A) Роялистер
 - B) Коммунарлар
 - C) Монархистер
 - D) Якобиншілдер
 - E) Пуритандар
5. Үндістанда «Күш қолданбай қарсыласу» қозғалысын ұйымдастырушы:
 - A) Д.Синх
 - B) Б.Тилак
 - C) М.Ганди
 - D) Д.Неру
 - E) Р.Тагор
6. Бірінші дүниежүзілік соғыста екі бірдей майданда соғысқан ел:
 - A) Италия.
 - B) Англия.
 - C) Франция.
 - D) Ресей.
 - E) Германия.
7. Екінші дүниежүзілік соғыс кезінде Англияның премьер-министрі:
 - A) Р.Макдональд.
 - B) У.Черчилль.
 - C) Н.Чемберлен.
 - D) Т.Рузвельт.
 - E) Б.Муссолини.

8. Италия экономикасының шарықтап даму кезеңі.
- A) 1970-80 ж.ж.
 - B) 1990-95 ж.ж.
 - C) 1960-70 ж.ж.
 - D) 1980-90 ж.ж.
 - E) 1950-60 ж.ж.
9. 1947 ж. тәуелсіздігін алған Ұлыбритания отарларының бірі:
- A) Гибралтар.
 - B) Гайяна.
 - C) Фолкленд.
 - D) Сингапур.
 - E) Үндістан.
10. Қазіргі Түркия жерінде өмір сүрген Оңтүстік-батыс Азияның ежелгі мемлекет:
- A) Ассирия.
 - B) Шумер мемлекеті.
 - C) Вавилон патшалығы.
 - D) Парсы мемлекеті.
 - E) Хетт патшалығы.
11. Арабтардың негізгі ата мекені:
- A) Араб түбегі.
 - B) Византия.
 - C) Кіші Азия.
 - D) Пиреней түбегі.
 - E) Балқан түбегі.
12. Батыс Еуропалық шаруалардың «Қажылық жорыққа» аттанған жылы:
- A) 1096 жылы.
 - B) 1086 жылы.
 - C) 1070 жылы.
 - D) 1090 жылы.
 - E) 1099 жылы.
13. Ұлы моғолдар империясы пайда болды:
- A) XVII ғ.
 - B) XV ғ.
 - C) XVI ғ.
 - D) XIV ғ.
 - E) XIII ғ.
14. 1871ж. Герман империясының үкімет басшысы:
- A) Император.
 - B) Министр.
 - C) Канцлер.
 - D) Король.
 - E) Князь.

15. XIX ғасырдың I жартысындағы Венесуэладағы тәуелсіздік жолындағы күрестің басшысы:
- A) Мигель Идальго.
 - B) Итурбиде.
 - C) Хосе Сан-Мартин.
 - D) Симон Боливар.
 - E) Хосе Морелос.
16. Италияның фашистік диктаторы:
- A) Бенито Муссолини.
 - B) Франко.
 - C) Виктор Эммануил.
 - D) Адольф Гитлер.
 - E) Герман Геринг.
17. 1969 жылы парламенттік сайлауда канцлер қызыметіне сайланған социал-демократиялық партияның жетекшісі:
- A) К.Аденауэр
 - B) Г.Коль
 - C) В.Кунон
 - D) В.Брандты
 - E) Э.Хонеккер
18. Екінші дүние жүзілік соғыстан кейінгі АҚШ-тың Батыс Еуропа мемлекеттеріне көмектесуі:
- A) Рузвельт жоспары.
 - B) Эйзенхауэр доктринасы.
 - C) Керзон жоспары.
 - D) Вильсон жоспары.
 - E) Маршалл жоспары.
19. Тоталитарлық мемлекеттердегі өнердің мақсаты:
- A) Үкімет қалайтын шындықты корсету
 - B) Бейбітшілікті насихаттау
 - C) Өнерді мемлекеттік идеологияға айналдыру
 - D) Өмірдің нақты шындығын көрсету
 - E) Аз ұлттардың өнерін дамытуды
20. Рим Республикасында соғыс пен бітім мәселесін шешетін жиын:
- A) Магистраттар
 - B) Трибалар
 - C) Курия
 - D) Центуриат
 - E) Нобилитет
21. Ресейдегі опричнина саясатының мәні:
- A) Самодержавиены нығайтуға арналған қатаң шаралар.
 - B) Жаңа діни коллегияны құру.
 - C) Мемлекеттің жаңа салық жүйесін енгізу.
 - D) Орталық басқару органдарын құру.
 - E) Ұлы князь кезіндегі жоғарғы кеңесті тарату.

22. Орта ғасырдағы Иран жеріндегі егіншілікпен айналысатын шаруалар:
- A) Райяттар.
 - B) Егіншілер.
 - C) Шаруалар.
 - D) Иляттар.
 - E) Дихандар.
23. 1840-1842 ж. Англияның Қытайға соғыс жариялауының себебі:
- A) Нэпир елшілігінің сәтсіздікке ұшырауы
 - B) Пекиннің ағылшындардың апиын сатуына тыйым салуы
 - C) Гуанчжоудағы «Гунхан» сауда монополиясының жабылуы
 - D) Ағылшын миссионерлерінің Қытайдан қуылуы
 - E) Макартней елшілігінің жауапсыз қалуы
24. XVII-XVIII ғасырдағы Еуропа мәдениетіндегі бірін-бірі ауыстырып отырған үш көркем бағыт:
- A) Классицизм, романтизм, реализм.
 - B) Утопиялық көзқарас, эмпиризм, материализм.
 - C) Идеализм, гуманизм, реализм.
 - D) Материализм, эмпиризм, идеализм.
 - E) Утопиялық көзқарас, романтизм, идеализм.
25. КСРО-ны Ұлттар Лигасынан шығару себебі:
- A) Кеңес әскерлерінің Польшаға кіруі.
 - B) Балтық елдерін қосып алуы.
 - C) Белоруссияның бір бөлігін қосып алуы.
 - D) Германиямен келісімі.
 - E) Финляндияға қарсы соғысы.

**ДҮНИЕ ЖҮЗІ ТАРИХЫ
ПӘНІНЕН СЫНАҚ БІТТІ**

ҚАЗАҚ ӘДЕБИЕТІ

1. «Ер Төстік» ертегісіндегі басты кейіпкердің бірі – әкесінің атын табыңыз.
 - A) Құлтай.
 - B) Қарабай.
 - C) Ерназар.
 - D) Байбөрі.
 - E) Байсары.
2. *Баласын мақтар бас жаман,
Қатынын мақтар қас жаман
Алыстағы дұшпаннан,
Аңдып жүрген дос жаман,* - деген жолдарды айтқан авторды белгілеңіз.
 - A) Абай.
 - B) Сырым.
 - C) Үмбетей.
 - D) Төле.
 - E) Қазыбек.
3. Махамбет Өтемісұлының өлеңін табыңыз.
 - A) «Айналайын, Ақ Жайық».
 - B) «Шәкірт ойы».
 - C) «Мен – қазақпын».
 - D) «Ей, Абылай, Абылай».
 - E) «Ереуіл атқа ер салмай».
4. 1845-1904 жылдардың арасында өмір сүрген ақынды табыңыз.
 - A) Ш.Уәлиханов.
 - B) Ж.Жабаев.
 - C) М.Өтемісұлы.
 - D) Ы.Алтынсарин.
 - E) А.Құнанбаев.
5. Шығыс Қазақстан облысы, Мақаншы ауданындағы «Бақты» аулында дүниеге келген әнші, сазгер, ақынды көрсетіңіз.
 - A) Жаяу Мұса Байжанұлы.
 - B) Ақан сері Қорамсаұлы.
 - C) Ыбырай Сандыбайұлы.
 - D) Біржан сал Қожағұлұлы.
 - E) Әсет Найманбаев.
6. Тенеуді табыңыз.*Шұғыла шалғын кешкі бұлттай,
Толқын шапты оттар ойнар.*
 - A) Шұғыла.
 - B) Шалғын.
 - C) Толқын.
 - D) Бұлттай.
 - E) Кешкі.

7. М. Мақатаевтың өлеңін табыңыз.
- А) «Шығамын тірі болсам адам болып».
 - В) «Ғылым таппай мақтанба».
 - С) «Құлагер».
 - Д) «Шәкірт ойы».
 - Е) «Қара өлең».
8. Ж.Молдағалиевтің «Мен – қазақыпын» шығармасы арқылы қандай ерекшелігі байқалатынын табыңыз.
- А) Реалист ақын.
 - В) Лирик ақын.
 - С) Сыншы ақыл.
 - Д) Патриот ақын.
 - Е) Романтик ақын.
9. Ш.Мұртазаның романын табыңыз.
- А) «Қызыл жебе».
 - В) «Қаһар».
 - С) «Көшпенділер».
 - Д) «Жанталас».
 - Е) «Қаһарлы күндер».
10. Тоныкөктің кім болғанын белгілеңіз.
- А) Қағанның кеңесшісі.
 - В) Қазынашы.
 - С) Елші.
 - Д) Қаған.
 - Е) Қолбасшы.
11. «Қобыланды батыр» жырындағы:
- Қатынға ақыл салған соң,
Қатынның тілін алған соң,
Неше батыр болса да,
Басында билік жоқ адам
Арыстан туған, құрдасжан,
Ол – қатын емей немене?* - деген Қараман сөзінің себебін табыңыз.
- А) Қобыландының жасқаншақтық танытқанынан
 - В) Қобыландының сапардан түсетін олжаға ортақ болғысы келмегендігінен
 - С) Қобыландының сескеніп, жорықтан бас тартқанынан
 - Д) «Тайбурылдың сапарға шығуға әлі де қырық үш күндік кемдігі бар» деген Құртқаның сөзін естіп, сапарға шықпайтынын естіген соң
 - Е) Қобыландының жорыққа баруға ықыласы болмағандықтан

12. *“Болғанда мұндай күнде заманымыз,
Жай жатып сахарада қамаламыз.
Болыс, би ет пен шайға мәз болуда,
Қайткенде тура жолды таба аламыз?”* - үзіндісі Ақан серінің қай өлеңінен алынғандығын көрсетіңіз.
- A) “Заман туралы”
 - B) “Ақ көйлек”
 - C) “Жүсіп төреге”
 - D) “Заман адамы”
 - E) “Құлагер”
13. 15-16 жасында үй ішінің рұқсатынсыз Павлодарға қашып барып, екі сыныпты мектепке түскен жазушыны табыңыз.
- A) М.Жұмабаев.
 - B) Ж.Аймауытов.
 - C) С.Торайғыров.
 - D) С.Мұқанов.
 - E) Б.Майлин.
14. Қ.Аманжоловтың «Ақын өлімі туралы аңыз» поэмасындағы ердің атын табыңыз.
- A) Сәкен.
 - B) Төлеген.
 - C) Мағжан.
 - D) Абдолла.
 - E) Баубек.
15. 1881 жылы Жамбыл қай ақынмен айтысып, жеңіске жеткенін белгілеңіз.
- A) Сарбас.
 - B) Орынбай.
 - C) Шашубай.
 - D) Досмағанбет.
 - E) Құлмамбет.
16. “... Алпамсадай арысым едің... Қаңбақтай жеп-жеңіл боп қаусап қалғаның-ау!” - деп, ауру інісін төсектен көтеріп алатын балуан денелі жігіттің күйінуімен оқиғасы басталатын М.Әуезов шығармасын табыңыз.
- A) “Абай жолы”.
 - B) “Өскен өркен”.
 - C) “Қилы заман”.
 - D) “Қараш-Қараш оқиғасы”.
 - E) “Жетім”.

17. «Ш.Уәлиханов» пьесасының авторын белгілеңіз.
- A) Ғ.Мұстафин.
 - B) Ж.Аймауытов.
 - C) С.Сейфуллин.
 - D) С.Мұқанов.
 - E) М.Әуезов.
18. Ғ.Мұстафиннің өз өмірі жайлы жазған шығармасын табыңыз.
- A) «Көз көрген».
 - B) «Миллионер».
 - C) «Шығанақ».
 - D) «Ер Шойын».
 - E) «Қарағанды».
19. Эпифора терминінің қандай ұғымды білдіретіндігін анықтаңыз.
- A) Қатар жүру.
 - B) Бірден-бірге күшейте беру.
 - C) Биікке шығару.
 - D) Соңынан алып жүру.
 - E) Түсіріп тастау.
20. *Жігіттер! Бұл өлеңді жазған мәнім:
Емес қой жастықпенен салған әнім,
Қас қайсы, қаза қайсы, таза қайсы ?*
Аларсың, көп гибрат, байқағаның...,- деген үзінді Шәкәрімнің қай шығармасынан табыңыз.
- A) «Еңлік – Кебек».
 - B) «Қалқаман – Мамыр».
 - C) «Ақындарға».
 - D) «Бұл және бұрынғы әннен өзгерек».
 - E) «Жастарға».
21. Міржақып Дулатовтың «Азамат» атты өлеңдер жинағы Орынборда қай жылы басылып шыққанын анықтаңыз.
- A) 1907.
 - B) 1909.
 - C) 1910.
 - D) 1906.
 - E) 1913.
22. І.Жансүгіровтің «Құлагер» поэмасындағы Сағынайдың асында Құлагермен бірге жарысқа түскен аттың санын табыңыз.
- A) 900.
 - B) 1000.
 - C) 1500.
 - D) 500.
 - E) 1300.

23. Б.Майлиннің шығармаларындағы ұнамды қаһарманды көрсетіңіз.
- A) Қақ-соқпен ісі жоқ, момын, еңбекші, адал да аңқау жан.
 - B) Халқына қызмет ететін өнер иесі.
 - C) Коммунистік партия ісіне көзсіз берілген адам.
 - D) Өз қатарынан көп озып, алға шыққан белсенді күрескер.
 - E) Қатқыл, о жар мінезді қатал адам.
24. М.Әуезов драматургия саласында барлығы қанша шығарма (драма, комедия, трагедия, киносценарий, опера либреттосын) жазғанын табыңыз.
- A) Отыз екі.
 - B) Алпыс.
 - C) Елу
 - D) Отыз үш.
 - E) Отыз бес.
25. ”Автобиографиялық әңгімеде” аты ерекше аталатын адамның бірі кім екенін анықтаңыз.
- A) С.Сейфуллин.
 - B) Б.Өтетілеуов.
 - C) М.Әуезов.
 - D) Ғ.Мұстафин.
 - E) С.Мұқанов.

**ҚАЗАҚ ӘДЕБИЕТІ
ПӘНІНЕН СЫНАҚ БІТТІ**

АҒЫЛШЫН ТІЛІ

1. «A» әріпі үшінші буындағы түрде тұр
 - A) capital
 - B) trace
 - C) mark
 - D) captain
 - E) face
2. “clever” сөзінің антонимы:
 - A) fresh
 - B) old
 - C) silly
 - D) short
 - E) new
3. Берілген сөзге мағынасы бойынша тіркесетін вариантты анықтаңыз.

Bottle.

 - A) Milk.
 - B) Early.
 - C) Orange.
 - D) Stamp.
 - E) School.
4. Сөйлемнің мағынасын анықтайтын жауапты табыңыз.

Why are you going home?

 - A) To help my mother.
 - B) I can't go
 - C) At six o' clock.
 - D) Yes, I am.
 - E) By bus.
5. Артикльдің дұрыс нұсқасын қойыңыз:

I have ... lot of English books

 - A) a
 - B) on
 - C) an
 - D) the
 - E) -
6. Сөздің дұрыс аудармасын таңдаңыз:

Қалпына келтіру

 - A) Unestablish.
 - B) Establish.
 - C) Inestablish.
 - D) Disestablish.
 - E) Re-establish.

7. Саналатын зат есім:

- A) Butter.
- B) Wheat.
- C) Republic.
- D) Sugar.
- E) Peace.

8. Сөздің ретіне қарай сөйлем құраңыз.

brother / got / blue / has / eyes / your / ?
1 2 3 4 5 6

- A) 142635?
- B) 261435?
- C) 461235?
- D) 412365?
- E) 126354?

9. Етістікті аударыңыз.

Күлу

- A) to speak
- B) to read
- C) sing
- D) dance
- E) to laugh

10. Берілген әріптерден дұрыс құралған сөз табыңыз.

r, i, o, u, s, u, c, i, n.

- A) nicurious.
- B) incurious.
- C) siouricin.
- D) incuroius.
- E) curionous.

11. Дұрыс демеулікті таңдаңыз:

Before you leave, don't forget to turn ... the TV set.

- A) in.
- B) on;
- C) for;
- D) over;
- E) off;

12. Есімдіктің дұрыс нұсқасын таңдаңыз:

Who has taken my pen? -

- A) Me.
- B) I.
- C) My.
- D) Her.
- E) His.

13. Сөйлемді толықтырыңыз:

... is your father's profession?

- A) What
- B) Where
- C) How
- D) When
- E) Who

14. Зат есімнің жекеше түріндегі тәуелділік формасын таңдаңыз:

- A) Planes'
- B) Dogs'
- C) Plants'
- D) Aunt's
- E) Neighbours'

15. Future in the Past-тағы сөйлем

- A) He told me that he's already seen the play
- B) Learning a foreign language takes a long time
- C) Simon says he's not feeling well
- D) The pilot has just announced that the plane will land in half an hour
- E) He said that he wouldn't let him in

16. Етістіктің пассивтегі дұрыс формасын табыңыз:

The streets __ every morning (to clean).

- A) Are being cleaned.
- B) Are cleaning.
- C) Be cleaned.
- D) Is cleaned.
- E) Are cleaned.

17. Қажетгі модальді етістікті көрсетіңіз.

In football, you ... not touch the ball with your hands.

- A) had to.
- B) must.
- C) can't.
- D) should not.
- E) ought.

18. Етістіктің дұрыс нұсқасын таңдаңыз:

According to the weather forecast it ... cloudy tomorrow.

- A) Is.
- B) Going to be.
- C) Is going to be.
- D) Will.
- E) Was.

19. Сөйлемді толықтырыңыз.

Nowadays, the Queen....

- A) rules but does not reign;
- B) reigns but does not rule;
- C) rules.
- D) reigns and rules;
- E) rules and governs;

20. Қажетті сөзді қойыңыз.

Suddenly, a young man ... himself ... upon the path of the moving train.

- A) plunged / fully.
- B) pushed / sudden.
- C) slipped / at once.
- D) a leapt / a directly.
- E) hurled / directly.

21. Сөйлемге сәйкес келетін сөз:

The land near the sea is called ...

- A) a stone.
- B) a forest.
- C) a sand.
- D) a bank.
- E) a coast.

22. Фразеологизмге керекті сөзді қойыңыз:

Out of sight, out of ... Көзден таса, көңілден шет.

- A) Soul.
- B) Head.
- C) Heart.
- D) Brain.
- E) Mind.

23. Берілген саннан реттік сан есім жасаңыз

“100”

- A) hundredth
- B) hunderedth
- C) hundrith
- D) hundridith
- E) hundreh

24. Сөйлемде герундий толықтауыш ретінде тұр:

- A) Thank you for helping me.
- B) His hobby is collecting stamps.
- C) I like you idea of having some snack.
- D) Before having dinner you must wash your hands.
- E) Swimming is very healthful.

25. Тексті оқып тапсырманы орындаңыз.

Nowadays we are entertained by professionals. We can hear the greatest singer of the world on the radio, we can just sit comfortably at home and watch the game without going outside at all.

The art of conversation and writing letters is dying. People are becoming more and more lookers and less and less doers and talkers though it's much better to do something not very well oneself than always to sit and watch others doing it.

Сөйлемді текстің мағынасына сай аяқтаңыз.

Nowadays we

- A) don't entertain at all.
- B) we like to listen to our friend's singing.
- C) sit at home and don't go anywhere.
- D) play football with our children.
- E) prefer to be entertained by professionals.

**АҒЫЛШЫН ТІЛ
ПӘНІНЕН СЫНАҚ БІТТІ**

HEMIC TIJI**1. Етістікті қойыңыз.**

Ich ... damit vollig

A) habe / einverstanden

B) bin / einstanden

C) sei / verstanden

D) bin / einverstanden

E) bin / geeinverstanden

2. Керекті етістікті қойыңыз:

Unsere Stadt ... im Fruhling so schon.

A) Werde.

B) Hat.

C) Sind.

D) Wirst.

E) Wird.

3. Бұйрық райды дұрыс құрыңыз:

... bitte das Geschirr ab!

A) trockne

B) trocknen

C) trocknete

D) trockt

E) trocknest

4. Қажетті модаль етістікті қойыңыз:

Dieses Gemalde ... schone Gefuhle hervorrufen.

A) mag.

B) kann.

C) dürfen.

D) kannst.

E) darf.

5. Қажетті артикль қойыңыз:

Hochsprung ist ein Sprung uber _____ Brett.

A) Des.

B) Eines.

C) Einem.

D) Dem.

E) Ein.

6. Қажетті сөзді қойыңыз:

Die Erzählung ... war sehr interessant.

- A) des Mädchens.
- B) dem Mädchen.
- C) das Mädchen.
- D) die Mädchen.
- E) den Mädchen.

7. Қажетті есімдікті қойыңыз.

Wir müssen gehen, denn ... ist schon spät.

- A) das.
- B) was.
- C) kein.
- D) es.
- E) man.

8. Дұрыс варианты таңдаңыз:

Im Wohnzimmer rechts ... hängt das Photo meiner Eltern.

- A) an die Wand.
- B) an der Wand.
- C) an das Wand.
- D) auf dem Wand.
- E) in der Wand.

9. Қажетті сөзді қойыңыз:

Mein Bruder studiert in Berlin.

Aina studiert auch

- A) hierher.
- B) nicht dort.
- C) dorthin.
- D) dort.
- E) hier.

10. Етістікті қойыңыз:

Die Abiturprüfung ... Angelika an ihrem 19. Geburtstag.

- A) bestandet
- B) bestande
- C) bestand
- D) bestehte
- E) bestanden

11. Етістікті қойыңыз:

Der Baum ... von einem Blitz getroffen.

- A) werde
- B) wirst
- C) werden
- D) wurde
- E) wurdet

12. Артикльдерді қойыңыз:

Die Lehrerin erzählt ... Kindern ... Geschichte.

- A) Die / die.
- B) Der / die.
- C) Die / den.
- D) Den / eine.
- E) Den / einer.

13. Сәйкес келетін конструкциямен сүйлемді аяқтаңыз:

Der Aufsatz ist morgen

- A) zu abgegeben
- B) zu abgeben
- C) abgeben
- D) abzugeben
- E) zu abgaben

14. Женский род зат есімін табыңыз:

- A) Buch
- B) Federtasche
- C) Lineal
- D) Block
- E) Radiergummi

15. Қажетті нұсқасын табыңыз:

Man hat den Entwurf des _____ Architekten besprochen.

- A) Talentierte.
- B) Talentiert.
- C) Talentierten.
- D) Talentiertes.
- E) Talentierter.

16. Сан есімді таңдаңыз:

... Bild ist sehr schon.

- A) Das funfstes.
- B) Das funf.
- C) Das funfte.
- D) Das funfste.
- E) Das funfe.

17. Берілген сөздердің барлығы сын есім құрайтын жұрнақты анықтаңыз

rot, krank, schwach, lachen, der Mann

- A) -lich.
- B) -ung.
- C) -heit.
- D) -isch.
- E) -bar.

18. Сын есімнің шырайларын дұрыс қойыңыз.

... gefällt mir nur diese Bluse.

- A) lieber
- B) am besten
- C) gerner
- D) am meisten
- E) am liebsten

19. Көп нүктенің орнына дұрыс вариантты қойыңыз:

... wir die Natur lieben, wollen wir sie auch schützen.

- A) Deshalb.
- B) Dann.
- C) Da.
- D) Darum.
- E) Wann.

20. Партицип I-дің дұрыс формасын табыңыз:

Das gut . . . Mädchen hat alle Blumen auf dem Bilde sehr bunt bemalt.

- A) gemalene
- B) malende
- C) gemalte
- D) malene
- E) malte

21. Көпше түрі бар зат есімді табыңыз.

- A) die Butter
- B) die Butters
- C) der Regen
- D) der Befehl
- E) der Schnee

22. Сұрау сөзді дұрыс қойыңыз.

_ habt ihr 200 Euro borgen müssen?

- A) Wem
- B) Was
- C) Zu wem
- D) An wem
- E) Woher

23. Дұрыс вариантты таңдаңыз:

Arman lief schnell zur Haltestelle, aber ...

- A) Ist der Bus schon abgefahren.
- B) Der Bus war schon abgefahren.
- C) Der Bus schon ab.
- D) Der Bus schon abgefahren ist.
- E) Der Bus ist schon abgefahren.

24. Дұрыс вариантты қойыңыз:

Assel will Ärztin werden, ... lernt sie in der Schule sehr fleißig Chemie.

- A) Da.
- B) Denn.
- C) Dass.
- D) Weil.
- E) Darum.

25. Сөйлемнің қазақша эквивалентін көрсетіңіз:

Die Schüler haben einen Aufsatz zu schreiben.

- A) Оқушылар шығарма жазуға тиіс еді.
- B) Оқушылар шығарма жаза алар еді.
- C) Оқушылар шығарма жазды.
- D) Оқушылар шығарма жаза алады.
- E) Оқушылар шығарма жазуға тиіс.

**НЕМІС ТІЛІ
ПӘНІНЕН СЫНАҚ БІТТІ**

ФРАНЦУЗ ТІЛІ

1. Етістіктің Passe Compose қажетті формасын таңдаңыз.
Comme il pleuvait, il ... prendre son impermeable.
A) Va rentrer
B) Est rentre
C) Rentre
D) A rentre
E) Rentrera
2. Бірықсыз етіс қажетті түрін табыңыз:
Ce livre ... par elle.
A) Ai achete.
B) As achete.
C) A achetee.
D) A achete.
E) Est achete
3. Бұйық райдағы сөз тәртібінің қажетті түрін табыңыз:
Passez- le sel, s'il vous plait.
A) Moi.
B) Mes.
C) Tu.
D) Me.
E) Je.
4. Сілтеу сын есімнің дұрыс нұсқасын тап
Mon pere aime regarder ... emission ce soir.
A) Ce.
B) Ces.
C) Cet.
D) De.
E) Cette.
5. Реттік сан есімнің дұрыс нұсқасын табыңыз:
Le ... sportif court vite.
A) Douze.
B) Premier.
C) Onze.
D) Trois.
E) Deux
6. Қажетті әріпті табыңыз.
Bat...re _
A) C
B) N
C) E
D) I
E) T

7. Етістіктерді меңгеруінің дұрыс нұсқасын тап.
Le petit Rene a peur ... rester seul.
A) A.
B) Chez.
C) En.
D) Pour.
E) De.
8. Мағынасына сәйкес жалғаулықты табыңыз:
Tu ne la connais pas, moi
A) Ni.
B) Non plus.
C) Quand.
D) Donc.
E) Aussi.
9. Ерекше белгіленген сөзге антонимді табыңыз:
Nous **sommes montes** par l'ascenseur.
A) Sommes restes
B) Sommes partis
C) Sommes alles
D) Sommes sortis
E) Sommes descendus
10. Жәй өткен шақтың қажетті түрін табыңыз:
La fille de Jean le jour de Paques.
A) Naquit.
B) Naitre.
C) Naitra.
D) Naisse.
E) Ne.
11. Болымсыздық формасын дұрыс таңдаңыз.
....m'empeche ...de travailler, il me reste peu de temps.
A) Ne pas /-
B) Ne / pas
C) Ne /-
D) Ne / personne
E) Ne plus /-
12. Осы шақ есімше формасын табыңыз
Les tableaux ____ ce mur sont tres beaux..
A) Decorant.
B) Decorer.
C) Decore.
D) En decorant.
E) Decores.

13. Бағыныңқы сөйлемге етістіктің дұрыс түрін табыңыз.

C'est le plus beau tableau que nous (admirer).

- A) admirons
- B) admirions
- C) admirerons
- D) avons admire
- E) avions admire

14. Қажетті артикльді таңдаңыз:

J'aime ... musique. J'écoute ... musique.

- A) Le / de
- B) Une / une.
- C) Le / de la
- D) La / de la.
- E) Un / de

15. Ерекше белгіленген сөз тіркесін қажетті есімдікпен ауыстырыңыз:

Nous parlons **a nos soeurs.**

- A) a elles
- B) nous
- C) les
- D) a eux
- E) leur

16. Мына сөз қай сөз табына жатады:

Bombardement.

- A) Есімше
- B) Герундий
- C) Үстеу
- D) Етістік
- E) Зат есім

17. Берілген сөз қай сөз табына жатады?

Rapidement.

- A) Есімше.
- B) Зат есім.
- C) Үстеу.
- D) Етістік.
- E) Есімдік.

18. Мына сұрақтың дұрыс жауабын табыңыз.

Cet homme est un ingénieur et constructeur français. Son premier projet est celui d'un pont pour le chemin de fer. Mais il devient célèbre grâce à la construction d'une tour qui est actuellement le symbole de Paris.

Qui est-ce?

- A) Gustave Eiffel.
- B) Rouget de Lisle.
- C) Louis Pasteur.
- D) Jacques- Ives Cousteau.
- E) Henri Becquerel.

19. Аударманың дұрыс вариантын көрсетіңіз.

Ең жақсы дос.

- A) Un ami bon.
- B) Meilleur ami.
- C) L'ami meilleur.
- D) Le meilleur ami.
- E) Un bon ami.

20. Есімдіктік етістіктің дұрыс нұсқасын тап

Après les cours je (se reposer) un peu et je (faire) mes devoirs

- A) Vous reposez/ vous faites.
- B) Me repose/ te fais.
- C) Me repose/ fais.
- D) Me repose/ me fais.
- E) Te reposes/ nous faisons.

21. Етістіктің қажетті формасын табыңыз:

Si je ne trouvais rien ici, j' _____ dans un autre magasin.

- A) ira
- B) irais
- C) vais
- D) allais
- E) irai

22. Етістіктің қажетті формасын таңдаңыз:

Mon ami racontait comment il (passer) son examen hier.

- A) Passe.
- B) Avait passé.
- C) A passé.
- D) Passait.
- E) Eut passé.

23. Ыңғайлы вариантты көрсетіңіз.

Venez voir notre nouvel appartement ... nous sommes tres contents.

- A) que.
- B) celle.
- C) qui.
- D) dont.
- E) celui.

24. Қажеттісін таңдаңыз:

C'est un des departements d'outre mer de la France.

- A) l'Andorre
- B) la Corse
- C) La Manche
- D) la Martinique
- E) la Polynesie Francaise

25. Дұрыс нұсқасын тап.

Philippe etait un jeune homme qui habitait une petite ville francaise. Il travaillait ouvrier en reparant l'electricite, les moteurs des machines a laver, des bicyclettes. Parfois il faisait le travail d'un plombier, reparant la canalisation, les robinets.

Il travaillait

- A) Chez Renault.
- B) Dans un laboratoire.
- C) Dans l'agence de voyages.
- D) Dans un bureau de depannage.
- E) Dans une grande Universite.

ФРАНЦУЗ ТІЛІ
ПӘНІНЕН СЫНАҚ БІТТІ