

ҚАЗАҚСТАН РЕСПУБЛИКАСЫ  
БІЛІМ ЖӘНЕ ҒЫЛЫМ МИНИСТРЛІГІ

ҰЛТТЫҚ ТЕСТЛЕУ ОРТАЛЫҒЫ

БАЙҚАУ СЫНАҒЫ

СҰРАҚ КІТАПШАСЫ

7004 - НҰСҚА

Аты-жөні \_\_\_\_\_

ТЖК \_\_\_\_\_ Жауап парағының № \_\_\_\_\_

Лек \_\_\_\_\_ Аудитория № \_\_\_\_\_ Орын № \_\_\_\_\_

Бесінші пән аты \_\_\_\_\_

Талапкердің қолы \_\_\_\_\_

Сектор 5			
Нұсқа:			
7	0	0	4
①	①	①	①
②	②	②	②
③	③	③	③
④	④	④	●
⑤	⑤	⑤	⑤
⑥	⑥	⑥	⑥
●	⑦	⑦	⑦
⑧	⑧	⑧	⑧
⑨	⑨	⑨	⑨
⑩	●	●	⑩



2010

**ҚАЗАҚ ТІЛІ**

1. Архаизм сөздерді қай топ қатарына жатқызамыз, табыңыз.
  - A) Омоним.
  - B) Синоним.
  - C) Табу.
  - D) Эвфемизм.
  - E) Көнерген сөздер.
2. Ашық дауыстылардан құралған сөзді көрсетіңіз.
  - A) Бейсенәлі.
  - B) Әлдеқашан.
  - C) Күйзеліс.
  - D) Ойыншық.
  - E) Кінәрат.
3. "Жолсерік" сөзіндегі буын санын анықтаңыз.
  - A) 3.
  - B) 5.
  - C) 4.
  - D) 1.
  - E) 2.
4. Қысқарған сөзге қосымшаның дұрыс жалғануын табыңыз.
  - A) ҚРның
  - B) БҰҰ-ға
  - C) педколледж-ге
  - D) смдей
  - E) ХШЖК не
5. Тәуелдік жалғауынан соң жалғанып тұрған жатыс жалғауын табыңыз.
  - A) Көшеде.
  - B) Өндірісімді.
  - C) Қаласына.
  - D) Үйімде.
  - E) Орманда.
6. Бөлшектік сан есімді белгілеңіз.
  - A) Екі-үштен.
  - B) Миллион.
  - C) Төртеу.
  - D) Бес бүтін оннан екі.
  - E) Елуінші.
7. Шығыс септігінде тұрған есімдікті анықтаңыз.
  - A) Онымен.
  - B) Одан.
  - C) Ол.
  - D) Оған.
  - E) Оның.

8. Еліктеу сөзді табыңыз.
- A) Көрік.
  - B) Жылп.
  - C) Уақыт.
  - D) Ерлік.
  - E) Сауық.
9. Сұрау есімдігі арқылы келген сөйлем көбінде қай қатарға тән, көрсетіңіз.
- A) Құрмалас сөйлем.
  - B) Бұйрықты сөйлем.
  - C) Жақсыз сөйлем.
  - D) Толымды сөйлем.
  - E) Сұраулы сөйлем.
10. Антонимдік жұпты көрсетіңіз.
- A) Жүдеу - жұбату.
  - B) Сұлу- көрікті.
  - C) Момақан - бұйығы.
  - D) Берік - осал.
  - E) Кесінді - қиынды.
11. «Көзді ашып-жұмғанша» тұрақты сөз тіркесінің синонимін табыңыз.
- A) Ұзын арқан, кең тұсау.
  - B) Жүрегінің түгі бар.
  - C) Көзі ашық.
  - D) Қас қаққанша.
  - E) Қолы ұзын.
12. Дұрыс жазылған сөзді белгілеңіз.
- A) Метал.
  - B) Комунар.
  - C) Махаббат.
  - D) Апарат.
  - E) Касета.
13. Күрделі сын есімді табыңыз.
- A) Мерекеге ұласу.
  - B) Басынан таяқ арылмау.
  - C) Бидай өнді.
  - D) Егінді күту.
  - E) Өнерлеріне разы.
14. Ауыспалы осы шақта тұрған сөзді табыңыз.
- A) Лагерге бармақ.
  - B) Әңгіме айт.
  - C) Мен ертең келермін.
  - D) Сен қайда бара жатырсың?
  - E) Ол ерте тұрады.

15. Матаса байланысқан сөздерді табыңыз.
- A) Ауылдың азаматы.
  - B) Бізді көрді.
  - C) Үйге шейін жүрді.
  - D) Көрмеге кетті.
  - E) Қатал тағдыр.
16. Пысықтауыш қатысып тұрған сөйлемді анықтаңыз.
- A) Асқар тауды кеуделеп жүріп келеміз.
  - B) Омар жолдасымен кездесті.
  - C) Ауыл ақсақалы жастарға алғыс айтты.
  - D) Тақырыбы дұрыс емес.
  - E) Жас мұраты – білім.
17. Атаулы сөйлемді табыңыз.
- A) Осыны саған ескертуге тура келді.
  - B) Қу шөппен аузын сүртті.
  - C) Жазық дала.
  - D) Оған таңдануға болмайды.
  - E) Базар апайды бұл маңайда білмейтін адам жоқ.
18. Қаратпа сөзді табыңыз.
- A) Қаражан-ай, қандай батыр едің.
  - B) Бас кеспек бар, тіл кеспек жоқ.
  - C) Сіздіңше, тағы да қосымша күш керек пе?
  - D) Жас қазақ жатты көзі ойнап.
  - E) Кім біледі, бұл өтірік шығар.
19. Стиль түрін анықтаңыз.
- Тұзуші ұлпалар сабақтың тамыр ұясында болады.*
- A) Ресми іс-қағаздар.
  - B) Публицистикалық.
  - C) Ауызекі сөйлеу.
  - D) Көркем әдебиет.
  - E) Ғылыми.
20. Бірыңғай күрделі сөздер қатарын табыңыз.
- A) Жалғау, Әліби.
  - B) Жолсерік, той-томалақ.
  - C) Фотосурет, қалам.
  - D) ҚазТАГ, балалық.
  - E) Күздігүні, дала.
21. Жанасудың бірінші сыңары-неше сөз, белгілеңіз.
- Ертеден қара кешке дейін оқи бермекпісің?*
- A) Үшеу.
  - B) Екеу.
  - C) Төртеу.
  - D) Бесеу.
  - E) Біреу.

22. Кейде түбірмен бірге жазылатын шылауды көрсетіңіз.
- A) ма, ме.
  - B) да, де.
  - C) ақ, ай.
  - D) туралы, жөнінде.
  - E) үшін, дейін.
23. Шартты бағыныңқы сабақтас сөйлемді табыңыз.
- A) Асқар онша әнші болмағанмен, музыкалық сауаттылығы жоғары еді.
  - B) Құлыншақ бірде қол кісі, бірде шал кісі.
  - C) Қоңырау соғылды.
  - D) Түйе екеш түйе де керек: әрі көлік әрі асыл жүні бар.
  - E) Екпей, егін бітпес, үйренбей, білім бітпес.
24. Төл сөздің тыныс белгісін анықтаңыз.
- Кеше кешке жолдасы Қарқаралыда әлі екі-үш күн боламыз деген болатын.*
- A) Қос нүкте, тырнақша, үтір, сызықша.
  - B) Тырнақша, үтір, сызықша.
  - C) Сызықша, қос нүкте, тырнақша.
  - D) Қос нүкте, сызықша, леп белгісі.
  - E) Қос нүкте, тырнақша.
25. Қос нүктенің қойылу себебін белгілеңіз.
- Еңбек қылмай тапқан мал дәулет болмас: қардың суы секілді тез суалар.*
- A) Жалпылауыш сөз.
  - B) Ыңғайлас салалас.
  - C) Себеп-салдар салалас.
  - D) Қарсылықты салалас.
  - E) Кезектес салалас.

**ҚАЗАҚ ТІЛІ  
ПӘНІНЕН СЫНАҚ АЯҚТАЛДЫ**

## ОРЫС ТІЛІ

1. Укажите согласный звук:
  - A) [ы]
  - B) [у]
  - C) [й]
  - D) [и]
  - E) [э]
2. Слово с правильным переносом:
  - A) кн-ига
  - B) каранда-аш
  - C) сто-л
  - D) шко-ла
  - E) взя-ть
3. Существительное мужского рода:
  - A) степь
  - B) год
  - C) речь
  - D) вещь
  - E) облако
4. На конце наречий *слев..., нежн..., вправ..., докрасн...* пишутся:
  - A) -а, -а, -а, -а
  - B) -о, -а, -а, -а
  - C) -а, -о, -о, -а
  - D) -о, -а, -а, -е
  - E) -а, -а, -а, -е
5. Управление:
  - A) спать крепко
  - B) сильный снегопад
  - C) официальный отказ
  - D) ваши солдаты
  - E) предупредить об опасности
6. Укажите примыкание:
  - A) писать письмо
  - B) пишется писателем
  - C) писать другу
  - D) писать ручкой
  - E) писать аккуратно
7. Вопросы определений:
  - A) Кого? Чего?
  - B) Где? Когда?
  - C) Какой? Чей?
  - D) Зачем? Почему?
  - E) О ком? О чем?

8. Укажите сложносочиненное предложение с разделительным союзом.
- А) То светит солнце, то идет дождь.
  - В) Луга за Волгой окрасились в бурый цвет, в городе также все краски поблекли.
  - С) Но и этот семидесятилетний старик живет не только прошлым, а и заботами сегодняшнего дня.
  - Д) Юрка скосил глаза, но земли не увидел.
  - Е) Я отправился пешком, а Павел Митрич ехал за мной верхом.
9. Укажите, чем осложнено предложение:  
*Приду осенью, в октябре.*
- А) обособленным обстоятельством
  - В) уточняющим членом
  - С) вводным словом
  - Д) обособленным приложением
  - Е) обособленным дополнением
10. Укажите пару антонимов:
- А) вперед - назад
  - В) стукнуть - ударить
  - С) метель - вьюга
  - Д) старый - древний
  - Е) примерно - приблизительно
11. Укажите количество прилагательных в единственном числе:  
*Шокан был не только замечательным ученым, но и художником, лингвистом, хорошо знал арабский, персидский, французский, немецкий языки, русскую, восточную, европейскую литературу.*
- А) 4
  - В) 2
  - С) 6
  - Д) 8
  - Е) 10
12. Укажите числительное с мягким знаком на конце:
- А) 200 квартир
  - В) 16 принтеров
  - С) 40 карандашей
  - Д) 800 телефонов
  - Е) 60 компьютеров
13. Краткую форму можно образовать от причастия:
- А) рисующий
  - В) открывший
  - С) внесенный
  - Д) пишущий
  - Е) читающий

14. Предложение с деепричастным оборотом:
- А) Ветер дует порывами, постоянно меняя свое направление.
  - Б) Где не было начала, не будет и конца.
  - С) Он лежал в поле и тихо наблюдал за облаком.
  - Д) Утром по радио передавали о движущемся с севера циклоне.
  - Е) Лентяю все не можется да нездоровится.
15. Производный предлог:
- А) жить возле
  - Б) почистить внутри
  - С) наклеить вдоль
  - Д) посмотри вокруг
  - Е) вблизи села
16. *Машина двигалась к станции.*  
Вопрос обстоятельства в предложении
- А) Где?
  - Б) Куда?
  - С) По какой причине?
  - Д) Почему?
  - Е) Откуда?
17. Укажите тип предложения:  
*Двое из артистов выглядывали из-за кулис.*
- А) Двусоставное полное
  - Б) Односоставное неопределённо-личное
  - С) Односоставное безличное
  - Д) Односоставное определённо-личное
  - Е) Односоставное обобщённо-личное
18. Укажите назывное предложение:
- А) Шумят на просторе весенние воды.
  - Б) Тихо бреду вдоль решёток канала.
  - С) Липким запахом веет полынь.
  - Д) Жаркий полдень поздней осени.
  - Е) Надо воспитывать в людях совесть и ясность в уме.
19. Укажите вид связи в сложном предложении:  
*Ему было некогда – жизнь заранее была рассчитана так, чтобы успеть написать не меньше пятидесяти романов.*
- А) сочинительная и подчинительная
  - Б) подчинительная
  - С) сочинительная
  - Д) бессоюзная связь и подчинительная
  - Е) сочинительная и бессоюзная связь



20. Словосочетание не является фразеологизмом:
- A) Посвятил песню
  - B) На скорую руку
  - C) Висеть на телефоне
  - D) Окунуться с головой
  - E) С грехом пополам
21. Укажите слова с приставками-синонимами:
- A) надземный - подземный
  - B) прилететь-улететь
  - C) выгнать- изгнать
  - D) влететь - вылететь
  - E) примчаться-умчаться
22. Укажите ряд слов, образованных путём сложения начальных звуков:
- A) СМИ
  - B) АТС
  - C) мостовая
  - D) аэропорт
  - E) школа-интернат
23. Укажите синтаксическую роль глагола в предложении:  
*Во время этого похода в горы я буду вожатым.*
- A) составное именное сказуемое
  - B) составное глагольное сказуемое
  - C) простое глагольное сказуемое
  - D) сказуемое + определение
  - E) сказуемое + обстоятельство
24. Укажите сложноподчиненное с придаточным изъяснительным:
- A) Солнце уже садилось, когда я выбирался из леса.
  - B) В лесу надо действовать так, чтобы растерянность никогда не приходила к тебе.
  - C) Друзья встретились там, где когда-то учились вместе.
  - D) На улице стало так светло, словно её осветили десятком прожекторов.
  - E) Я рассказал внуку, что кукушка единственная из всех птиц подкладывает свои яйца в чужие гнезда.
25. Схема предложения.  
*Когда она вновь их открыла, Григ заметил, что зрачки у нее зеленоватые.*
- A) [ ], ( ), ( ), ( ).
  - B) [ ], ( ), ( ).
  - C) [ , ( ), ].
  - D) ( ), [ ], ( ).
  - E) [ ], ( ).

**ҚАЗАҚСТАН ТАРИХЫ**

1. Тас өңдеу биік деңгейге көтерілген кезең:
  - A) Ерте палеолит.
  - B) Орта палеолит.
  - C) Мезолит.
  - D) Неолит.
  - E) Кейінгі палеолит.
2. 751 ж. Атлах қаласының жанында үлкен шайқас болды:
  - A) Арабтар мен түркештер арасында.
  - B) Соғдылықтар мен арабтар арасында.
  - C) Оғыздар мен қытайлар арасында.
  - D) Арабтар мен қытайлар арасында.
  - E) Соғдылықтар мен қытайлар арасында.
3. Ежелгі және орта ғасырлардағы Шығыс пен Батысты байланыстырған жол:
  - A) Ұлы Жібек жолы
  - B) Лазуриттік жол
  - C) Варягтан Грецияға дейінгі жол
  - D) Дала жолы
  - E) Нефриттік жол
4. Шығыстың атақты ғалымы, екінші ұстаз, IX-X ғғ. өмір сүрген данышпан адам:
  - A) Әл-Бируни.
  - B) Гардизи.
  - C) Әл-Фараби.
  - D) Ахмет Йасауи.
  - E) Ибн-Батута.
5. Тәуке ханның заңдар жинағы:
  - A) «Жеті Жарғы»
  - B) «Далалық заңдары»
  - C) «Хан жарлығы»
  - D) «Заңдар жинағы»
  - E) «Жылнамалар жинағы»
6. Әбілқайырды 1748 жылы өлтірген:
  - A) Әбілмәмбет
  - B) Қайып
  - C) Барақ сұлтан
  - D) Нәдір шах
  - E) Әбілпайыз

7. С.Датұлы бастаған Кіші жүз қазақтарының көтерілісі болды:
- A) 1785-1795 жж.
  - B) 1783-1797 жж.
  - C) 1787-1797 жж.
  - D) 1781-1787 жж.
  - E) 1775-1787 жж.
8. 1867-1868 жылғы Ережеге сәйкес уезд бастығын тағайындайтын басшы:
- A) әскери губернатор
  - B) облыстық басқарма төрағасы
  - C) генерал-губернатор
  - D) атаман
  - E) вице-губернатор
9. Патшаның бұратана халықтарды тыл жұмыстарына алу жөніндегі жарлығы шыққан жыл:
- A) 1917 жылы.
  - B) 1914 жылы.
  - C) 1916 жылы.
  - D) 1918 жылы.
  - E) 1915 жылы.
10. "Жер дегеніміз - мемлекеттің негізі, оны қалай береміз" деген ғұн басшысы:
- A) Чжи-Чжи
  - B) Мөде
  - C) Бумын
  - D) Мұқан
  - E) Аттила
11. Ноғай Ордасының құрылуына себеп болды:
- A) Темір билігінің әлсіреуі
  - B) Алтын Орданың ыдырауы
  - C) Шағатай ұлысының ыдырауы
  - D) Әбілқайыр хандығының әлсіреуі
  - E) Сібір хандығының әлсіреуі
12. Керей мен Жәнібек бастаған қазақтарды қолдаған Моғолстан ханы:
- A) Ілияс Қожа.
  - B) Қоңыр Қожа.
  - C) Уәйіс.
  - D) Тоғылық Темір.
  - E) Есен Бұға.
13. Қазақ хандығында он немесе он бес аймақтан құралған:
- A) ұлыс
  - B) жүз
  - C) арыс
  - D) ру
  - E) ауыл

14. XIX ғасырдың 60 жылдары Верныйда тұрған ғалым, саяхатшы:
- A) Даль.
  - B) Васильев.
  - C) Уәлиханов.
  - D) Григорьев.
  - E) Ахшарумов.
15. XIX ғасырдың аяғында өз еркімен өндіріс орындарын тастап кеткен жұмысшыларға қолданылатын жаза:
- A) Сібірге айдау
  - B) өлім жазасына кесу
  - C) 3 ай абақтыға жабу
  - D) құн төлету
  - E) дүре соғу
16. 1906 жылы қазақ шаруалары отаршыл жер саясатына ашық қарсылық көрсеткен Семей облысындағы уезд:
- A) Жаркент
  - B) Қарқара
  - C) Перовск
  - D) Қарқаралы
  - E) Әулиеата
17. Революцияға дейінгі қазақ зиялылар өкілдерінің бірі, шебер аудармашы:
- A) Ғ.Мүсірепов
  - B) Ә.Тәжібаев
  - C) Қ.Аманжолов
  - D) Ж.Молдағалиев
  - E) Ә.Бөкейханов
18. 1979 жылы «Неміс автономиясын» құруға қарсы жастар қозғалысы болған қала:
- A) Алматы.
  - B) Көкшетау.
  - C) Теміртау.
  - D) Қарағанды.
  - E) Целиноград.
19. 1990 жылы Қазақстан мен Қытай арасындағы ашылған автобус қатынасы:
- A) Жаркент-Инин
  - B) Астана-Шанхай
  - C) Алматы-Пекин
  - D) Жаркент-Үрімші
  - E) Алматы-Инин

20. Сақ, сармат, үйсін тайпаларының келбеттері андроновтықтарға ұқсас екендігін айтқан антрополог ғалым:
- A) Ж. Таймағанбетов
  - B) Ә.Марғұлан
  - C) К.В. Сальников
  - D) О. Смағұлов
  - E) К. Ақышев
21. X-XII ғасырларда Қарахан мемлекеті кезінде салынған сәулет өнерінің тамаша туындысы:
- A) Дәуітбек кесенесі
  - B) Көккесене
  - C) Қожа Ахмет Иассауи кесенесі
  - D) Тектұрмас кесенесі
  - E) Айша бибі кесенесі
22. Париждегі дүниежүзілік көрмеге қазақ зергерлерінің заттары қойылған жыл:
- A) 1855 жыл
  - B) 1868 жыл
  - C) 1874 жыл
  - D) 1865 жыл
  - E) 1852 жыл
23. Перовск (Қызылорда) Кеңесі өкімет билігін өз қолына алды:
- A) 1918 жыл мамыр.
  - B) 1918 жыл наурыз.
  - C) 1918 жыл қаңтар.
  - D) 1917 жыл қараша.
  - E) 1917 жыл қазан.
24. Ұлы Отан соғысы жылдарында 18 жасар ең жас қазақстандық Кеңес Одағының Батыры атанды:
- A) Т.Бигелдинов
  - B) Ж.Елеусізов
  - C) Қ.Аухадиев
  - D) Р.Қошқарбаев
  - E) Қ.Қайсенов
25. Екінші дүниежүзілік соғыстан кейін жоғарыдан төмен қарай, иерархиялық-пирамидалық құрылымға айналған ұйым:
- A) Кеңес Одағының коммунистік партиясы.
  - B) Кеңес Одағының социалистік партиясы.
  - C) Социал- демократиялық партия.
  - D) Кеңес Одағының большевиктік партиясы.
  - E) Халықтық-демократиялық майдан.

**МАТЕМАТИКА**

1. Көбейткіштерге жіктеңіз:  $x^2 - 3x + 2$ .

A)  $x(x + 1)$ .

B)  $(x + 1)(x - 3)$ .

C)  $(x - 1)(x - 2)$ .

D)  $(x - 1)(x + 2)$ .

E)  $(x + 1)(x - 2)$ .

2. Өрнекті ықшамдаңыз:  $\frac{x^2}{(x-2)^2} - \frac{4}{(2-x)^2}$ .

A)  $\frac{x^2 - 4}{x^2 + 4}$ .

B)  $\frac{x+2}{x-2}$ .

C)  $-\frac{x}{x+2}$ .

D) 1.

E)  $x^2 + 4$ .

3. 72 санын 12,5 % кемітіңіз.

A) 9.

B) 63.

C) 11.

D) 70,2.

E) 64,8.

4. Теңсіздікті шешіңіз:  $x^2 - 8x + 15 \geq 0$ .
- A)  $(-\infty; 1] \cup [4; +\infty)$ .
  - B)  $(-\infty; 1] \cup [2; +\infty)$ .
  - C)  $(-\infty; 4] \cup [-\infty; 8)$ .
  - D)  $(-\infty; 5] \cup [-\infty; -6)$ .
  - E)  $(-\infty; 3] \cup [5; +\infty)$ .
5. Теңдеуді шешіңіз:  $\sqrt{x+4} = 15$
- A) 221; 11.
  - B) -19.
  - C) 11.
  - D) 221.
  - E) түбірі жоқ.
6. Өрнектің мәнін есептеңіз:  $\sin(\arcsin \frac{1}{3})$
- A)  $\sin \frac{1}{3}$
  - B)  $-\frac{1}{3}$
  - C) 1
  - D)  $\arcsin \frac{1}{3}$
  - E)  $\frac{1}{3}$

7.  $f(x) = \arccos(2x - 1)$ .  $f(0)$  - ді табыңыз.
- A)  $\frac{\pi}{2}$ .
  - B)  $\pi$ .
  - C)  $3\pi$ .
  - D)  $2\pi$ .
  - E)  $\frac{\pi}{4}$ .
8. Тең бүйірлі үшбұрыштың бір бұрышы  $100^\circ$ -қа тең. Қалған бұрыштарын табыңыз.
- A)  $40^\circ; 40^\circ$ .
  - B)  $70^\circ; 80^\circ$ .
  - C)  $30^\circ; 70^\circ$ .
  - D)  $50^\circ; 30^\circ$ .
  - E)  $60^\circ; 20^\circ$ .
9. АВ диаметрінің ұштары  $A(1; -5)$ ,  $B(3; 1)$  болатын шеңбердің центрінің координаттарын табыңыз.
- A)  $(-1; 2)$
  - B)  $(1; 2)$
  - C)  $(2; -2)$
  - D)  $(-1; -2)$
  - E)  $(1; -1)$



10. Есептеңіз:  $\frac{1 - \frac{9}{25} : \frac{3}{5}}{\left(0,2 - \frac{3}{40}\right) \cdot 1,6}$

A)  $\frac{3}{16}$

B)  $\frac{1}{2}$

C)  $\frac{2}{25}$

D) 2

E)  $\frac{16}{3}$

11. Теңдеуді шешіңіз:  $3y - 3y^3 = y^2 - y^4$

A) -3; -1; 0; 1.

B) 0; 1; 3.

C) -3; -1; 0; 3.

D) -1; 0; 1; 3.

E) -1; 0; 3.

12. Теңдеулер жүйесін шешіңіз: 
$$\begin{cases} 6^x - 2 \cdot 3^y = 2 \\ 6^x \cdot 3^y = 12 \end{cases}$$

A)  $(0; \log_3 2)$

B)  $(0; 1)$

C)  $(1; 3)$

D)  $(1; \log_3 4)$

E)  $(1; \log_3 2)$

13. Теңдеуді шешіңіз:  $\log_3 x = \frac{1}{2} \log_3 16 + 3 \log_3 0,5$ .

- A) 12,5.
- B) 6,5
- C) 0,5.
- D) 9,5.
- E) 16,5.

14. Теңсіздікті шешіңіз:  $2^{\frac{7x-1}{7x-2}} \geq 4$

- A)  $\left(-\infty; \frac{1}{7}\right) \cup \left(\frac{1}{7}; +\infty\right)$
- B)  $\left(-\infty; \frac{2}{7}\right) \cup \left(\frac{2}{7}; \frac{3}{7}\right]$
- C)  $\left(\frac{1}{7}; \frac{2}{7}\right) \cup \left(\frac{2}{7}; \frac{3}{7}\right)$
- D)  $\left(\frac{2}{7}; \frac{3}{7}\right]$
- E)  $\left(\frac{1}{7}; \frac{3}{7}\right)$

15. Ықшамдаңыз:  $\frac{1}{\operatorname{tg} \alpha} + \frac{\sin \alpha}{1 + \cos \alpha}$ .

- A)  $\frac{1}{\cos \alpha}$ .
- B)  $\operatorname{tg} \alpha$ .
- C)  $\cos \alpha$ .
- D)  $\sin \alpha$ .
- E)  $\frac{1}{\sin \alpha}$ .

16. Арифметикалық прогрессияның он төртінші мүшесі 140 тең, ал алғашқы он төрт мүшесінің қосындысы 1050. Осы прогрессияның бірінші мүшесі мен айырымын табыңыз.

A)  $a_1 = 1060; d = -\frac{101}{13}$ .

B)  $a_1 = 10; d = 10$ .

C)  $a_1 = 70; d = \frac{70}{13}$ .

D)  $a_1 = 10; d = -10$ .

E)  $a_1 = \frac{70}{13}; d = 70$ .

17.  $f(x) = 2\operatorname{ctg}x$  функциясының туындысын табыңыз.

A)  $-\frac{2}{\sin^2x}$ .

B)  $\frac{2}{\cos^2x}$ .

C)  $-2\sin x \cdot \cos x$ .

D)  $-\frac{\sin 2x}{2}$ .

E)  $\frac{\sin 2x}{2}$ .

18.  $f(x) = 1,5x^4 + 3x^3$  функциясының экстремум нүктелерін табыңыз.

A) экстремум нүктелері жоқ

B)  $x_{\min} = 0, x_{\max} = -1,5$

C)  $x_{\max} = 1,5$

D)  $x_{\min} = -1,5, x_{\max} = 0$

E)  $x_{\min} = -1,5$

19. Трапецияның бір табаны екіншісінен 7 дм артық, биіктігі 8 дм, ал ауданы  $96 \text{ дм}^2$ . Табандарын табыңыз.

- A) 10 дм; 11 дм
- B) 8 дм; 13 дм
- C) 8 дм; 15 дм
- D) 8,5 дм; 15,5 дм
- E) 9 дм; 16 дм

20. Теңдеуді шешіңіз:  $\frac{0,1(6) + 0,(3)}{0,(3) + 1,1(6)} \cdot x = 10$ .

- A) 10.
- B) 31,8.
- C) 30.
- D) 0,5.
- E) 32.

21. Есептеңіз:  $\frac{2 \sin \alpha + \sin 2\alpha}{2 \sin \alpha - \sin 2\alpha}$ , мұндағы  $\cos \alpha = \frac{1}{5}$

- A) 1
- B)  $\frac{3}{2}$
- C) -1
- D)  $\frac{1}{2}$
- E)  $-\frac{3}{2}$

22. Функцияның анықталу облысын табыңыз:  $y = \sqrt{1 - 2 \cos 2x}$

A)  $\left[ \frac{\pi}{6} + \pi n, \frac{5\pi}{6} + \pi n \right], n \in \mathbb{Z}$

B)  $\left( \frac{\pi}{4} + \pi n, \frac{3\pi}{4} + \pi n \right), n \in \mathbb{Z}$

C)  $\left( \frac{\pi}{8} + \frac{\pi n}{2}, \frac{3\pi}{8} + \frac{\pi n}{2} \right), n \in \mathbb{Z}$

D)  $\left[ \frac{\pi}{8} + \frac{\pi n}{2}, \frac{3\pi}{8} + \frac{\pi n}{2} \right], n \in \mathbb{Z}$

E)  $\left[ -\frac{\pi}{4} + \pi n, \frac{\pi}{4} + \pi n \right], n \in \mathbb{Z}$

23. Мына сызықтармен шектелген фигураның ауданын табыңыз:  $y = x^2$  және  $x = y^2$ .

A)  $\frac{2}{3}$ .

B)  $1\frac{1}{3}$ .

C)  $\frac{1}{3}$ .

D) 1.

E)  $\frac{1}{2}$ .

24.  $\alpha$  жазықтығы  $\beta$  жазықтығына параллель, ал  $\beta$  жазықтығы  $\gamma$  жазықтығына перпендикуляр.  $\alpha$  және  $\gamma$  жазықтықтарының өзара орналасуы

A) перпендикуляр

B) параллель немесе беттеседі

C) қиылысады

D) параллель

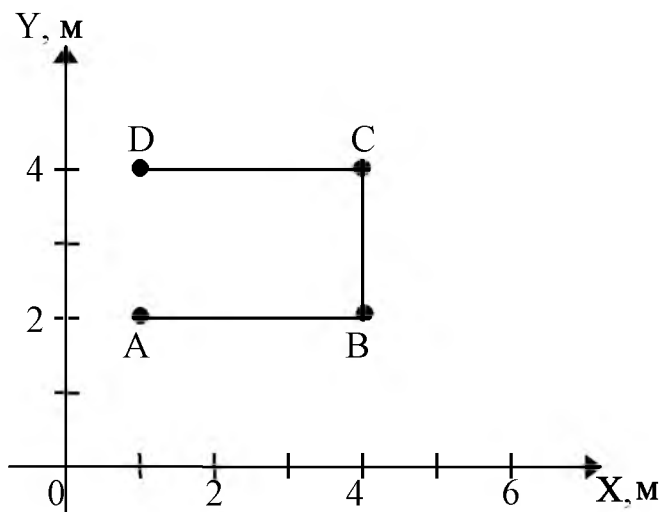
E) параллель немесе қиылысады

25. Сфераның радиусы 3 тең бөлікке бөлінген. Осы нүктелер арқылы радиусқа перпендикуляр жазықтықтар жүргізілген. Қималардың ұзындықтарының айырмасы  $6(2\sqrt{2} - \sqrt{5})\pi$  болса, сфераның ауданын табыңыз.
- A)  $312\pi$
  - B)  $362\pi$
  - C)  $33\pi$
  - D)  $324\pi$
  - E)  $35\pi$

**МАТЕМАТИКА**  
**ПӘНІНЕН СЫНАҚ БІТТІ**

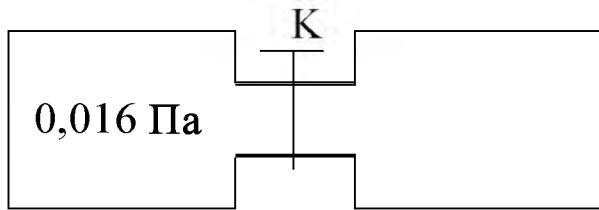
## ФИЗИКА

1. Қозғалыс траекториясы суретте ABCD сызығымен кескінделген дененің жүріп өткен жолы



- A) 8 м  
B) 5 м  
C) 4 м  
D) 2 м  
E) 3 м
2. Массасы 8 кг дене  $0,5 \text{ м/с}^2$  үдеу алғандағы әсер күші  
A) 40 Н  
B) 200 Н  
C) 4 Н  
D) 400 Н  
E) 20 Н
3. 4 м/с жылдамдықпен қозғалып келе жатқан массасы 2 кг дененің кинетикалық энергиясы  
A) 4 Дж.  
B) 32 Дж.  
C) 36 Дж.  
D) 8 Дж.  
E) 16 Дж.

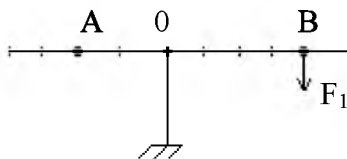
4. Суретте кескінделген ыдыстардың К шүмегі ашық тұр. Оң жақ ыдыстағы газдың қысымы



- A) 0,004 Па.  
 B) 0,002 Па.  
 C) 0,008 Па.  
 D) 0.  
 E) 0,016 Па.
5. Потенциалдар айырымының өлшем бірлігі
- A)  $1В = 1 Н \cdot 1 Кл$   
 B)  $1В = 1 \frac{Н}{Кл}$   
 C)  $1В = 1 \frac{\Phi}{Кл}$   
 D)  $1В = 1 \frac{Дж}{Кл}$   
 E)  $1В = 1 Дж \cdot 1 Кл$
6. Магнит өрісінде орналасқан тогы бар өткізгішке әсер ететін күштің мәні ең үлкен болатын бұрыш
- A)  $\alpha = 180^0$   
 B)  $\alpha = 60^0$   
 C)  $\alpha = 30^0$   
 D)  $\alpha = 90^0$   
 E)  $\alpha = 0$
7. Қармақшы 10с ішінде қалың толқында 20 тербеліс жасағанын байқады. Толқын ұзындығы 1,5м болса, толқынның таралу жылдамдығы
- A) 3 м/с  
 B) 2 м/с  
 C) 4 м/с  
 D) 5 м/с  
 E) 1 м/с



8. Интерференция дегеніміз –
- А) жарықтың сыну көрсеткішінің толқынның ұзындығына байланыстылығы.
  - В) тербеліс жиілігінің сыну көрсеткішіне байланыстылығы.
  - С) толқынның электрлік векторының белгілі бір бағытын жарық толқынынан бөлу.
  - Д) когерентті екі толқын бір-бірімен қосылғанда кеңістік нүктелеріндегі толқынның күшеюі немесе жойылуы.
  - Е) жарық толқынының алдындағы бөгетті айналып өтуі.
9.  $\beta$  – сәулесі дегеніміз
- А) нейтрондар ағыны.
  - В) гелий атомы ядроларының ағыны.
  - С) электрондар ағыны.
  - Д) протондар ағыны.
  - Е) фотондар ағыны.
10. Допты 4 м/с жылдамдықпен вертикаль жоғары лақтырған. Оның 0,8 с-та жүретін жолы ( $g = 10 \text{ м/с}^2$ )
- А) 2 м.
  - В) 1,4 м.
  - С) 2,4 м.
  - Д) 2,6 м.
  - Е) 1,6 м.
11. Қатаңдығы 1000 Н/м, сығылған серіппе өзіне бекітілген денеге 400 Н күшпен әсер етеді. Серіппенің потенциалдық энергиясы
- А) 90 Дж.
  - В) 80 Дж.
  - С) 85 Дж.
  - Д) 75 Дж.
  - Е) 65 Дж.
12. Рычаг тепе теңдік күйде тұр. Егер  $F_1 = 12 \text{ Н}$  болса, рычагтың А нүктесіне түсірілген күш



- А) 24 Н.
- В) 36 Н.
- С) 4 Н.
- Д) 72 Н.
- Е) 6 Н.

13. Қыздырғыштың температурасы 500 К, жылу машинасының ПӘК-і 0,44-ке тең. Тоңазытқыш температурасы
- A) 180 К.
  - B) 200 К.
  - C) 280 К.
  - D) 400 К.
  - E) 480 К.
14.  $q_1 = 4q$  және  $q_2 = -8q$  әртүрлі зарядтармен зарядталған бірдей металл шарларды бір-біріне жақындатып, қайта орнына әкелді. Әрбір шардың заряды
- A)  $q_1 = 2q$  және  $q_2 = 2q$
  - B)  $q_1 = 2q$  және  $q_2 = -6q$
  - C)  $q_1 = -6q$  және  $q_2 = 2q$
  - D)  $q_1 = 4q$  және  $q_2 = -4q$
  - E)  $q_1 = -2q$  және  $q_2 = -2q$
15. Әрқайсысының кедергісі 12 Ом үш бірдей өткізгішті әртүрлі тәсілдермен жалғау арқылы алынатын жалпы кедергі
- A)  $\frac{1}{8}$  Ом.
  - B) 24 Ом.
  - C) 10 Ом.
  - D) 4 Ом.
  - E)  $\frac{1}{18}$  Ом.
16. Дене  $x=0,4\sin 2t$  заңымен гармониялық тербеледі. Оның тербеліс амплитудасы мен периоды
- A) 3,14 м; 0,4 с
  - B) 0,4 м; 0,32 с
  - C) 0,4 м; 2 с
  - D) 2 м; 0,4 с
  - E) 0,4 м; 3,14 с
17. Индуктивтілігі 10 мГн катушкадан сыйымдылығы 1 мкФ конденсатордан тұратын тербелмелі контурдың конденсаторын 200 В-қа дейін зарядтағанда контурда пайда болатын ең үлкен ток күші
- A) 3 А
  - B) 0,5 А
  - C) 4 А
  - D) 2 А
  - E) 1 А

18. Жиілігі ең төмен сәуле
- A) радиотолқындар.
  - B) инфрақызыл.
  - C) ультра күлгін.
  - D)  $\alpha$ -сәуле.
  - E) көрінетін жарық.
19. Егер тежеуші кернеудің 1 В мәнінде фототок тоқтайтын болса, онда фотоэлектрондардың максимал жылдамдығы ( $e = 1,6 \cdot 10^{-19}$  Кл;  $m_e = 9,1 \cdot 10^{-31}$  кг)
- A)  $0,6 \cdot 10^7$  м/с
  - B)  $0,84 \cdot 10^6$  м/с
  - C)  $0,6 \cdot 10^6$  м/с
  - D)  $0,43 \cdot 10^6$  м/с
  - E)  $0,43 \cdot 10^7$  м/с
20. Велосипед доңғалағының диаметрі  $d=70$  см, жетекші дөңгелектің тіс саны  $Z_1 = 48$ , ал жетектелуші дөңгелектің тіс саны  $Z_2 = 18$ . Педальдардың айналу жиілігі  $\nu = 1$  айн/с болса, велосипедшінің жылдамдығы
- A)  $\approx 3,7$  м/с
  - B)  $\approx 4,8$  м/с
  - C)  $\approx 6,9$  м/с
  - D)  $\approx 5,9$  м/с
  - E)  $\approx 5$  м/с
21. Тереңдігі 5 м судағы көлемі  $0,6 \text{ м}^3$  тасты судың бетіне дейін көтергенде атқарылатын жұмыс ( $\rho_{\text{тас}} = 2500 \text{ кг/м}^3$ ,  $\rho_{\text{су}} = 1000 \text{ кг/м}^3$ ,  $g = 10 \text{ м/с}^2$ )
- A) 40 кДж
  - B) 600 кДж
  - C) 15 кДж
  - D) 45 кДж
  - E) 1250 кДж
22. Массасы 2 кг дененің 10 м биіктікте 20 м/с жылдамдықпен қозғалғандағы толық механикалық энергиясы
- A) 1000 Дж
  - B) 800 Дж
  - C) 600 Дж
  - D) 200 Дж
  - E) 400 Дж
23. Көлемі 2 л оттегіде  $6 \cdot 10$  молекула болса, тығыздығы ( $M(\text{O}_2) = 32 \cdot 10^{-3} \text{ кг/моль}$ ;  $N_A = 6 \cdot 10^{23} \text{ моль}^{-1}$ )
- A) 1,6 кг/м
  - B) 1,9 кг/м
  - C) 4 кг/м
  - D) 2 кг/м
  - E) 1,4 кг/м

24. 10 моль біратомды идеал газдың  $27^{\circ}\text{C}$  температурадағы ішкі энергиясы ( $R = 8,31 \text{ Дж/К}\cdot\text{моль}$ )
- A) 0,374 кДж
  - B) 37,4 кДж
  - C) 0,0374 кДж
  - D) 0
  - E) 374 кДж
25. Кедергісі 1,5 Ом жүктемемен жұмыс жасайтын, ішкі кедергісі 0,1 Ом ток көзінің ПӘК-і
- A)  $\approx 100\%$ .
  - B)  $\approx 94\%$ .
  - C)  $\approx 9,4\%$ .
  - D)  $\approx 90\%$ .
  - E)  $\approx 107\%$ .

**ФИЗИКА**  
**ПӘНІНЕН СЫНАҚ БІТТІ**

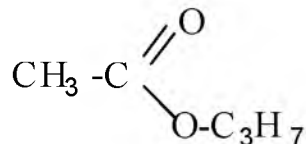
**ХИМИЯ**

1. Бейтараптану реакциясының үрдісі
  - A)  $\text{Zn}(\text{NO}_3)_2 + \text{HCl} \rightarrow$
  - B)  $\text{ZnO} + \text{HBr} \rightarrow$
  - C)  $\text{Zn} + \text{Br}_2 \rightarrow$
  - D)  $\text{Zn}(\text{OH})_2 + \text{HBr} \rightarrow$
  - E)  $\text{Zn} + \text{HBr} \rightarrow$
2. Күкірт атомының конфигурациясы  $3s^2 3p^4$  болатын жағдай
  - A) бірінші қозған күйінде
  - B) кәдімгі жағдайда
  - C) сырттан энергия алған жағдайда
  - D) екінші қозған күйінде
  - E) үшінші қозған күйінде
3. Ерітіндіде диссоциацияланғанда сутек катионына және қышқыл қалдығы анионына ыдырайтын қосылыстың аты:
  - A) Негіз.
  - B) Тұз.
  - C) Қышқыл.
  - D) Негіздік оксиді.
  - E) Қышқылдық оксиді.
4. Күкірт атомының ядро заряды:
  - A) +17
  - B) +32
  - C) +16
  - D) +15
  - E) +6
5. Натрий мен су арасындағы реакцияның өнімдері
  - A)  $2\text{NaOH} + \text{H}_2$
  - B)  $\text{Na}_2\text{O} + \text{H}_2\text{O}$
  - C)  $\text{NaOH} + \text{H}_2\text{O}$
  - D)  $\text{Na}_2\text{O} + \text{H}_2$
  - E)  $4\text{NaOH} + \text{H}_2$
6. Қосылыстардың жалпы формуласы  $\text{C}_n\text{H}_{2n+2}$ 
  - A) алкандар
  - B) спирттер
  - C) арендер
  - D) алкендер
  - E) алкиндер

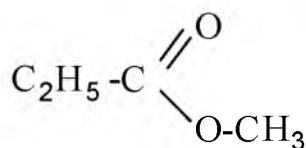
7. Изопрендi каучуктың мономерiнiң құрамы:

- A) 8 атом көміртек және 8 атом сутек.
- B) 5 атом көміртек және 8 атом сутек.
- C) 5 атом көміртек және 6 атом сутек.
- D) 8 атом көміртек және 10 атом сутек.
- E) 4 атом көміртек және 6 атом сутек.

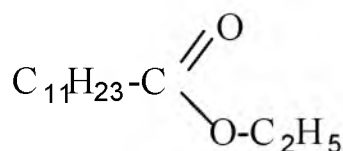
8. Төменде берілген қосылыстардың графикалық формулаларының ішінен май қышқылының бутил эфирінің формуласы:



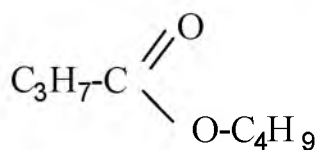
A)



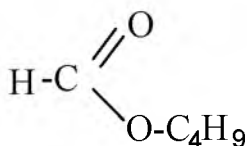
B)



C)



D)



E)

9. Жоғары молекулалық қосылыстар қасиеті және қолданылуы бойынша мынадай болып бөлінеді:

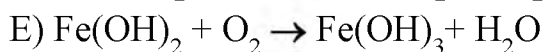
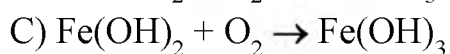
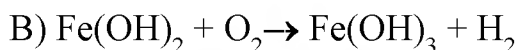
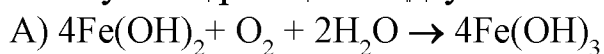
- A) Синтетикалық және табиғи.
- B) Пластмассалар, эластомерлер және талшықтар.
- C) Полимерлер және мономерлер.
- D) Жасанды және табиғи.
- E) Өсімдік және жануар текті.

10. 1 моль сұйық судың түзілу жылуы 286 кДж тең болса, 7,2 г су түзілгенде жұмсалатын жылу мөлшері

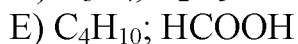
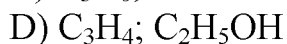
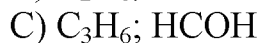
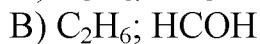
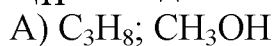
- A) 110,4 кДж
- B) 114,4 кДж
- C) 103,4 кДж
- D) 104,4 кДж
- E) 102,2 кДж

11. Темір (III) хлоридінің 225 г 12 %-ті ерітіндісіне 375 г су қосқанда алынған ерітіндідегі  $\text{FeCl}_3$  -тің массалық үлесі:
- A) 4,7 %.
  - B) 4,9 %.
  - C) 4,6 %.
  - D) 4,8 %.
  - E) 4,5 %.
12. 14 г кальций оксиді 35 г азот қышқылының ерітіндісімен әрекеттескенде түзілген тұздың массасы
- A) 20,5 г.
  - B) 31,5 г.
  - C) 28 г.
  - D) 63 г.
  - E) 41 г.
13. Бертолле тұзы  $\text{KClO}_3$  -тегі хлордың тотығу дәрежесі:
- A) 0.
  - B) +1.
  - C) +7.
  - D) -1.
  - E) +5.
14. Тотықтырғыш қасиеттерінің арту қатары
- A) O, Po, Te, Se, S
  - B) O, S, Se, Te, Po
  - C) Se, O, Te, Po, S
  - D) Po, Te, Se, S, O
  - E) Po, Se, O, S, Te
15. Фосфордың массалық үлесі (%) ең аз зат
- A)  $\text{H}_3\text{PO}_3$
  - B)  $\text{HPO}_3$
  - C)  $\text{P}_2\text{O}_3$
  - D)  $\text{P}_2\text{O}_5$
  - E)  $\text{P}_4\text{O}_{10}$
16. Кремний атомындағы электрон қабаттарының саны:
- A) 2
  - B) 3
  - C) 4
  - D) 5
  - E) 1
17. Металдарға тән емес тұжырым
- A) иондану энергиясының мәндері төмен
  - B) тотықсыздандырғыш қасиеттері бар
  - C) иілгіш, майысқақ және соғуға төзімді
  - D) электрөткізгіштігі жоғары
  - E) электртерістіктері жоғары

18. Оттек жәрдемімен темір (II) гидроксидінің темір (III) гидроксидіне айналуының реакция теңдеуі:



19. Құрамында тек  $\sigma$ - байланыстары бар заттар тобы



20. Өзгерістердегі орын басу реакциясына қатысатын тотықтырғыштың зат мөлшері



A) 2 моль.

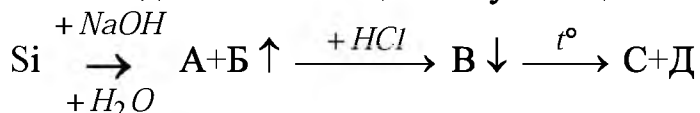
B) 6 моль.

C) 8 моль.

D) 4 моль.

E) 1 моль.

21. Тізбегіндегі В затының молекулалық массасы:



A) 60.

B) 122.

C) 78.

D) 2.

E) 28.

22. Негізгі тізбегі 5 көміртек атомынан тұратын құрамы  $\text{C}_7\text{H}_{16}$  болатын барлық алкандардың құрылымдық формулалары

A) 5

B) 6

C) 7

D) 3

E) 8



23. 100 г 75%-тік және 50 г 93%-тік этил спирттерін араластырғанда түзілген ерітіндідегі этил спиртінің массалық үлесі
- A) 81%
  - B) 71%
  - C) 51%
  - D) 41%
  - E) 61%
24. 81 г глюкоза алу үшін (шығымы 90% болса) гидролизденетін сахарозаның массасы
- A) 291 г
  - B) 231 г
  - C) 171 г
  - D) 251 г
  - E) 271 г
25. Құрамында 2% қоспасы бар 190г хлорсірке қышқылын аммиакпен әрекеттестіргенде 80г аминсірке қышқылы түзілсе, өнімнің шығымы (%)
- A) 54,1
  - B) 73,5
  - C) 84,3
  - D) 81,5
  - E) 79,6

**ХИМИЯ**  
**ПӘНІНЕН СЫНАҚ БІТТІ**

**БИОЛОГИЯ**

1. Тірі денеге жатады
  - A) Ауа
  - B) Өсімдік
  - C) Күн
  - D) Тас
  - E) Су
2. Суыққа төзімді өсімдік:
  - A) Қызанақ.
  - B) Қауын.
  - C) Асбұршақ.
  - D) Мақта.
  - E) Қияр.
3. Вольвокс шоғырының пішіні
  - A) Шар
  - B) Таяқша
  - C) Спираль
  - D) Оралма
  - E) Үтір
4. Жасушасының қабықшасы қатты хитиннен тұратын, дайын органикалық заттармен қоректенетін тірі табиғаттың ерекше тобы:
  - A) Бактериялар
  - B) Саңырауқұлақтар
  - C) Мүктер
  - D) Вирустар
  - E) Өсімдіктер
5. Алқа тұқымдасына жататын сәндік өсімдік :
  - A) Болгар бұрышы
  - B) Шырайгүл
  - C) Баклажан
  - D) Қызанақ
  - E) Қара меңдуана
6. Балықтың жүрегі
  - A) Төрт камералы.
  - B) Бір камералы.
  - C) Екі камералы.
  - D) Үш камералы.
  - E) Көп камералы.

7. Организмнің сыртқы ортамен байланысын қамтамасыз ететін
  - A) Зәршығару жүйесі
  - B) Асқорыту жүйесі
  - C) Жүйке жүйесі
  - D) Тынысалу жүйесі
  - E) Тірек-қимыл жүйесі
8. Мұрын қуысында микробтарды жоятын жасушалар.
  - A) Фагоциттер.
  - B) Лейкоциттер.
  - C) Лимфоциттер.
  - D) Эритроциттер.
  - E) Тромбоциттер.
9. Адам ағзасында витаминдердің жетіспеуінен туатын ауру.
  - A) Лейшмания.
  - B) Авитаминоз.
  - C) Рефлекс.
  - D) Гипервитаминоз.
  - E) Қышыма ауру.
10. 1665 жылы алғаш рет өсімдік қабығының жұқа кесіндісін микроскоппен көрген
  - A) Г. Мендель
  - B) К.А. Тимирязев
  - C) Роберт Гук
  - D) Н.В. Павлов
  - E) С.Г. Навашин
11. Сабактың қалың қабықшалы өлі жасушалардан тұратын қабаты.
  - A) Тін
  - B) Сүрек
  - C) Тоз
  - D) Камбий
  - E) Өзек
12. Тарақанның денесі:
  - A) бас және біріккен көкірек, құрсақ
  - B) біртұтас
  - C) басы жоқ, көкірек пен құрсақ
  - D) біріккен баскөкірек және құрсақ
  - E) бас, көкірек, құрсақ
13. Есту орталығы ми қыртысының
  - A) Маңдай бөлігінде орналасады
  - B) Самай бөлігінде орналасады
  - C) Шүйде бөлігінде орналасады
  - D) Шүйде және самай бөлігінде орналасады
  - E) Төбе бөлігінде орналасады

14. Адамның аяқ сүйектері
- A) Жамбас, сегізкөз
  - B) Омыртқа, қабырға
  - C) Ортан жілік, асықты жілік, табан
  - D) Бұғана, жауырын
  - E) Тоқпан жілік, кәрі жілік, саусақ
15. Эритроциттер түзіледі:
- A) Фибринде
  - B) Көкбауырда
  - C) Сүйектің қызыл кемігінде
  - D) Бауырда
  - E) Гемоглобинде
16. Қазіргі замандағы физиологиялық теорияға академик И.П.Павловтың қосқан үлесі
- A) Жеке жануардың дамуы, тарихи дамуды қайталайтындығын дәлелдеді.
  - B) Тұқым қуалаушылық пен өзгергіштік құбылыстарын ашты.
  - C) Барлық өсімдіктер мен жануарлардың біртұтастығын дәлелдеді.
  - D) Қарын сөлі бөлінуінің гуморальдық жолмен реттелуін көрсетті.
  - E) Ағза онтогенезінде олардың тарихи дамуының жаңа жолы салынатынын көрсетті.
17. Катализатордың міндетін атқаратын органикалық қосылыстар.
- A) Нуклеин қышқылдары.
  - B) Биополимерлер.
  - C) Ферменттер.
  - D) Көмірсулар.
  - E) Майлар.
18. Балықтарда ми пайда болды
- A) Палеозой.
  - B) Протерозой.
  - C) Архей.
  - D) Кайнозой.
  - E) Мезозой.
19. Арал проблемасының зардабы әсерін тигізген жерлер
- A) Оңтүстік Азия
  - B) Оңтүстік Батыс Азия
  - C) Орта Азия
  - D) Орталық Азия
  - E) Шығыс Азия
20. Көпжасушалы омыртқалы жануар
- A) Жасыл эвглена
  - B) Шұбалшаң
  - C) Гидра
  - D) Амеба
  - E) Балық

21. Ағаш діңінің су өткізгіш бөлігі.
- A) Сүрек.
  - B) Өзек.
  - C) Тін.
  - D) Өң.
  - E) Қабық.
22. Орамжапырақ тұқымдастарында тостағанша саны
- A) 6
  - B) 4
  - C) 2
  - D) 5
  - E) 3
23. РНК нуклеотидтерінің құрамына кірмейтін химиялық қосылыс:
- A) Тимин.
  - B) Урацил.
  - C) Рибоза.
  - D) Аденин.
  - E) Фосфор қышқылы.
24. Тұқым қуалаушылықтың хромосомалық теориясының негізін қалаған.
- A) И.Н. Вавилов.
  - B) К. Корренс.
  - C) Т. Морган.
  - D) Ч. Дарвин.
  - E) Х. Де Фриз.
25. Адамның осы заманғы қалпына дейінгі шығу тегі мен даму үдерісі.
- A) Гомиеидтер.
  - B) Австролопитектер.
  - C) Парапитектер.
  - D) Проплиопитектер.
  - E) Антрапосоциогенез.

**БИОЛОГИЯ**  
**ПӘНІНЕН СЫНАҚ БІТТІ**

**ГЕОГРАФИЯ**

1. Жер күнді бір рет айналып шығады
  - A) 362-663 күнде
  - B) 364-366 күнде
  - C) 369 күнде
  - D) 368 күнде
  - E) 365 күнде
2. Ұсақ масштаб
  - A) 1 : 50 000.
  - B) 1 : 2 000 000.
  - C) 1 : 2 000.
  - D) 1 : 10 000.
  - E) 1 : 1 000 000.
3. Ең құнарлы топырақ
  - A) қара
  - B) қарашірік
  - C) күлгін
  - D) тау топырағы
  - E) каштан
4. Дүниежүзілік мұхит суының алабы(млн.км ) :
  - A) 250
  - B) 510
  - C) 361
  - D) 149
  - E) 300
5. Қазақстанмен оңтүстігінде шектесетін елдер:
  - A) Әзербайжан, Түркменстан, Иран
  - B) Ресей, Иран
  - C) Қырғызстан, Өзбекстан, Түркменстан
  - D) Ресей, Қытай, Қырғызстан
  - E) Түркменстан, Өзбекстан
6. Каспий теңізінің өзендері.
  - A) Есіл, Тобыл.
  - B) Іле, Шу.
  - C) Ертіс, Сырдария.
  - D) Жайық, Жем.
  - E) Сағыз, Қаратал.
7. Қазақстандық Алтайдағы ірі су қойма.
  - A) Кеңгір.
  - B) Вячеслав.
  - C) Қапшағай.
  - D) Бұқтырма.
  - E) Сергеев.

8. Қазақстан Алтайындағы қоршаған ортаны ластайтын негізгі көздердің бірін атаңыз.
- A) Ауыл шаруашылық қалдықтары.
  - B) Metallургиялық заводтардағы өнеркәсіп қалдықтары.
  - C) Автокөлік.
  - D) Жер игеру.
  - E) Су қоймасы.
9. Тау-кен өндірісімен байланысты қалалар:
- A) Павлодар, Астана.
  - B) Талғар, Сарқанд.
  - C) Қызылорда, Арал.
  - D) Кентау, Қаратау.
  - E) Шымкент, Тараз.
10. Шөп басқан, ормансыз жазық алқап:
- A) Орман
  - B) Тундра
  - C) Шөл
  - D) Дала
  - E) Шөлейт
11. Африканың Намиб шөліндегі ұзақ 2000 жыл өсетін өсімдік.
- A) Вельвичия.
  - B) Сүттіген.
  - C) Тікенекті өсімдіктер.
  - D) Кактус.
  - E) Алоэ.
12. Негізгі мыс кен орны:
- A) Оңтүстік Қазақстан.
  - B) Орталық Қазақстан.
  - C) Шығыс Қазақстан.
  - D) Павлодар.
  - E) Қостанай.
13. Ең арзан электр энергиясын беретін ресурс:
- A) Көмір.
  - B) Шымтезек.
  - C) Су ресурстары.
  - D) Мұнай.
  - E) Газ.
14. Халықаралық экономикалық қатынастардың несие беру қызметін... атқаруы:
- A) Инвестиция
  - B) Географиялық еңбек бөлінісі
  - C) Халықаралық сауда
  - D) Ғылыми-техникалық байланыс
  - E) Қаржы

15. Бір мемлекет болып біріккен ел:
- A) Германия
  - B) Жапония
  - C) Польша
  - D) Чехия
  - E) Словакия
16. Шай өндіретін елдер:
- A) Пәкістан, Ауғанстан
  - B) Непал, Иран
  - C) Вьетнам, Лаос
  - D) Монголия, Сингапур
  - E) Үндістан, Қытай
17. Украинаның көлік жүйесінің ең басты түрі:
- A) Өзен
  - B) Теңіз
  - C) Әуе
  - D) Темір жол
  - E) Тас жол
18. Еуропадағы мұнайлы-газды теңіз алабы:
- A) Сауд Арабия түбегі алабы.
  - B) Мексика, шығынағы алабы.
  - C) Каспий теңіз алабы.
  - D) Солтүстік теңіз алабы.
  - E) Кариб теңіз алабы.
19. АҚШ-тың ең үлкен мегалополистері:
- A) Босваш, Чипитс, Сан-сан.
  - B) Лос-Анджелес, Сан-Диего.
  - C) Хьюстон, Вашингтон.
  - D) Детроит, Питсбург.
  - E) Чикаго, Техас, Флорида.
20. Материктік арал
- A) Гавай
  - B) Азор
  - C) Мадагаскар
  - D) Исландия
  - E) Курилл
21. Таудағы биіктік белдеулердің саны ... байланысты
- A) Таудың георграфиялық орны мен биіктігіне
  - B) Жылу мөлшеріне
  - C) Жауын-шашын мөлшеріне
  - D) Табиғат зоналарына
  - E) Түсетін жарық мөлшеріне



22. Шөлдегі өзен аңғарларында өсімдіктер мен қалың бұталар өскен жерлер.
- A) Жунгли.
  - B) Тайга.
  - C) Саванна.
  - D) Тақыр.
  - E) Тоғай.
23. Қазақстан ... қорынан дүниежүзінде бірінші орында.
- A) никельдің
  - B) вольфрам
  - C) қорғасынның
  - D) марганецтің
  - E) мырыштың
24. Республиканың аумағы жөнінен ең ірі экономикалық аудан.
- A) Солтүстік Қазақстан
  - B) Шығыс Қазақстан
  - C) Батыс Қазақстан
  - D) Оңтүстік Қазақстан
  - E) Орталық Қазақстан
25. Халықаралық экономикалық байланыстардың дәстүрлі және ең дамыған түрі:
- A) Халықаралық сауда
  - B) Халықаралық туризм
  - C) Халықаралық еңбек бөлінісі
  - D) Дүниежүзілік несие рыногы
  - E) Халықаралық мамандану

**ГЕОГРАФИЯ**  
**ПӘНІНЕН СЫНАҚ БІТТІ**

**ДҮНИЕ ЖҮЗІ ТАРИХЫ**

1. Халықтардың әдет-ғұрып, салт-санасының дамуын, ерекшеліктерін зерттейтін ғылым:
  - A) Археология.
  - B) Антропология.
  - C) Этнография.
  - D) Нумизматика.
  - E) Геральдика.
2. Шыңғыс ханның заңдар жинағы:
  - A) «Алтын шежіре».
  - B) «Яса».
  - C) «Құпия шежіре».
  - D) «Жарғы».
  - E) «Ұлыс заңы».
3. «Гаргантюа мен Пантагрюэль» романының авторы:
  - A) Маркес
  - B) Сервантес
  - C) Рабле Франсуа
  - D) Шекспир
  - E) Томас Мор
4. Солтүстік Америкада алғашқы ағылшын қонысы пайда болды:
  - A) 1782 жылы
  - B) 1775 жылы
  - C) 1607 жылы
  - D) 1781 жылы
  - E) 1776 жылы
5. XIX ғ. Қытайды ауыр жағдайдан шығарудың жолын іздеген революциялық-демократиялық қозғалыстың көсемі:
  - A) Кан Ювэй
  - B) Юань Шикай
  - C) Лян Цичао
  - D) Пу И
  - E) Сунь Ятсен
6. 1921-1922 жылдардағы Вашингтон конференциясына шақырылмаған мемлекет:
  - A) Жапония.
  - B) Англия.
  - C) Кеңестік Ресей.
  - D) Италия.
  - E) Қытай.

7. Франция фашистік Германиядан азат етілді:
  - A) 1945 жылы.
  - B) 1946 жылы.
  - C) 1944 жылы.
  - D) 1943 жылы.
  - E) 1942 жылы.
8. Кеңес елін 70 жылдан астам уақыт бойы басқарған партия:
  - A) Коммунистік.
  - B) Кадеттер.
  - C) Эсерлер.
  - D) Меньшевиктер.
  - E) Октябристер.
9. 1950 жылғы Үндістанның үкімет басшысы:
  - A) Р.Ганди.
  - B) В.П.Сингх.
  - C) И.Ганди.
  - D) Д.Неру.
  - E) М.К.Ганди.
10. «Авеста» шығармасында уағыздалатын діни ілім:
  - A) Заратуштралық.
  - B) Несториандық.
  - C) Буддалық.
  - D) Иудейлік.
  - E) Манихейлік.
11. Рим имериясы ресми түрде Шығыс және Батыс болып екіге бөлінді:
  - A) 355 жылы.
  - B) 375 жылы.
  - C) 365 жылы.
  - D) 405 жылы.
  - E) 395 жылы.
12. Христиан шіркеуінің біржолата екіге бөлінген жылы:
  - A) 867 ж.
  - B) 1074 ж.
  - C) 476 ж.
  - D) 1054 ж.
  - E) 1095 ж.
13. Тарихтағы тұңғыш фабрика пайда болды:
  - A) 1854 ж. Үндістанда.
  - B) 1905 ж. Италияда.
  - C) 1895 ж. АҚШ-та.
  - D) 1870 ж. Германияда.
  - E) 1771 ж. Англияда.

14. Париж Коммунасының белгілі қайраткерлерінің бірі:
- A) Клара Цеткин.
  - B) Роза Люксембург.
  - C) Луиза Мишель.
  - D) Елизавета Дмитриева.
  - E) Надежда Крупская.
15. 1861 ж. АҚШ аумағындағы штаттың саны:
- A) 53
  - B) 40
  - C) 45
  - D) 57
  - E) 52
16. 1931–1936 ж.ж. Испан революциясының сипаты:
- A) Антифеодалдық.
  - B) Социалистік.
  - C) Ұлт-азаттық.
  - D) Буржуазиялық-демократиялық.
  - E) Антиимпериалистік.
17. Г.Вильсон бастаған лейбористер өкіметінің жақтаған саясаты:
- A) «Жылжымалы несие»
  - B) «Жаңа шептер»
  - C) «Дәулетті мемлекет»
  - D) «Ниет туралы Декларация»
  - E) «Бизнес-кәсіподақ»
18. 1992 жылы Италияда паракорлыққа қарсы қозғалыстың аталуы:
- A) “Таза қол”.
  - B) “Жаңа саясат”.
  - C) “Қызыл бригада”.
  - D) “Италия алға!”.
  - E) “Жаңа жетістік”.
19. 1998 жылы ядролық сынақтар жүргізген Азия мемлекеттері:
- A) КСРО, АҚШ
  - B) Ирак, Пәкстан
  - C) Үндістан, Банғладеш
  - D) Үндістан, Пәкстан
  - E) Египет, Иран
20. Римде жерді жалға алушылар:
- A) Колондар
  - B) Плебейлер
  - C) Жауынгерлер
  - D) Құлдар
  - E) Патрицилер

21. XVII ғасырда Италияның Еуропадағы ең артта қалған мемлекет болуының басты себептері:
- A) Абсолюттік-бюрократиялық биліктің болуы
  - B) Өнеркәсіп пен сауданың құлдырауы
  - C) Испаниямен соғыстың зардаптары
  - D) Өндіргіш күштердің артта қалуы
  - E) Саяси бытыраңқылық пен шет елдерге тәуелділігі
22. XVIII ғ. II жартысында Англия мен Францияның «осман мұрасын» бөлісуде II Екатерина патшайымның саясатына қарсы шығу себебі:
- A) Ресей мен Осман империясының мәмлеге келуінен
  - B) Молдавия мен Валахияның Ресейге қосылуынан
  - C) Ресейдің Франция иеліктерін қайта қарауынан
  - D) Ресейдің Балқан мен Жерорта теңізінде күшейіп кетуінен қауіптенді
  - E) Ресейге Қара теңізде сауда жолдарының ашылуынан
23. XIX ғасырда Мысырды шетелдік басқыншылардан құтқарып, мықты мемлекетке айналдырған билеуші:
- A) Мұхаммед Әли.
  - B) Саид.
  - C) Исмаил.
  - D) Аббас.
  - E) Ибрагим.
24. Үштік Одақ деп аталатын одақтық шартқа қандай оқиғаның нәтижесінде қол қойылғанын анықтаңыз.
- A) Италия Тунисті басып алғаннан кейін, Германия тарапынан қолдау табуы.
  - B) Антанта әскери блогы құрылғаннан кейін.
  - C) Болгария мемлекеті құрылғаннан кейін.
  - D) Ресей Түркияға соғыс жариялағаннан кейін.
  - E) Жапон-Қытай соғысынан кейін.
25. 1918 ж. Жапониядағы «күріш бүліншілігі» қозғалысының шығу себебі.
- A) Шаньдуннан бас тарту.
  - B) Ашыққан тұрғындардың көшелерге шығып күріш қамбаларын қиратуы.
  - C) Шаруалардың күріш алқаптарындағы ауыр тұрмысы.
  - D) Жер сілкінісінен кейінгі болған бүліншілік.
  - E) Каноз үкіметіне қарсы наразылық.

**ДҮНИЕ ЖҮЗІ ТАРИХЫ**  
**ПӘНІНЕН СЫНАҚ БІТТІ**

**ҚАЗАҚ ӘДЕБИЕТІ**

1. «Ақ жүрген азбас» мақаланың тақырыбын белгілеңіз.
  - A) Оқу, білім, өнер туралы
  - B) Отан, туған жер, халық туралы
  - C) Адамгершілік, жақсы- жаман мінез туралы
  - D) Төрт түлік мал, кәсіп, егіншілік туралы
  - E) Үнемшілдік жайында
2. «Шоқан Уәлиханов Шығыстану әлеміне құйрықты жұлдыздай жарқ етіп шыға келгенде...» деп басталатын ойдың иесін табыңыз.
  - A) А.Г. Майков.
  - B) Н.Г. Потанин.
  - C) Н.И. Веселовский.
  - D) И.И. Ибрагимов.
  - E) И.Н. Березин.
3. Семейдегі Абай оқыған медресені табыңыз.
  - A) “Ахмет-Риза”.
  - B) “Медресе-Ғалия”.
  - C) “Узифа”.
  - D) “Ахун-Рахманкул медресесі”.
  - E) Қасым қажының медресесі.
4. «Ескендір» поэмасындағы Ескендір патшаның өз жұрты аз көрініп, көршілерге көз алартуына төмендегі мінездемелердің қайсысы сәйкес келетінін көрсетіңіз.
  - A) Мақтаншақ, даңғой.
  - B) Даңққұмар, озбыр.
  - C) Қара басының қамын ойлаушы.
  - D) Қанішер, жауыз.
  - E) Тойымсыз, дүниеқоңыз.
5. Шығармадағы кейіпкерлер Бақтығұл, Тектіғұл, Сәт, Сәлмен образдары М.Әуезовтің қай шығармасында кездесетінін белгілеңіз.
  - A) «Үйлену».
  - B) «Қараш-Қараш оқиғасы».
  - C) «Адамдық негізі - әйел».
  - D) «Қорғансыздың күні».
  - E) «Қыр әңгімелері».
6. Қазақ мәдениетінде театр өнері тұңғыш қай жерде пайда болғанын табыңыз.
  - A) Ералы жазығындағы Ойқұдық жайлауында
  - B) Семей қаласында.
  - C) Қазақтың тұңғыш театрында.
  - D) Орынборда.
  - E) Шыңғыстаудағы Жидебайда.

7. Табиғат құбылыстарын жандандырып, кісі кейпінде суреттеу тәсілі қалай аталатынын табыңыз.
- A) Ауыстыру.
  - B) Кішірейту.
  - C) Кейіптеу.
  - D) Шендестіру.
  - E) Мегзеу.
8. ... *Іздеймін тағат бар ма?*  
*Сені іздедім, маған егіз ғып жаратқан ба?* ... – деп Мұқағали ақын нені іздейтінін табыңыз.
- A) Поэзияны.
  - B) Туған жерін.
  - C) Ата-бабасын.
  - D) Өткен күнді.
  - E) Ғашық қызын.
9. Жұбан Молдағалиевтің туған жылы мен туған жерін белгілеңіз.
- A) 1920 жылы Батыс Қазақстан облысы Тайпақ ауданы Жыланды ауылы
  - B) 1935 жылы Алматы облысы Еңбекшіқазақ ауданы Жарсу ауданы
  - C) 1942 жылы Оңтүстік Қазақстан облысы Отырар өңірі
  - D) 1939 жылы Атырау облысы Манаш ауылы
  - E) 1935 жылы Атырау облысы Теңіз ауданы Қошалақ ауылы
10. С.Сараидің назиралық үлгіде жазылған дастаны қалай аталатынын табыңыз.
- A) "Хибат-ул хақайық".
  - B) "Гүлстан бит-турки".
  - C) "Диуани Хикмет".
  - D) "Мұхаббат-наме".
  - E) "Хұсрау-Шырын".
11. Алпамыстың жау қолына түсуіне себеп болған жағдайды көрсетіңіз.
- A) Қаракөзайымның ғашық болуы.
  - B) Оның жаралануы.
  - C) Мыстан кемпірдің айласы.
  - D) Жаудың күштілігі.
  - E) Өнерпаздығы.
12. Өз тұсындағы ханға «Орыспенен соғыспа» деп үн қататын жырауды табыңыз.
- A) Доспамбет.
  - B) Асан қайғы.
  - C) Бұқар.
  - D) Жиёмбет.
  - E) Махамбет.

13. Әсет Найманбаевтың махаббат тақырыбына арналған өлең-әнін белгілеңіз.
- A) «Майда қоңыр»
  - B) «Әсет»
  - C) «Қысмет»
  - D) «Инжу-маржан»
  - E) «Арғынмын, атым Әсет арындаған»
14. А.Байтұрсыновтың «Тіл құрал» оқулығы неше бөлімнен тұрғанын анықтаңыз.
- A) 4 бөлім.
  - B) 2 бөлім.
  - C) 1 бөлім.
  - D) 3 бөлім.
  - E) 5 бөлім.
15. Досқа арнап жазған хат түріндегі сыршыл өлеңді табыңыз.
- A) М.Жұмабаев «Р... альбомына».
  - B) С.Сейфуллин «Сыр сандық».
  - C) А.Байтұрсынов «Досыма хат».
  - D) І.Жансүгіров «Баласынан анасына хат».
  - E) Абай «Айттым сәлем, Қаламқас».
16. Қ.Аманжолов өмір сүрген жылдарды табыңыз.
- A) 1912-1956жж.
  - B) 1917-1967жж.
  - C) 1894-1938жж.
  - D) 1890-1929жж.
  - E) 1911-1955жж.
17. Жамбыл қай жылы "Құрмет белгісі" орденімен марапатталғанын табыңыз.
- A) 1938 ж.
  - B) 1939 ж.
  - C) 1945 ж.
  - D) 1936 ж.
  - E) 1937 ж.
18. Қазақ театрында ұзақ жылдар бойы Қарабайды ("Қозы-Көрпеш-Баян сұлу") ойнаған артисті белгілеңіз.
- A) Қ.Қармысов.
  - B) С.Қожамқұлов.
  - C) Қ.Жандарбеков.
  - D) Қ.Байсейітов.
  - E) К.Кенжетаев.



19. Ұйқастың түрін белгілеңіз.

*Өлең – сөздің патшасы, сөз сарасы,  
Қиыннан қиыстырар ер данасы.  
Тілге жеңіл, жүрекке жылы тиіп,  
Теп-тегіс, жұмыр келсін айналасы.*

- A) Егіз ұйқас.
- B) Қара өлең ұйқасы.
- C) Ерікті ұйқас.
- D) Кезекті ұйқас.
- E) Шалыс ұйқас.

20. 1905-1906 жылдары Араб, Түрік, Еуропа елдерінде және Меккеде болған ақынды табыңыз.

- A) Мұса Жәлел.
- B) Міржақып Дулатов.
- C) Ахмет Байтұрсынов.
- D) Айбек.
- E) Шәкәрім Құдайбердіұлы.

21. І.Жансүгіров қай өлеңінде аллегориялық кейіптеу әдісін пайдаланғанын табыңыз.

- A) «Ит-ай».
- B) «Өзіме»
- C) «Жазғы таң».
- D) «Октябрь күні».
- E) «Тас».

22. Бірмағамбет, Айша Б.Майлиннің қай шығармасының кейіпкерлері екенін табыңыз.

- A) “Арыстанбайдың Мұқышы”.
- B) “Шұғаның белгісі”.
- C) “Қара шелек”.
- D) “Сексен сом”.
- E) “Раушан-коммунист”.

23. ”Абай” романын неше рет қайталап оқысаң, сонша, әрдайым жаңа бір ой, жаңа бір көркемдік, бұрын оқығанда байқалмай кеткен тереңдік табам”. Бұл кімнің сөзі екенін анықтаңыз.

- A) Н.Погодин.
- B) З.Қабдолов.
- C) М.Мырзахметов.
- D) Б.Матиф.
- E) Ғ.Мүсірепов.

24. «... Табанына қадалған шөкір маңдайыма қадалсын дейтін Ботагөздің әкесі – енді мына мен», - дейтін кейіпкерді табыңыз.
- A) Балтабек.
  - B) Амантай.
  - C) Темірбек.
  - D) Асқар.
  - E) Кенжетай.
25. Т.Ахтановтың «Шырағың сөнбесін» атты романының бас кейіпкерін анықтаңыз.
- A) Бөрібай.
  - B) Думан.
  - C) Қосан.
  - D) Нәзира.
  - E) Сәкен.

**ҚАЗАҚ ӘДЕБИЕТІ  
ПӘНІНЕН СЫНАҚ БІТТІ**

**АҒЫЛШЫН ТІЛІ**

1. **Артикль қолданылмайды**
  - A) apple
  - B) train
  - C) bus
  - D) eye
  - E) water
2. **Дұрыс жазылған сөзді таңдаңыз**
  - A) neighbour
  - B) neigbour
  - C) neighbore
  - D) niebor
  - E) naighbor
3. **"To finish school" сөз тіркесінің синонимі:**
  - A) To get school.
  - B) To leave school.
  - C) To enter school.
  - D) To have school.
  - E) To begin school.
4. **Дұрыс аудармасын табыңыз:**

**Анаңа кім көмектеседі?**

  - A) Who helps your mother?
  - B) Who helped your mother?
  - C) Who is help your mother?
  - D) Who help your mother?
  - E) Who does help your mother?
5. **Дұрыс нұсқасы**
  - A buyer
  - A) a shop assistant
  - B) a passenger
  - C) a doctor
  - D) a sailor
  - E) a customer
6. **Артикльдердің дұрыс нұсқасын қойыңыз.**

There is ... wall newspaper in ... corner.

  - A) a/the.
  - B) an/the.
  - C) an/an.
  - D) the/an.
  - E) the/a.

7. Сөздің дұрыс аудармасын таңдаңыз:

Ресми емес

- A) Inofficial.
- B) Official.
- C) Unofficial.
- D) Reofficial.
- E) Imofficial.

8. Берілген зат есімдерден көпше түрін жасаңыз.

Milk, a sandwich, a bottle.

- A) Milks, sandwiches, bottles.
- B) Milk, sandwiches, bottles.
- C) Milk, sandwichies, bottles.
- D) Milk, sandwichs, bottles.
- E) Milk, sandwiches, bottlies.

9. Дұрыс нұсқа

I remembered...the race

- A) the horse's to win
- B) the horse have win
- C) the horse's winning
- D) the horse winning
- E) the horse to win

10. “Бас тарту, тастап кету” мағынасы бар тіркес етістікті таңдаңыз:

- A) To give in
- B) To give up
- C) To give away
- D) To give out
- E) To give back

11. Предлогтың дұрыс нұсқасын таңдаңыз:

Are you aware ... how this might affect your work?

- A) On.
- B) Of.
- C) At.
- D) By.
- E) From.

12. Сөйлемге сын есімнің дұрыс түрін қойыңыз.

**I earn ... money than he does.**

- A) more little
- B) the most little
- C) littler
- D) less
- E) little

## 13. Тәуелдік есімдікті қойыңыз.

She bought some toys for ... children.

- A) she.
- B) hers.
- C) her.
- D) its.
- E) them.

## 14. Дұрыс құрылған сөйлемді көрсетіңіз:

- A) This is my grandparents' house
- B) This is my grandparents house
- C) This is my grandparente's house
- D) This is my grandparents's house
- E) This is my grandparentses' house

## 15. Жекеше түрдегі ілік септігіндегі зат есім:

- A) Toys'.
- B) Men's.
- C) Dogs'.
- D) Boy's.
- E) Boys'.

## 16. Көмекші етістікті қойыңыз:

She ... married.

- A) have.
- B) was.
- C) am.
- D) does.
- E) did.

## 17. Сөйлемді аяқтаңыз:

My sister will go to the seaside ...

- A) yesterday.
- B) ever.
- C) tomorrow.
- D) yet.
- E) already.

## 18. Белгіленген сөз сөйлемде:

She was fond of singing when she was a child.

- A) Adjective.
- B) Gerund.
- C) Infinitive.
- D) Participle 2.
- E) Verb.

19. **Дұрыс жауапты табыңыз.**

A famous American writer who wrote a book about a very clever dog:

- A) Ernest Hemingway.
- B) Mark Twain.
- C) Agatha Christie.
- D) John Stainbek.
- E) Jack London.

20. **Берілген сөздің антонимы**

To awake

- A) to avoid
- B) to go
- C) to sleep
- D) to obey
- E) to be away

21. **Мағынасы ұқсас мақалды таңдаңыз:**

Бітер істің басына, жақсы келер қасына.

- A) East or West, home is best.
- B) Every dog has its day.
- C) As you make your bed so you must lie on it.
- D) A good beginning makes a good ending.
- E) No pains, no gains.

22. **Берілген саннан реттік сан есім жасаңыз**

“40”

- A) fortyeth
- B) fourteenth
- C) fortyieth
- D) fortieth
- E) forty

23. **Модаль етістіктің дұрыс нұсқасын табыңыз:**

Hello, you ... Arman. I've heard a lot about you.

- A) May to be.
- B) Can't be.
- C) Might be.
- D) Should be.
- E) Could be.

24. **Сөйлемнің дұрыс аудармасын табыңыз:**

He was seen to cross the street.

- A) Ол көшеде көрінді.
- B) Ол көшеден қалай өту керек екенін көрді.
- C) Оны көшеде көрді.
- D) Оның көшеден өткенін көрді.
- E) Ол көшеден өту керек екенін көрді.

**25. Мәтінді оқып, тапсырманы орындаңыз:**

People from Europe began to settle in America many years ago. The first colonists landed in the South of the USA in the late sixteenth century. They called the place Virginia. But these people did not like living there and they went back to England. The first colonists who stayed in Virginia founded the settlement of Jamestown.

In the 1620s and 1630s leaders of the religious groups from England established new colonies in what they called New England. These settlers came with their wives and children and to make a new better life for themselves.

Soon colonists from almost all the countries of Europe began to make their homes in the New World. By 1790 after the War of Independence, four million colonists lived in the USA. Only half of them spoke the English language.

**Мәтінге тақырып таңдаңыз:**

- A) Colonists in Virginia.
- B) New England.
- C) From the history of America.
- D) Citizens of Jamestown.
- E) America and Europe.

**АҒЫЛШЫН ТІЛІ  
ПӘНІНЕН СЫНАҚ БІТТІ**

**НЕМІС ТІЛІ****1. Етістіктің негізгі формаларын табыңыз.**

Fuhlen - \_\_\_\_\_ - \_\_\_\_\_.

A) Fuhlt – gefuhlen.

B) Fuhlte – gefult.

C) Fuhlte – gefuhlt.

D) Fuhlte – gefuhlt.

E) Fuhlte – gefult.

**2. Көмекші етістікті қойыңыз:**

Der Schauspieler ... sich an die Zuschauer gewandt.

A) hatte

B) haben

C) war

D) sein

E) ist

**3. Модаль етістікті қойыңыз.**

Ich \_ gestern zu dir nicht kommen, ich machte die Hausaufgaben.

A) kannte

B) konnte

C) kann

D) konne

E) konnte

**4. Артикльді қойыңыз:**

... Knabe

A) die

B) das

C) dem

D) der

E) den

**5. Белгіленген сөзге сұрақ қойыңыз**

Die Kinder gehen ins Puppentheater.

A) Wohin?

B) Was?

C) Wer?

D) Wann?

E) Wo?



## 6. Есімдікті қойыңыз:

Vor dem Essen wasche ich ... die Hände.

- A) sich
- B) uns
- C) euch
- D) dir
- E) mir

## 7. Сан есімді қойыңыз:

Das Jahr hat ... Tage, ... Monate.

- A) dreihundertzweiundsechzig/zwölfte
- B) dreihundertfunfundsechzig/zwölf
- C) dreihundert/zehn
- D) dreihundertvier/zwölf
- E) dreihundertdrei/elf

## 8. Предлогты қойыңыз:

Jugendlichen ... 16 Jahren dürfen sich diesen Film ansehen.

- A) vom
- B) ab
- C) zu
- D) seitdem
- E) aus

## 9. Сөздің жұрнағына қарай қай сөз табына жататынын көрсетіңіз.

**Buchlein.**

- A) Үстеу.
- B) Етістік.
- C) Сын есім.
- D) Зат есім.
- E) Есімдік.

## 10. Керекті сөзді қойыңыз:

Gestern ... unsere Gäste das Historische Museum Kasachstans.

- A) Fuhr.
- B) War.
- C) Besuchen.
- D) Fahrt.
- E) Besuchten.

## 11. Сөйлемді активтен пассивке түрлендіріңіз:

**Man hat in unserer Stadt neue schöne Häuser gebaut.**

- A) In unserer Stadt werden neue schöne Häuser gebaut werden.
- B) In unserer Stadt werden neue schöne Häuser gebaut.
- C) In unserer Stadt sind neue schöne Häuser gebaut worden.
- D) In unserer Stadt waren neue schöne Häuser gebaut werden.
- E) In unserer Stadt wurden neue schöne Häuser gebaut.

## 12. Керекті предлогты қойыңыз:

Ich bat den Vorsitzenden . . . das Wort .

- A) gegen
- B) bis
- C) für
- D) um
- E) durch

## 13. Бұйрық райды дұрыс құрыңыз:

Киіңдер де, мектепке барыңдар!

- A) Zieht euch an und geht in die Schule!
- B) Zieht sich an und geht in die schule!
- C) Ziehen euch an und gehen euch in die Schule!
- D) Zieht sich an und geht sich in die Schule!
- E) Ziehen sich an und gehen Sie in die Schule!

## 14. Міндеттену мағынасын білдіретін сөйлем

- A) Er war nach Italien gefahren.
- B) Sie war im Sommer in der Stadt.
- C) Das Buch war zu lesen.
- D) Das Schulgebäude war von Schülern gebaut worden.
- E) Es war schwer, das Diktat zu schreiben.

## 15. Қажетті нұсқасын табыңыз:

Die Schuler der alteren Klasse helfen \_\_\_\_\_.

- A) Den Kindern.
- B) Den Kinder.
- C) Die Kinder.
- D) Der Kinder.
- E) Der Kindern.

## 16. Қажетті нұсқасын табыңыз:

\_\_\_\_\_ Leute sind gemutlich.

- A) Dickes.
- B) Dicken.
- C) Dick.
- D) Dicke.
- E) Dicker.

## 17. Приставканы қойыңыз:

Der Lehrer schlägt ..., ins Kino zu gehen.

- A) ver-.
- B) er-.
- C) ge-.
- D) vor-.
- E) be-.

## 18. Сын есімді қойыңыз:

- Sprich bitte laut!  
-Gut, ich werde jetzt ... sprechen als bisher.  
A) laut  
B) lauter  
C) lautesten  
D) am lautesten  
E) lautest

## 19. Керекті жалғаулықты немесе қатысты есімдікті қойыңыз:

- Ich will wissen, . . . ich ins Museum komme.  
A) da  
B) woran  
C) was  
D) wie  
E) wofür

## 20. Керекті сөзді қойыңыз:

- Das in der vorigen Woche ... Buch gefiel mir sehr.  
A) Besprochene.  
B) Besprechene.  
C) Besprechende.  
D) Besprochend.  
E) Besprochende.

## 21. Женский род зат есімін жасаңыз.

- virtuos  
A) –schaft  
B) –tat  
C) –in  
D) –heit  
E) –ung

## 22. Көпше түрі жоқ зат есімді табыңыз.

- A) Zuschauer  
B) Leiter  
C) Ufer  
D) Tischler  
E) Zucker

## 23. Сұраққа жауап беріңіз:

- "Können Sie Klavier spielen?" - "... ."  
A) Nein, das kann ich leider nicht.  
B) Nein, das ich kann leider nicht.  
C) Nein, ich leider kann das nicht.  
D) Nein, leider ich kann das nicht.  
E) Nein, kann ich das leider nicht.

## 24. Дұрыс вариантты қойыңыз:

Assel will Ärztin werden, ... lernt sie in der Schule sehr fleißig Chemie.

- A) Da.
- B) Darum.
- C) Denn.
- D) Weil.
- E) Dass.

## 25. Мәтіннің мазмұнына сай сөйлемді табыңыз:

Pawlodar wurde im Jahre 1720 als Vorposten Korjakowskij gegründet. Er erfüllte die Aufgabe einer der 7 Vorposten als Verbindungsglied der Siedlungen zwischen den Burgen. Anfangs waren die Einwohner Kosaken. Im Jahre 1838 verwandelte sich der Vorposten in die Kosakensiedlung Korjakowskaja. Im Jahre 1861 wurde sie in Pawlodar umbenannt.

- A) Im Jahre 1838 verwandelte sich der Vorposten ins Gebietszentrum.
- B) Pawlodar erfüllte die Aufgabe einer der 7 Vorposten als Verbindungsglied der Siedlungen.
- C) Anfangs waren die Einwohner Nomaden.
- D) Damals war Pawlodar eine Kasachenstaniza.
- E) Pawlodar wurde im Jahre 1720 als Vorposten Verny gegründet.

**HEMIC TILJI  
PƏNINEN SYNAQ BITTI**

**ФРАНЦУЗ ТІЛІ**

1. Етістіктің қажетті формасын таңдаңыз.  
Le soleil ... deja ... quand il s'est reveille.  
A) Montera  
B) Monte  
C) Monta  
D) Etait monte  
E) Avait monte
2. Етістіктің болымсыз түрінің дұрыс нұсқасын таңда.  
La France \_\_\_\_\_ confine \_\_\_\_\_ avec la Russie.  
A) Ne jamais/  
B) Ne /personne  
C) Ne / pas  
D) Ne/ rien  
E) Ne /plus
3. Бірықсыз етістің дұрыс нұсқасын таңда.  
A) La veste est blanche.  
B) La veste est chere.  
C) La veste est verte.  
D) La veste est achetee par moi.  
E) La veste est belle.
4. Сұрау сын есімінің қажетті формасын табыңыз.  
... est donc cette vie?  
A) Quelle  
B) Quelles  
C) Qui  
D) Quel  
E) Quels

5. Есептік сан есімнің дұрыс нұсқасын табыңыз:  
Il a ... ans.  
A) Second.  
B) Trois.  
C) Deuxieme.  
D) Troisieme.  
E) Douxieme.
6. «С» әрпі [S] дыбысы болып оқылатын сөзді табыңыз:  
A) Cypres.  
B) Corse.  
C) Cage.  
D) Constitution.  
E) Blocage.
7. Көп нүктелердің орнына қажетті предлогты көрсетіңіз.  
**Le cahier est ... la serviette.**  
A) pour.  
B) chez.  
C) dans.  
D) entre.  
E) de.
8. Қажетті шылауды табыңыз.  
Je ne vais pas souvent au cinema, ... je vais souvent au theatre.  
A) Mais  
B) Et  
C) Aussi  
D) A la difference  
E) Plutot
9. Дұрыс аудармасын көрсетіңіз.  
**(Пайдалы) de repeter toujours les regles.**  
A) Il est tard.  
B) Il est regle.  
C) Il est utile.  
D) Il est temps.  
E) Il est interessant.
10. Етістіктің қажетті формасын таңдаңыз Futur simple:  
Samedi matin ils (partir) a Bangkok.  
A) Partiraient.  
B) Partent.  
C) Partimes.  
D) Partiront.  
E) Partaient.

11. Сөйлемді дұрыс аяқтаңыз.

Je ne peux parler ...

- A) ayant mange
- B) mange
- C) en mangeant
- D) mangeants
- E) mangeant

12. Бұйрық райының дұрыс формасын таңдаңыз.

...de bruit: tout le monde dort!

- A) Ne faisait pas
- B) Ne fit pas
- C) Ne feront pas
- D) Ne fait pas
- E) Ne fais pas

13. Етістіктің Subjonctif формасын табыңыз:

Le professeur se rejouit que ses eleves \_\_\_\_\_ des progres.

- A) Feront.
- B) Fassent.
- C) Font.
- D) Feraient.
- E) Vont faire.

14. Частичный артикльдің дұрыс нұсқасын тап

Je fais ... bruit.

- A) Du.
- B) Au.
- C) De la.
- D) A la.
- E) Le.

15. Қажетті қатыстық есімдікті таңдаңыз.

Avez-vous de \_ payer le taxi?

- A) que
- B) quoi
- C) quelle
- D) qui
- E) quel

16. Мына сөз қай сөз табына жатады:

Mouvement.

- A) Сын есім
- B) Үстеу
- C) Герундий
- D) Зат есім
- E) Етістік

17. **Дұрыс жауабын көрсетіңіз.**

En quel mois les nuits sont les plus longues?

- A) En avril les nuits sont les plus longues.
- B) En fevrier les nuits sont les plus longues.
- C) En decembre les nuits sont les plus longues.
- D) En juin les nuits sont les plus longues.
- E) En septembre les nuits sont les plus longues.

18. **Дұрыс жауабын табыңыз.**

Qui est l'auteur du roman «Notre-Dame de Paris»?

- A) H.de Balzac
- B) V.Hugo
- C) R.Rolland
- D) H.Barbusse
- E) A.Dumas

19. **Жақшадағы сөздің дұрыс аудармасын таңдаңыз:**

Faut-il lui (айту) la verite?

- A) Reciter.
- B) Raconter.
- C) Bavarder.
- D) Dire.
- E) Parler.

20. **Есімдіктік етістіктің дұрыс нұсқасын тап**

Il (s'tromper) de station

- A) Est se trompe.
- B) Nous est trompe.
- C) T'est trompe.
- D) Vous est trompe.
- E) S'est trompe.

21. **Етістіктің Conditionnel Passe формасын табыңыз:**

Si je l' avais su, je lui en \_\_\_\_\_.

- A) ai parle
- B) parlerais
- C) aurais parle
- D) avais parle
- E) parlerai

22. **Сөйлемді аяқтаңыз.**

**La mere pensait que ... .**

- A) sont venus ce soir.
- B) ses fils viendraient ce soir.
- C) ses fils etaient ce soir.
- D) ses fils viennent ce soir.
- E) ses fils vinrent ce soir.



23. Қай вариантта зат есімнің орнына есімдік дұрыс пайдалынады?

L'ecolier met sa serviette sur la table de travail.

- A) la.
- B) nous.
- C) le.
- D) leur.
- E) les.

24. Дұрыс аудармасын табыңыз:

**Зерттелетін**

- A) Exploration.
- B) Exploratif.
- C) Explorable.
- D) Explorateur.
- E) Explorer.

25. Тексті оқып шығып, мағынасы сәйкес келетін сөйлемді белгілеңіз.

Gerard Philipe etait un acteur de grand talent. Il aimait beaucoup les jardins et les fleurs. Pres de Nice, il avait pour voisin de campagne un riche Anglais qui avait une belle bibliotheque.

Un jour, Gerard Philipe a demande a son voisin de lui donner un livre dont il avait besoin pour son travail.

- Non, a repondu l'Anglais, j'ai pour regle de ne jamais laisser mes livres sortir de ma bibliotheque, mais si Monsieur Philipe veut lire chez moi toute la journee, je le recevrai avec plaisir et les bras ouverts.

Quelque temps apres, le meme voisin, a demande a l'acteur de lui preter un arrosoir.

- Non, a repondu Gerard Philipe, j'ai pour regle de ne jamais laisser mon arrosoir sortir de mon jardin, mais si milord veut arroser chez moi toute la journee je le recevrai avec plaisir et les bras ouverts.

- A) Gerard Philipe recoit l'Anglais qui est venu chez lui pour arroser ses fleurs.
- B) L'Anglais lui a prete son arrosoir.
- C) Gerard Philipe a demande a son voisin un arrosoir.
- D) Gerard Philipe est venu chez l'Anglais pour lire dans sa bibliotheque.
- E) Un riche Anglais habitait a cote de Gerard Philipe.

**ФРАНЦУЗ ТІЛІ  
ПӘНІНЕН СЫНАҚ БІТТІ**