

ҚАЗАҚСТАН РЕСПУБЛИКАСЫ
БІЛІМ ЖӘНЕ ҒЫЛЫМ МИНИСТРЛІГІ

ҰЛТТЫҚ ТЕСТЛЕУ ОРТАЛЫҒЫ

БАЙҚАУ СЫНАҒЫ

СҰРАҚ КІТАПШАСЫ

7003 - НҰСҚА

Аты-жөні _____

ТЖК _____ Жауап парағының № _____

Лек _____ Аудитория № _____ Орын № _____

Бесінші пән аты _____

Талапкердің қолы _____

Сектор 5			
Нұсқа:			
7	0	0	3
①	①	①	①
②	②	②	②
③	③	③	●
④	④	④	④
⑤	⑤	⑤	⑤
⑥	⑥	⑥	⑥
●	⑦	⑦	⑦
⑧	⑧	⑧	⑧
⑨	⑨	⑨	⑨
⑩	●	●	⑩



2010

ҚАЗАҚ ТІЛІ

1. Орыс тілінен енген сөзді табыңыз.
 - A) Табиғат.
 - B) Жарлық.
 - C) Емле.
 - D) Пән.
 - E) Сөмке.
2. «У» дыбысы дауысты болып тұрған сөзді көрсетіңіз
 - A) Бауыр.
 - B) Ақтару.
 - C) Майлау.
 - D) Дауыл.
 - E) Аялдау.
3. Тасымалданбайтын сөзді көрсетіңіз.
 - A) Барлық.
 - B) Жарық.
 - C) Балық.
 - D) М.Дулатов.
 - E) Сағындық.
4. Қос сөзді анықтаңыз.
 - A) Қара торы.
 - B) Ерсілі қарсылы.
 - C) Ат жақты.
 - D) Отыз төрт.
 - E) Күні бойы.
5. Жалпы есімді табыңыз.
 - A) Тау.
 - B) Балқаш.
 - C) Жамбыл.
 - D) Сырдария.
 - E) Ертіс.
6. Топтау сан есімді табыңыз.
 - A) Елуге тарта.
 - B) Елу-елуден.
 - C) Елу.
 - D) Елуінші.
 - E) Елу шақты.
7. Өздік есімдікті тіркесті көрсетіңіз.
 - A) Ешкім жоқ.
 - B) Мен барамын.
 - C) Сіз кімсіз.
 - D) Кімде-кім барса.
 - E) Өзім келдім.

8. Дыбыстарға еліктеуден пайда болған сөзді көрсетіңіз.
- A) Сылқ-сылқ.
 - B) Қайқан.
 - C) Төбе-төбе.
 - D) Ирелең-ирелең.
 - E) Апалаң-топалаң.
9. Айтылу мақсатына қарай бөлінетін сөйлем атауын табыңыз.
- A) Жақты сөйлем.
 - B) Жақсыз сөйлем.
 - C) Жалаң сөйлем.
 - D) Сұраулы сөйлем.
 - E) Жай сөйлем.
10. Ауыспалы мағынадағы сөз қолданылған сөйлемді көрсетіңіз.
- A) Бәрі жабылып, *алқымдап* қылғындырды.
 - B) Торы аттың *алқымы* ісіп кеткен.
 - C) *Алқымдау* – жыртқыштың малды тамағынан алуы.
 - D) Жасы елуді *алқымдап* қалған.
 - E) Қасқыр ту биені *алқымдады*.
11. Антонимдік жұпты көрсетіңіз.
- A) Әйел - зайып.
 - B) Азырқану - көпсіну.
 - C) Елең - алаң.
 - D) Аанада - сонда.
 - E) Дегенмен - сонда да.
12. Дұрыс жазылған сөздерді табыңыз.
- A) Жұлдуз, жәяу, жәй.
 - B) Құндүз, құрұқ, бүгүн.
 - C) Мәжбүр, мағлұмат, сірә.
 - D) Орұн, өңүр, домбұғуу.
 - E) Бөрөне, көбөлек, жол-жөнөкей.
13. Туынды сын есім жасайтын жұрнақты табыңыз.
- A) -шы.
 - B) -и.
 - C) -ған.
 - D) -ыншы.
 - E) -ау.
14. Өзгелік етісті табыңыз.
- A) Айтқызды.
 - B) Киінді.
 - C) Жуынды.
 - D) Салынды.
 - E) Жасалды.

15. «Мектебі» сөзіне лайықты бағыныңқыны көрсетіңіз.
- A) Тәуекел.
 - B) Еркін.
 - C) Қызық.
 - D) Өнер.
 - E) Жазылған.
16. Күрделі бастауышты табыңыз.
- A) Еңбек еткен - ер атанар.
 - B) Ілбіген де ілгерілейді.
 - C) Шабан атқа жер шалғай.
 - D) Қолы шебер еді.
 - E) Есепсіз есесін жібермейді.
17. Толымсыз сөйлемді табыңыз.
- A) Абай Ерболға еріп келеді.
 - B) Тоғжанның атастырған күйеуі бар.
 - C) -Үйреніп, еріп айтсаңшы.
 - D) Бұл менің алғашқы әнім болатын.
 - E) Оның барлық арманы орындалды.
18. Сын есімнен жасалған қаратпаны табыңыз.
- A) Алашым, аттанамын, жауыңда өлем!
 - B) Күй, жүрек.
 - C) Бар, ақсақал, ойланармыз.
 - D) Алдияр, сөзім қысқа.
 - E) Сұлу-ай, қалмай маған ердің неге?
19. Публицистикалық стильдің жазбаша түрін көрсетіңіз.
- A) Пьеса.
 - B) Поэма.
 - C) Повесть.
 - D) Лирика.
 - E) Мақала.
20. Дара сөзді табыңыз.
- A) Баспасөз.
 - B) Ақбозат.
 - C) Некен-саяқ.
 - D) Пединститут.
 - E) Аялдама.
21. Туынды үстеуді анықтаңыз.
- A) Айнала дүние түгел ұмытылды.
 - B) Аяғында ауылдан әбден ұзап шықты.
 - C) Онсыз да бітер істі тіпті осыншалық нығарлап жіберіпті.
 - D) Сонда да талай жерге еретін болды.
 - E) Әлі де түйе бақырады.

22. "Ақ" - шылауының омонимдес сөзі - қай сөз табы, белгілеңіз
- A) Рай.
 - B) Зат есім.
 - C) Етіс.
 - D) Есімше.
 - E) Сын есім.
23. Себеп мәнді жай сөйлемі бұрын орналасқан құрмалас сөйлемді көрсетіңіз.
- A) Мен қорқып тұрмын, неге десеңіз қолың қатты дейді.
 - B) Кей металдар табиғатта өте аз және таза түрінде кездесуі сирек.
 - C) Сізді ешкім шақырған жоқ, сондықтан сіз бармайсыз.
 - D) Тереңге балық уылдырық шаша алмайды, неге десең, онда уылдырық оралатын не балдыр, не шөп жоқ.
 - E) Амалсыз қонуға тура келді, өйткені мезгіл кешкіріп кетті.
24. Төл сөзді сөйлемді табыңыз.
- A) Бурабай – қазақ даласының ең әдемі де қасиетті жерінің бірі.
 - B) “Қозы Көрпеш” жыры қай заманда шықса да, Жетісу топырағында туған сияқты.
 - C) Сабыр түбі – сары алтын.
 - D) “Жасу, жабырқау – халық мінезі емес,- деп ойлады Ыбырай,- ерлік, ізгілік қана халық мінезі”
 - E) Біраздан соң, Базаралы өзі де шешіле түсіп, Абайдың саушылығын сұрастырды.
25. Қай жердегі тыныс белгісі дұрыс қойылғанын табыңыз.
- A) Есіктің киізін олай итерем: былай итерем, ашылмайды.
 - B) Есіктің киізін олай итерем- былай итерем, ашылмайды.
 - C) Есіктің киізін олай итерем, былай итерем, ашылмайды.
 - D) Есіктің киізін олай итерем; былай итерем; ашылмайды.
 - E) Есіктің киізін олай итерем, былай итерем,- ашылмайды.

**ҚАЗАҚ ТІЛІ
ПӘНІНЕН СЫНАҚ АЯҚТАЛДЫ**

ОРЫС ТІЛІ

1. Слово с ударением на втором слоге:
 - A) падают
 - B) яблоня
 - C) песня
 - D) гитара
 - E) поле
2. Укажите слово, где ставится буква -з-:
 - A) бе...словесный
 - B) бе...крайний
 - C) бе...пощадный
 - D) бе...хитростный
 - E) бе...жалостный
3. Укажите падеж существительного в словосочетании *горжусь другом*:
 - A) именительный
 - B) дательный
 - C) творительный
 - D) винительный
 - E) родительный
4. Укажите наречие:
 - A) ни с кем
 - B) никакой
 - C) никто
 - D) никому
 - E) нигде
5. Раздел науки о языке, в котором изучается словосочетание.
 - A) словообразование
 - B) синтаксис
 - C) морфология
 - D) фонетика
 - E) лексика
6. Управление:
 - A) добиться победы
 - B) встаёт заря
 - C) настоящая зима
 - D) рано смеркается
 - E) степи и дали

7. *Долго никто не спал.*

Обстоятельство выражено

- А) Глаголом
- В) Местоимением
- С) Существительным
- Д) Наречием
- Е) Причастием

8. Укажите сложносочиненное предложение:

- А) После смерти белой волчицы Серый Лютый словно окаменел.
- В) Если на дубе много желудей, то будет теплая зима.
- С) Сквозь широкие окна лился в комнату бледный свет месяца.
- Д) Ученые утверждают, что нам грозит глобальное потепление.
- Е) Птиц не слышно боле, но далеко еще до зимних бурь.

9. Репортаж, интервью, дебаты, очерк – это жанры

- А) официально-делового стиля
- В) научного стиля
- С) разговорного стиля
- Д) публицистического стиля
- Е) художественного стиля

10. Вариант, в котором употреблены слова в переносном значении:

- А) Человек спит, человек проснулся.
- В) Асан стоит, а Усен сидит.
- С) Ручеек бежит, малыш бежит.
- Д) Часы стоят, часы спешат.
- Е) Мама пришла, а сестра ушла.

11. Укажите притяжательное прилагательное:

- А) заячий след
- В) ураганный ветер
- С) золотое ожерелье
- Д) сильный характер
- Е) кожаный диван

12. Укажите определительные местоимения:

- А) какой, который
- В) сам, никто
- С) весь, какой
- Д) который, любой
- Е) каждый, сам

13. Укажите правильный вариант написания глагола в предложении:

Удас...ся ли им возврати...ся до дождя?

- А) ть-ть
- В) т-т
- С) ц-ц
- Д) ть-т
- Е) т-ть

14. Нельзя образовать страдательное причастие прошедшего времени от глагола:
- А) победить
 - В) засеять
 - С) убрать
 - Д) приплыть
 - Е) привести
15. Деепричастный оборот не обособляется:
- А) Солнце спрятавшись за узкое сизое облако золотит его край.
 - В) Мы принялись за работу засучив рукава.
 - С) Закаркав отлетала ватага черных ворон.
 - Д) Прочитав журнал я отложил его в сторону.
 - Е) Холодно и тонко посвистывая мечется ветер.
16. Укажите подчинительный временной союз:
- А) для того чтобы
 - В) если
 - С) лишь, едва
 - Д) что
 - Е) в виду того что
17. Укажите предложение с однородными сказуемыми:
- А) Осенней свежестью, листвою и плодами благоухает сад.
 - В) Тонкий дождь сеялся и на леса, и на поля, и на широкий Днепр.
 - С) Ветер срывал с берёз мокрые и пахучие листья.
 - Д) Вдали стоит дубовый лес, и блестит, и алеет на солнце.
 - Е) Не железным ключом открывается сердце, а добротой.
18. Укажите полное предложение:
- А) На берегу – туристы.
 - В) Астана светла, сияюща, лучиста.
 - С) На столе – ваза с цветами.
 - Д) Над землёй – рассвета позолота.
 - Е) За рекою – луг.
19. Укажите сложноподчиненное предложение с придаточными цели.
- А) Было установлено, что электрический ток рождает магнитное поле.
 - В) Абай рассчитывая поехать прямо к реке Беканас, где кочевал его аул.
 - С) Чтобы полюбить музыку, надо прежде всего её слушать.
 - Д) Каждый раз меня берет радостная оторопь, когда я держу в руках новую книгу.
 - Е) Ты запой мне ту песню, что прежде запекала нам старая мать.
20. Укажите фразеологизм:
- А) запутать клубок
 - В) умышленно врать
 - С) быстро бежать
 - Д) удачное начало
 - Е) бежать сломя голову

21. Укажите однокоренное слово к слову *лепить*:
- A) ослепить
 - B) вылепить
 - C) слепота
 - D) слепой
 - E) ослепнуть
22. Укажите способ образования слова *вечнозелёный*:
- A) приставочно-суффиксальный
 - B) приставочный
 - C) бессуффиксный
 - D) суффиксальный
 - E) сложение
23. Подлежащее в двусоставном предложении:
Ахи да охи не дадут подмоги - выражено
- A) местоимением
 - B) наречием
 - C) существительным
 - D) междометием
 - E) прилагательным
24. Двоеточие в бессоюзном сложном предложении.
- A) Мелкий дождь сеет с утра выйти невозможно
 - B) Сказал слово ласковое душевное крылья выросли у меня
 - C) Алешка поднялся заря еще не занималась
 - D) Зима недаром злится прошла ее пора
 - E) Пирожки сыр колбасу все съели в два счета
25. Укажите тип подчинения придаточных предложений
*Видел Егорушка, как мало-помалу темнело небо, как опускалась на землю
мгла, как засветились одна за другой звездочки.*
- A) управление
 - B) последовательное подчинение
 - C) неоднородное подчинение
 - D) комбинированное подчинение
 - E) однородное подчинение

**ОРЫС ТІЛІ
ПӘНІНЕН СЫНАҚ БІТТІ**

ҚАЗАҚСТАН ТАРИХЫ

1. Еуразия даласындағы қола дәуірінің мәдениеті:
 - A) Жетіасар
 - B) Андронов
 - C) Қалба
 - D) Қола
 - E) Атасу
2. Түркеш қағанатының астанасы:
 - A) Фараб.
 - B) Баласағұн.
 - C) Сығанақ.
 - D) Тараз.
 - E) Суяб.
3. Ресейдің саудасын дамытуда Қазақстанды “кілт және қақпа”-деп атаған Ресей патшасы:
 - A) IV Иван
 - B) III Иван
 - C) I Петр
 - D) Елизавета Петровна
 - E) I Иван
4. Орта жүздің ханы Әбілмәмбет өлген соң, хандық билік берілді:
 - A) Ералыға.
 - B) Әбілпайызға.
 - C) Уәлиге.
 - D) Нұралыға.
 - E) Абылайға.
5. 1836-1838 жылдары Бөкей Ордасында болған көтерілістің басты қозғаушы күші:
 - A) старшындар
 - B) жатақтар
 - C) сұлтандар
 - D) қолөнершілер
 - E) шаруалар
6. Әкімшілік басқару жүйесіне өз пікірлерін ұсынған қазақтың ағартушы-ғалымы:
 - A) С.Сейфуллин.
 - B) А. Құнанбаев.
 - C) Ш.Құдайбердиев.
 - D) Ш.Уәлиханов.
 - E) Ы.Алтынсарин.

7. Ш.Уәлиханов Верный бекінісінде болды:
- A) 1863 жылы
 - B) 1864 жылы
 - C) 1865 жылы
 - D) 1860 жылы
 - E) 1862 жылы
8. 1916 жылғы оқиғалар қарсаңында Қазақстанда енгізілген салық түрі:
- A) Көлік салығы
 - B) Табыс салығы
 - C) Соғыс салығы
 - D) Болыстық алым
 - E) Жер салығы
9. Рейхстаг терезесінің біріне ту тіккен қазақстандық жауынгерлер:
- A) X.Көбеков пен Н.Шелихов.
 - B) К.Мәденов пен Т. Токтаров.
 - C) Р.Қошқарбаев пен Г.Булатов.
 - D) З.Тұрарбеков пен А.Еремеев.
 - E) И.Сьянов пен X.Қайдауов.
10. Ерте темір дәуірі кезеңі аралығы:
- A) б.з.б. 11-9 ғасырлар
 - B) б.з.б. 13-11 ғасырлар
 - C) б.з.б. 15-13 ғасырлар
 - D) б.з.б. 19-15 ғасырлар
 - E) б.з.б. 8-3 ғасырлар
11. Алтын Орданың астанасы:
- A) Баласағұн.
 - B) Самарқанд.
 - C) Отырар.
 - D) Янгикент.
 - E) Сарай-Бату.
12. «Үш жүз» аңызы бойынша қазақ халқы ру-тайпаларының өз таңбаларын салған жері:
- A) Таңбалы Еділ.
 - B) Таңбалы Есіл.
 - C) Таңбалы Нұра.
 - D) Қарқаралы қойнауы.
 - E) Тарбағатайда.
13. Қазақ хандығының құрылуы жайында жазған тарихшы:
- A) Әл-Морвизи.
 - B) Мұхаммед Хайдар Дулати.
 - C) Әл-Фараби.
 - D) Жүсіп Баласағұни.
 - E) Ахмет Яссауи.

14. Қазақ хандығының жер көлемін кеңейте түсуге бар күшін жұмсаған хан:
- A) Әбілқайыр
 - B) Төле
 - C) Қасым
 - D) Жошы
 - E) Барақ
15. 1881-1883 жылдары Қазақстанға қоныс аударған дүнгендердің орналасқан басты аймағы:
- A) Семей өңірі
 - B) Шығыс Қазақстан
 - C) Орталық Қазақстан
 - D) Солтүстік Қазақстан және Жетісу
 - E) Жетісу мен Солтүстік қырғыз өңірі
16. А.Байтұрсынұлының 1909 жылы қамалғанға дейінгі атқарған қызметі:
- A) Қоғамдық-саяси қызметтер атқарды.
 - B) Қарқаралыда оқытушы.
 - C) Баспа қызметкері.
 - D) Семей училищесінде мұғалім.
 - E) «Қазақ» газетінің редакторы.
17. Қазақстанда бірінші болып ашылған жоғары оқу орны:
- A) Қазақ мемлекеттік университеті.
 - B) Алматы зоотехникалық-малдәрігерлік институты.
 - C) Қазақтың ауыл шаруашылық институты.
 - D) Қазақ педагогика институты.
 - E) Алматы мемлекеттік медицина институты.
18. 1970 жылдары әлемнің көптеген елдеріне танымал болған, «Жас тұлпардың» ықпалымен құрылған ансамбльдер:
- A) «Гүлдер», «Дос-Мұқасан», «Айгүл»
 - B) «Гүлдер», «Серпер», «Аққу»
 - C) «Жетіген», «Дос-Мұқасан»
 - D) «Гүлдер», «Жетіген», «Аққу»
 - E) «Айгүл», «Серпер»
19. Маңғыстау облысындағы Жаңа өзен қаласында тұратын Кавказ ұлттары мен жергілікті халық арасындағы соқтығыс орын алған жыл:
- A) 1991 жылы
 - B) 1990 жылы
 - C) 1989 жылы
 - D) 1988 жылы
 - E) 1987 жылы

20. Соғды тілінде жазылған қол жазба Жібек жолы арқылы жеткізіліп, осы уақытқа дейін сақтаулы тұрған ел:
- A) Үндістан
 - B) Орта Азия
 - C) Жапония
 - D) Византия
 - E) Қытай
21. XI-XII ғасырларға жататын Шығыс моншасы табылған қала:
- A) Құлан
 - B) Сығанақ
 - C) Суяб
 - D) Отырар
 - E) Талғар
22. XIV-XV ғасырлардағы сәулет өнерінің тамаша үлгісін көрсеткен кесене:
- A) Боран мұнарасы.
 - B) Бабаджа-Қатын кесенесі.
 - C) Айша бибі кесенесі.
 - D) Дәуітбек кесенесі.
 - E) Қарахан кесенесі.
23. 1859 жылы Ұлы жүз бен Қырғыз елінің солтүстік шекарасына тұрғызылған бекініс:
- A) Кәстек
 - B) Қоқан
 - C) Лепсі
 - D) Торғай
 - E) Іле
24. 1920-1921 жылдары қазақ өлкесіндегі еңбек армиясының қатарында болған адамдардың саны:
- A) 3 мыңға жуық.
 - B) 6 мыңға жуық.
 - C) 2 мың.
 - D) 7 мың.
 - E) 4 мың.
25. Жастар мен студенттердің дүниежүзілік VI фестивалының лауреаты атанған шығармашылық ұйым:
- A) Қазақ Мемлекеттік филармониясы
 - B) Құрманғазы атындағы ұлт аспаптар оркестрі
 - C) Жасөспірімдер театры
 - D) Қазақ мемлекеттік хор капелласы
 - E) Қазақ КСР Мемлекеттік ән және би ансамблі

МАТЕМАТИКА

1. Түбірді тауып, оның $a = 5$, $b = 1$, $c = 2$ болғандағы мәнін есептеңіз:

$$\sqrt[4]{\frac{0,0016a^8}{625b^4c^{12}}}$$

A) 1.

B) 10.

C) $\frac{1}{8}$.

D) $\frac{5}{8}$.

E) 0,3.

2. Есептеңіз: $\left(\frac{1}{2}\right)^{-3} : \left(\frac{1}{2}\right)^{-5}$

A) $-\frac{3}{5}$.

B) 4.

C) 0,25.

D) $\frac{12}{5}$.

E) $\frac{3}{5}$.

3. Матаның жартысы, одан кейін қалған бөліктің жартысы сатылды. Осыдан кейін 0,5 м мата қалды. Бастапқыда неше м мата болғанын табыңыз.

A) 4.

B) 2.

C) 3.

D) 1.

E) 5.

4. Теңсіздіктер жүйесін шешіңіз:
$$\begin{cases} x \leq 15 - 2x, \\ 9 - 5x < 24 \end{cases}$$

- A) (3; 5).
- B) [-3; 5].
- C) [-3; 5).
- D) (-3; 5].
- E) $(-\infty; -3)$.

5. Теңсіздікті шешіңіз:
$$\left(\frac{1}{2}\right)^{2x-3} > \left(\frac{1}{2}\right)^{-2}$$

- A) (0; 0,5).
- B) (0,5; ∞).
- C) (2,5; ∞).
- D) (0; 2,5).
- E) $(-\infty; 0,5)$.

6. Теңдеулер жүйесін шешіңіз:
$$\begin{cases} \sqrt{x+y} = 7 \\ \sqrt{x-y} = 3 \end{cases}$$

- A) $x=19, y=30$
- B) $x=29, y=20$
- C) $x=24, y=25$
- D) $x=25, y=24$
- E) $x=20, y=29$

7. Теңдеуді шешіңіз: $\cos^2 2x - \sin^2 2x = \frac{1}{2}$.

A) $\frac{\pi}{12} + \frac{\pi}{2}n, n \in Z$

B) $\frac{\pi}{6} + 2\pi n, n \in Z$

C) $6\pi n, n \in Z$

D) $-\frac{\pi}{12} + \frac{\pi}{2}n, n \in Z$

E) $\pm\frac{\pi}{12} + \frac{\pi}{2}n, n \in Z$

8. Функцияның анықталу облысын табыңыз: $y = -x + \frac{1}{2+x}$.

A) $x \in (-\infty; -2)$.

B) $x \neq 2$.

C) $x \in (2; \infty)$.

D) $x \neq -2$.

E) $x \neq 0$.

9. Берілген үшбұрыштың қабырғалары 7 см, 5 см және 4 см. Берілген үшбұрышқа ұқсас, кіші қабырғасы 1,5 см болатын үшбұрыштың қабырғаларын табыңыз:

A) $0 ; \frac{22}{8}$

B) $\frac{21}{8} ; \frac{15}{8}$

C) $\frac{16}{8} ; \frac{17}{8}$

D) $\frac{19}{8} ; \frac{22}{8}$

E) $\frac{23}{8} ; \frac{20}{8}$

10. Есептеңіз: $\frac{5^{1+\sqrt{3}} \cdot 3^{2+\sqrt{3}}}{15^{3+\sqrt{3}}}$.

A) $\frac{15}{3}$.

B) 75.

C) $\frac{1}{75}$.

D) 1.

E) $\frac{3}{15}$.

11. Теңдеуді шешіңіз: $2,5(x - 2) = \frac{x - 2}{2}$

A) $1\frac{1}{3}$.

B) 3.

C) 5.

D) 2.

E) $\frac{1}{2}$.

12. Теңдеуді шешіңіз: $(0,4)^{2x-5} = (2,5)^{5x-2}$

A) 0,1.

B) -0,1

C) 0.

D) -1.

E) 1.

13. Теңдеуді шешіңіз: $\log_3(25^x - 2 \cdot 5^x) = 2\log_9 15$

- A) 1.
- B) 1; 5.
- C) -3; 1.
- D) -3.
- E) -3; 5.

14. Есептеңіз: $\frac{10}{\sqrt{2}} \operatorname{ctg} 135^\circ \sin 210^\circ \cos 225^\circ$

- A) -1,5
- B) 2,5
- C) 1,5
- D) 1
- E) -2,5

15. Геометриялық прогрессияның еселігі $q = 2$, ал оның алғашқы төрт мүшесінің қосындысы $S_4 = 45$. Осы прогрессияның төртінші мүшесін табыңыз.

- A) 24.
- B) 30.
- C) 27.
- D) 28.
- E) 32.

16. Туындыны табыңыз: $f(x) = -\ln \cos 4x$

A) $-4 \operatorname{tg} 4x$

B) $\operatorname{ctg} 4x$

C) $-\operatorname{tg} 4x$

D) $4 \operatorname{tg} 4x$

E) $\operatorname{tg} 4x$

17. $f(x) = \frac{4 + 4x}{2x - 3}$ функциясының кему аралығын табыңыз.

A) $(-\infty; 1,5) \cup (1,5; \infty)$

B) $(-\infty; \infty)$

C) $(-\infty; \frac{1}{4}] \cup [1,5; \infty)$

D) $[-\frac{1}{4}; 1,5]$

E) $(-\frac{1}{4}; \infty)$

18. Параллелограмның қабырғалары 6 және 8, ал арасындағы бұрышы 150° .

Ауданын табыңыз.

A) 24

B) 32

C) 30

D) 29

E) 31

19. $C(0; m)$ нүктесі $A(-3; 5)$ және $B(6; 4)$ нүктелерінен бірдей қашықтықта болатындай m шамасының мәнін табыңыз.

- A) -10
- B) 9
- C) -9
- D) 10
- E) 8

20. Теңдеулер жүйесін шешіңіз:
$$\begin{cases} \frac{1}{y-1} - \frac{1}{y+1} = \frac{1}{x} \\ y^2 - x - 5 = 0 \end{cases}$$

- A) (3; -3)
- B) (4; 3)
- C) (4; 3); (4; -3)
- D) (3; -3); (4; -4)
- E) (4; -3)

21. Есептеңіз $\operatorname{tg}\beta$, егер $\operatorname{tg}\alpha = 1$ және $\operatorname{tg}(\alpha - \beta) = -2$, болса

- A) -2.
- B) 1.
- C) 2.
- D) -3.
- E) 3.

22. Теңсіздікті шешіңіз: $\sin x > \cos x$.

A) $-\frac{\pi}{4} + \pi k < x < \frac{\pi}{4} + \pi k, k \in Z$.

B) $\frac{\pi}{4} + 2\pi k < x < \frac{5\pi}{4} + 2\pi k, k \in Z$.

C) $-\frac{\pi}{4} + 2\pi k < x < \frac{\pi}{4} + 2\pi k, k \in Z$.

D) $\frac{\pi}{4} + 2\pi k < x < \frac{\pi}{2} + 2\pi k, k \in Z$.

E) $2\pi k < x < \pi + 2\pi k, k \in Z$.

23. $f(x) = -3$ функциясының $F(x) = |3x + 5|$ алғашқы функциясы болғандағы аралығы:

A) $x \in (-3; 1)$

B) $x \in (-5; -2)$

C) $x \in (-5; -1)$

D) $x \in (-2; 7)$

E) $x \in (-4; 0)$

24. Кеңістікте әртүрлі үш α, β, γ жазықтықтары берілген. α перпендикуляр β , ал β перпендикуляр γ екені белгілі болса, α және γ жазықтықтарының өзара орналасуы

A) қиылысады

B) параллель

C) қиылысады немесе беттеседі

D) перпендикуляр немесе беттеседі

E) перпендикуляр

25. Кубтың диагоны a . Осы кубқа сырттай сызылған цилиндрдің көлемін табыңыз:

A) $\frac{\pi a^3}{4\sqrt{2}}$

B) $\frac{\pi a^3}{6\sqrt{3}}$

C) $\frac{\pi a^3}{5\sqrt{2}}$

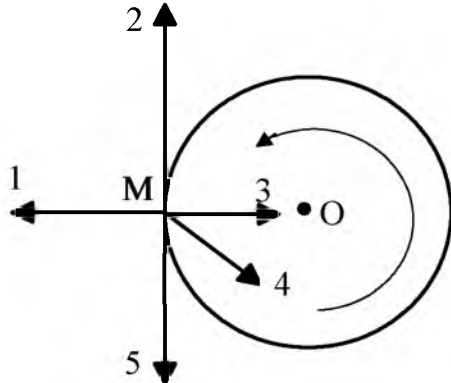
D) $\frac{\pi a^2}{6\sqrt{3}}$

E) $\frac{\pi a^3}{6\sqrt{2}}$

**МАТЕМАТИКА
ПӘНІНЕН СЫНАҚ БІТТІ**

ФИЗИКА

1. Дене шеңбер бойымен бір қалыпты сағат тіліне қарама-қарсы бағытта қозғалады (суретке қара). М нүктесіндегі жылдамдық векторының бағыты



- A) 5.
 B) 4.
 C) 1.
 D) 2.
 E) 3.
2. Сұйықтың ыдыс табанына түсіретін қысымын есептеу үшін білуге қажетті шамалар
- A) сұйықтың тығыздығы мен бағанының биіктігі.
 B) ыдыс табанының ауданы.
 C) сұйықтың салмағы мен бағанының биіктігі.
 D) ыдыстың көлемі.
 E) сұйықтың салмағы мен көлемі.
3. Массасы 3 кг дененің Жер бетінен 1 м қашықтықтағы потенциалдық энергиясы ($g = 10 \text{ м/с}^2$)
- A) 60 Дж
 B) 30 Дж
 C) 90 Дж
 D) 50 Дж
 E) 150 Дж
4. Өткізгіштің ұштарындағы кернеу 6 В, кедергісі 2 Ом. Ток күші
- A) 3 А.
 B) 10 А.
 C) $\frac{1}{3}$ А.
 D) 6 А.
 E) 12 А.

5. Кернеуді өлшейтін құрал
- A) реостат.
 - B) омметр.
 - C) вольтметр.
 - D) ваттметр.
 - E) амперметр.
6. Ұзындығы 0,2 м, электрқозғалтқыш якорінің сымы орналасқан жердегі магнит индукциясы 0,25 Тл. 20 А ток күші өткенде, сымға әсер ететін күш
- A) 4Н
 - B) 2Н
 - C) 1Н
 - D) 5Н
 - E) 3Н
7. Математикалық маятниктің тербеліс периодын анықтайтын формула
- A) $\sqrt{\frac{\ell}{g}}$
 - B) $\frac{1}{2\pi\sqrt{\ell g}}$
 - C) $\sqrt{\frac{g}{\ell}}$
 - D) $2\pi\frac{\ell}{g}$
 - E) $2\pi\sqrt{\frac{\ell}{g}}$
8. Органың сыну көрсеткіші 2. Осы ортадағы жарық жылдамдығы ($c=3\cdot 10^8$ м/с)
- A) $1,5\cdot 10^3$ м/с.
 - B) $1,5\cdot 10^8$ м/с.
 - C) 140 м/с.
 - D) 150 м/с.
 - E) $1,4\cdot 10^{10}$ м/с.
9. Нуклондар бола алатын бөлшектер жұбы –
- A) протон және электрон.
 - B) протон және нейтрон.
 - C) электрон және позитрон.
 - D) электрон және нейтрино.
 - E) протон және нейтрино.

10. Массасы 1,5 т автобус орнынан 1,5 кН тарту күшінің әрекетінен қозғалады. Егер автобуска әрекет ететін кедергі күш 450 Н болса, онда оның үдеуі
- A) $0,07 \text{ м/с}^2$.
 - B) 13 м/с^2 .
 - C) $0,7 \text{ м/с}^2$.
 - D) $1,3 \text{ м/с}^2$.
 - E) $1,75 \text{ м/с}^2$.
11. Серіппені 4 мм-ге созу үшін 0,02 Дж жұмыс істелсе, осы серіппені 4 см-ге созу үшін атқарылатын жұмыс
- A) 1 Дж
 - B) 2,5 Дж
 - C) 3 Дж
 - D) 4 Дж
 - E) 2 Дж
12. Жіпке 250 Н күшпен әсер етіп, қозғалмайтын блоктың жәрдемімен массасы 24,5 кг құм салынған шелекті 10 м биіктікке көтерген. Блоктың ПӘК-і
- A) 102%.
 - B) 9,8%.
 - C) 0,98%.
 - D) 98%.
 - E) 10,2%.
13. Көлемі $0,04 \text{ м}^3$ газдың қысымы 200 кПа, ал температурасы 240 К. Ондағы зат мөлшері ($R=8,31 \text{ Дж}/(\text{моль}\cdot\text{К})$)
- A) 4 моль.
 - B) 5 моль.
 - C) 6 моль.
 - D) 7 моль.
 - E) 3 моль.
14. Бір атомды идеал газдың 2 молін 50 К-ге қыздырған. Газдың ішкі энергиясының өзгерісі ($R = 8,31 \text{ Дж}/(\text{моль}\cdot\text{К})$)
- A) 2077,5 Дж.
 - B) 1246,5 Дж.
 - C) 1662 Дж.
 - D) 831 Дж.
 - E) 2493 Дж.
15. Өріс 40 мкДж жұмыс атқарғанда потенциалдар айырмасы 1 кВ екі нүкте аралығында орын ауыстыратын зарядтың шамасы
- A) 40 мкКл.
 - B) 40 мКл.
 - C) 40 нКл.
 - D) 40 кКл.
 - E) 40 Кл.

16. Ауданы 50 см^2 контур индукциясы 6 Тл біртекті магнит өрісінде орналасқан. Егер \vec{B} векторымен контур жазықтығының \vec{n} нормалі 60° жасайтын болса, онда контурды тесіп өтетін магнит ағыны
- A) 30 Вб .
 - B) $3 \cdot 10^{-2} \text{ Вб}$.
 - C) 150 Вб .
 - D) 300 Вб .
 - E) $1,5 \cdot 10^{-2} \text{ Вб}$.
17. Гармониялық тербелетін дене жылдамдығы Ox осі бойымен $\vartheta = 6 \cos 3t$ (м/с) заңымен өзгереді. Тербеліс үдеуі амплитудасының модулі
- A) 6 м/с^2
 - B) 2 м/с^2
 - C) $1,8 \text{ м/с}^2$
 - D) 18 м/с^2
 - E) 54 м/с^2
18. Контурдағы конденсаторды сыйымдылығы екі есе үлкен конденсатормен ауыстырғанда, еркін тербелістердің периоды
- A) $\sqrt{2}$ есе азаяды.
 - B) өзгермейді.
 - C) 2 есе азаяды.
 - D) $\sqrt{2}$ есе артады.
 - E) 2 есе артады.
19. Фотозффект басталатын жиілік $6 \cdot 10^{14} \text{ Гц}$. Тежеуіш потенциалдар айырмасы 3 В болса, тежелетін электрондарды жұлып шығаратын жарықтың жиілігі ($h = 6,63 \cdot 10^{-34} \text{ Дж}\cdot\text{с}$; $e = 1,6 \cdot 10^{-19} \text{ Кл}$)
- A) $\approx 1,33 \cdot 10^{14} \text{ Гц}$
 - B) $\approx 133 \cdot 10^{14} \text{ Гц}$
 - C) $\approx 0,133 \cdot 10^{14} \text{ Гц}$
 - D) $\approx 13,3 \cdot 10^{14} \text{ Гц}$
 - E) $\approx 1330 \text{ Гц}$
20. Жер бетінен 300 м биіктікте орналасқан нүктеден бір мезетте екі тас 20 м/с жылдамдықпен, біреуі – вертикаль томен, екіншісі – вертикаль жоғары, лақтырылады. Екеуінің арасындағы қашықтық 200 м болу үшін кеткен уақыт
- A) 10 с .
 - B) 20 с .
 - C) 15 с .
 - D) 2 с .
 - E) 5 с .

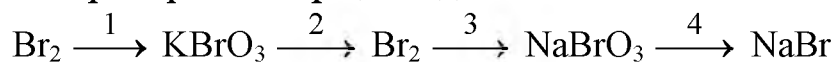
21. Массалары 400 кг екі бірдей дене өз-ара тартылады. Егер біреуінің массасын 100 кг-ға арттырса, сол қашықтықтағы олардың тартылыс күші
- A) 4 есе артады.
 - B) 1,25 есе артады.
 - C) 2 есе артады.
 - D) 1,25 есе кемиді.
 - E) 4 есе кемиді.
22. Үстіндегі адамды қоса есептегендегі массасы 100 кг қолшана биіктігі 8 м, ұзындығы 100 м төбешіктен сырғанап түсті. Егер төбешіктің етегінде пананың жылдамдығы 10 м/с және бастапқы жылдамдығы нөлге тең болса, қозғалыстың орташа кедергі күші ($g = 10 \text{ м/с}^2$)
- A) 15 Н
 - B) 10 Н
 - C) 30 Н
 - D) 5 Н
 - E) 45 Н
23. Сыйымдылығы 10 л баллондағы газдың температурасы 27°C . Газ баллон саңылауынан сыртқа шыққанда газ қысымы 4,2 кПа-ға төмендеді. Сыртқа шыққанда молекула саны (газ температурасы тұрақты; $k = 1,38 \cdot 10^{-23} \text{ Дж/К}$)
- A) 10^{23}
 - B) 10^{20}
 - C) 10^{21}
 - D) 10^{24}
 - E) 10^{22}
24. Идеал жылу машинасының қыздырғышының температурасы 117°C , ал тоңазытқыштікі 27°C . Егер қыздырғыштан 1с ішінде алатын жылу мөлшері 60 кДж болса, машинаның ПӘК-і және 1с ішінде тоңазытқышқа берілетін жылу мөлшері
- A) 33 %, 0,46 кДж.
 - B) 33 %, 460 кДж.
 - C) 23 %, 0,46 кДж.
 - D) 23 %, 460 кДж.
 - E) 23 %, 46 кДж.
25. Үш бірдей конденсатор кернеу көзіне қосылған. Конденсаторлардың параллель қосқандағы энергиясы тізбектей қосқандағы энергиясынан
- A) 9 есе артық.
 - B) 3 есе артық.
 - C) 2 есе артық.
 - D) 9 есе кем.
 - E) 3 есе кем.

ХИМИЯ

1. Берілген заттардың ішінен ең ауыры
 - A) D_2 .
 - B) T_2O .
 - C) D_2O .
 - D) H_2 .
 - E) H_2O .
2. p-элементтер орналасқан қатар
 - A) Rb, Al, Cu
 - B) Fe, Cr, Mn
 - C) Na, P, O
 - D) Li, Ba, H
 - E) N, S, C
3. Катион
 - A) ClO_3^-
 - B) K^+
 - C) Cl^-
 - D) OH^-
 - E) CO_3^{2-}
4. Өнеркәсіпте оттегін алу әдісі
 - A) Ауаны қысып, сұйылтып, айдау
 - B) Суды ығыстыру әдісі
 - C) Электр тогы әсерімен суды айыру
 - D) Ауаны ығыстыру әдісі
 - E) Сынап оксидін қыздырғанда
5. Реакция теңдеуіндегі $K+O_2 \rightarrow K_2O$, калийдің алдында қойылатын коэффициент:
 - A) 1
 - B) 2
 - C) 5
 - D) 3
 - E) 4
6. Алкендер класының сипаттамасына жатпайды
 - A) гибридтену түрі sp^3
 - B) валенттік бұрыш 120°
 - C) 1π байланыс
 - D) кеңістікте молекуланың құрылысы жазықтық
 - E) $C=C$ байланыстың ұзындығы 0,134 нм

7. Каучук жұмсарады
- A) температура тұрақты болғанда
 - B) қысым тұрақты болғанда
 - C) температура жоғарылағанда
 - D) температура төмендегенде
 - E) қысым төмендегенде
8. Сабын алу үшін қажет күрделі эфир:
- A) $C_3H_7COOC_3H_7$
 - B) $C_2H_5COOC_3H_7$
 - C) $C_8H_{17}COOCH_3$
 - D) $C_3H_5(OCOC_{15}H_{31})_3$
 - E) $C_2H_5COOCH_3$
9. Синтетикалық талшық
- A) жібек
 - B) ацетатты талшық
 - C) капрон
 - D) жүн
 - E) мақта
10. $N_2 + 3H_2 = 2NH_3$ реакциядағы сутектің концентрациясын 3 есе көбейткенде реакция жылдамдығы ...
- A) 27 есе артады.
 - B) 27 есе кемиді.
 - C) 9 есе кемиді.
 - D) 9 есе артады.
 - E) 3 есе артады.
11. 100 г тұздың ерітіндісін суалтқанда ыдыста 15 г тұз қалды. Ерітіндідегі тұздың массалық үлесі
- A) 15%
 - B) 60%
 - C) 50%
 - D) 25%
 - E) 40%
12. Хлор (VII) оксидіндегі π -байланыстардың жалпы саны:
- A) 14
 - B) 6
 - C) 10
 - D) 7
 - E) 12

13. Өзгерістер сызбанұсқасында



сілті қатысуы қажетті стадия

A) 2,3

B) 1,2

C) 1,3

D) 3,4

E) 2,4

14. Берілген иондары бар тұздар ерітінділеріне натрий сульфиді ерітіндісі құйылды. Сонда, металл сульфидтерінің тұнбасы түзілді. Тұнба түзбейтін ион:

A) Zn^{2+} .

B) Pb^{2+} .

C) Bi^{3+} .

D) Fe^{2+} .

E) K^{+} .

15. Мына тыңайтқыштар берілген: калий, натрий және аммиак селитралары.

Құрамында азоттың мөлшері көп тыңайтқыштағы азоттың массалық үлесі:

A) 16,5%.

B) 33,0%.

C) 13,9%.

D) 35,0%.

E) 27,8%.

16. Мына термохимиялық теңдеу бойынша:

$\text{CH}_4 + 2\text{O}_2 = \text{CO}_2 + 2\text{H}_2\text{O} + 880 \text{ кДж}$ 112 л (қ.ж.) метан жанғанда бөлінетін жылу мөлшері (кДж):

A) 8800

B) 4400

C) 6600

D) 5600

E) 2200

17. Никельді алюмотермиялау үшін алынатын заттар:

A) Al_2O_3 ; $\text{Ni}(\text{OH})_2$.

B) Al_2O_3 ; NiO .

C) Al ; Cr .

D) Al ; NiO .

E) Al_2O_3 ; Ni .

18. Мыс концентрлі күкірт қышқылымен әрекеттескенде түзілетін заттар

A) $\text{CuO} + \text{H}_2\text{S}$

B) $\text{CuSO}_4 + \text{H}_2$

C) $\text{CuSO}_4 + \text{H}_2\text{S}$

D) $\text{CuSO}_4 + \text{H}_2\text{O} + \text{SO}_2$

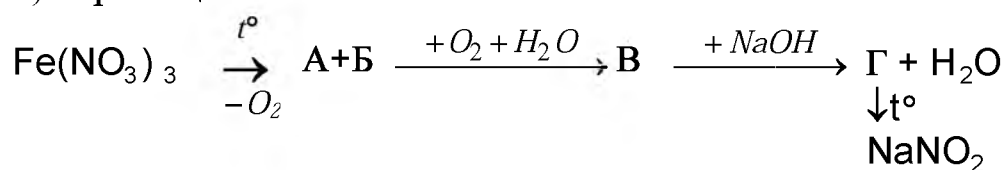
E) $\text{CuO} + \text{H}_2\text{SO}_4$

19. Детонация дегеніміз

- A) Жоғары температурада бөлшектенуі
- B) мұнай өнімдерін айдау
- C) Жоғары қысымда мұнай өнімдерінің бөлшектенуі
- D) Бензиннің қозғалтқышта қопарылыс түзіп жануы
- E) Мұнайдың өнімдерін тазарту

20. Басқа заттармен реакцияда тек тотықтырғыш қасиет көрсетеді

- A) калий перманганаты
- B) марганец (II) хлориді
- C) калий манганаты
- D) марганец (IV) оксиді
- E) марганец



21.

тізбегіндегі А, В, Г заттары

- A) азот (II) оксиді, азот (IV) оксиді, натрий нитраты
- B) темір (III) оксиді, азот қышқылы, натрий нитраты
- C) темір (II) оксиді, азотты қышқыл, натрий нитриті
- D) темір (II) оксиді, азот (IV) оксиді, натрий нитриті
- E) темір (III) оксиді, азот қышқылы, натрий нитриті

22. Ауа бойынша тығыздығы 2,4 болатын циклоалканның 0,5 моль жанғанда бөлінетін (реакцияның жылу эффектісі - 6556 кДж) жылу мөлшері

- A) 1339 кДж
- B) 1539 кДж
- C) 1639 кДж
- D) 1439 кДж
- E) 1239 кДж

23. 23 г этанол мен 30 г пропанол әрекеттескенде түзілген жай эфирдің массасы

- A) 66 г
- B) 77 г
- C) 44 г
- D) 33 г
- E) 55 г

24. 16 г метил спиртін толық жаққанда түзілетіндей газ алу үшін, спирттік ашу үшін қажет глюкозаның массасы

- A) 45 г
- B) 46 г
- C) 43 г
- D) 47 г
- E) 44 г

25. Сутекпен салыстырғандағы тығыздығы 22,5, ал массалық үлестері:
 $C = 0,535$, $H = 0,155$, $N = 0,312$ болатын заттын аталуы:
- A) Этиламин.
 - B) Фениламин.
 - C) Метиламин.
 - D) Пропиламин.
 - E) Бутиламин.

ХИМИЯ
ПӘНІНЕН СЫНАҚ БІТТІ

БИОЛОГИЯ

1. Аталық және аналық жыныс жасушаларының қосылуы-
 - A) Спора арқылы көбею.
 - B) Жынысты көбею.
 - C) Қос жынысты көбею.
 - D) Вегетативті көбею.
 - E) Жыныссыз көбею.
2. Жасушаларына ядро, цитоплазма, рибосомалар, вакуольдер және жасуша қабықшасына хитин тән ағзалар:
 - A) Балдырлар.
 - B) Өсімдіктер.
 - C) Вирустар.
 - D) Бактериялар.
 - E) Саңырауқұлақтар.
3. Тең споралы және әртүрлі споралы өсімдіктер:
 - A) Қырықжапырақ
 - B) Мүк
 - C) Қырықбуын
 - D) Плаун
 - E) Қарағай
4. Астық тұқымдас емес өсімдік:
 - A) Сұлы.
 - B) Бидай.
 - C) Картоп.
 - D) Қарабидай.
 - E) Жүгері.
5. Ашық дала алқаптарында мекендейтін қ±стардың үкілі -
 - A) Б%оркіт.
 - B) Ақ дегелек.
 - C) ‡кі.
 - D) Қарлығаш.
 - E) Қырғауыл.
6. Аралық ми ... реттейді:
 - A) қозғалысты.
 - B) ішкі секреция бездерінің жұмысын.
 - C) бұлшық еттердің жұмысын.
 - D) ішкі мүшелермен байланысты.
 - E) сезім мүшелерінің жұмысын.

7. Асқынғанда жөтеліп қан түкіретін жұқпалы ауру:
- A) ларингит
 - B) туберкулез
 - C) гайморит
 - D) силикоз
 - E) трахеит
8. Органикалық дүниенің дамуының кезеңдері:
- A) архей, протерезой, палеозой
 - B) архей, палеозой, мезозой
 - C) архей, протерезой, палеозой, мезозой, кайнозой
 - D) протерезой, палеозой, кайнозой
 - E) мезозой, палеозой, кайнозой
9. Адам ағзасында D витаминін синтездеуге қатысатын сәулені белгілеңіз.
- A) Ультракүлгін.
 - B) Инфрақызыл.
 - C) Инфракүлгін.
 - D) Ультрақызыл.
 - E) Көрінетін сәуле
10. Қазақстанда «Қызыл кітаптың» үшінші басылымы жарыққа шықты:
- A) 1978 ж
 - B) 1991 ж
 - C) 1976 ж
 - D) 1996 ж
 - E) 1998 ж
11. Тамырларды қорғайтын ұлпа:
- A) Жабын
 - B) Негізгі
 - C) Қор жинаушы
 - D) Түзуші
 - E) Өткізгіш
12. Жапырақтың жалпақ бөлімі:
- A) Алақаны (тақтасы).
 - B) Жүйкелері.
 - C) Күлтесі
 - D) Сағағы.
 - E) Тостағаншасы
13. Гельминтология ғылымының зерттейтіні:
- A) Паразит құстар.
 - B) Балықтар.
 - C) Паразит құрттар.
 - D) Қосмекенділер.
 - E) Паразит шаяндар.

14. Акромегалия ауруы белгісіне жатпайды:
- A) Бет, маңдай сүйектері алға шығыңқы.
 - B) Қол-аяқ сүйектері үлкен.
 - C) Шөлдегіш келеді.
 - D) Тілі аузына симады.
 - E) Дауысы гүжілдейді.
15. Кеуде (кокірек) қуысын құрайтын сүйектер:
- A) 12 жұп қабырға, төс сүйегі, арқа омыртқалар
 - B) 12 жұп қабырға, омыртқалар
 - C) 10 жұп қабырға және төс сүйегі
 - D) 10 жұп қабырға, омыртқалар
 - E) 12 жұп қабырға және төс сүйегі
16. Лимфа жүйесінің қызметін реттейді
- A) тимус пен көкбауыр
 - B) жүйке жүйесі
 - C) жүрек
 - D) бүйрек
 - E) бауыр мен бүйрек
17. Көптеген аурулардың қоздырғыштарын тасымалдаушылар-
- A) Кірпікшелі кебішпелер.
 - B) Вирустар.
 - C) Жуылмаған көкөністер.
 - D) Шыбындар.
 - E) Бактериялар.
18. ... дәрумені жетіспегенде қан ұюы баяулайды
- A) К
 - B) В₁
 - C) Д
 - D) А
 - E) В₁₂
19. Органикалық заттарды ыдырататын ферменттерінің органоиды:
- A) Хлоропласт.
 - B) Хромопласт.
 - C) Лейкопласт.
 - D) Митохондрия.
 - E) Лизосома.
20. Құм шіркейлері арқылы таралатын тері ауруының түрі:
- A) Безгек ауруы
 - B) Гоммоз
 - C) Лейшманиоз
 - D) Қышыма ауруы
 - E) Дизентерия

21. Құстар тыныс алады
- A) Желбезек
 - B) Тері
 - C) Демтүтік
 - D) Өкпе, ауа қапшықтары
 - E) Ауатамыр
22. Зеравшан аршасы жеміс беретін жыл.
- A) 30.
 - B) 40.
 - C) 10.
 - D) 20.
 - E) 50.
23. Гомологиялық хромосомалардың бір-біріне жақындауы:
- A) Митоз
 - B) Кроссинговер
 - C) Транскрипция
 - D) Конъюгация
 - E) Трансляция
24. Адамдағы аналық жыныс хромосома санының ауытқуы:
- A) 44 аутосомы + ХУ
 - B) 22 аутосомы + Х
 - C) 46 аутосомы
 - D) 22 аутосомы + У
 - E) 44 аутосомы + ХХ
25. Аналогтық мүшелер
- A) Жарғанаттың қанаты мен тышқанның алдыңғы аяғы
 - B) Кесіртке мен киттің алдыңғы аяғы
 - C) Көбелек пен құстың қанаттары
 - D) Итмұрынның тікенектері
 - E) Үйректұмсық пен түрпінің жұмыртқа

БИОЛОГИЯ
ПӘНІНЕН СЫНАҚ БІТТІ

ГЕОГРАФИЯ

1. «География» ұғымын енгізген
 - A) Аристотель
 - B) Страбон
 - C) Геродот
 - D) Платон
 - E) Эратосфен
2. Көкжиек тұстарын анықтайтын құрал
 - A) Тұсбағдар
 - B) Барометр
 - C) Нивелар
 - D) Термометр
 - E) Гигрометр
3. Таулар биіктігіне қарай бөлінеді
 - A) 5
 - B) 4
 - C) 3
 - D) 2
 - E) 1
4. Климаттық белдеулердің ең суығы :
 - A) арктикалық
 - B) қоңыржай
 - C) экваторлық
 - D) тропиктік
 - E) субарктикалық
5. Географиялық қабықтың ырғақтылық заңдылығы:
 - A) Желдің соғуы.
 - B) Өсімдіктердің өсуі.
 - C) Мұздардың еруі.
 - D) Күн мен түн ауысуы.
 - E) Судың булануы.
6. Қазақстанмен шекаралас елдер.
 - A) Қытай, Ресей, Түркменстан, Қырғызстан, Өзбекстан.
 - B) Ресей, Қырғызстан, Монғолия, Өзбекстан, Қытай.
 - C) Беларусь, Иран, Монғолия, Қытай, Түркменстан.
 - D) Украина, Қытай, Өзбекстан, Ресей, Монғолия.
 - E) Ресей, Тәжікстан, Қытай, Өзбекстан, Қырғызстан.
7. Қазақстанның өзен алаптары.
 - A) Үнді мұхиты.
 - B) Тынық мұхиты.
 - C) Атлант мұхиты және ішкі ағынсыз алап.
 - D) Солтүстік Мұзды мұхиты.
 - E) Солтүстік Мұзды мұхиты және ішкі ағынсыз алап.

8. Каспий қайраңының негізгі байлығы.
- A) Мұнай, газ.
 - B) Темір рудалары.
 - C) Мыс рудалары.
 - D) Фосфориттер.
 - E) Көмір, мұнай.
9. Марганец қоры бойынша Қазақстанның дүниежүзінде алатын орны:
- A) 2
 - B) 1
 - C) 5
 - D) 3
 - E) 4
10. Өтпелі географиялық белдеу:
- A) Тропиктік
 - B) Полярлық
 - C) Экваторлық
 - D) Қоңыржай
 - E) Субэкваторлық
11. Оймякон елді мекенінде ... ең төмен температура тіркелген.
- A) -42°C .
 - B) -71°C .
 - C) -66°C .
 - D) -21°C .
 - E) -81°C .
12. Оңтүстік Америка климатының өзіндік ерекшеліктерін зерттеген зерттеуші
- A) М. Лазарев
 - B) Н.И. Вавилов
 - C) Ф. Дрейк
 - D) А.И. Войеиков
 - E) А. Гумбольдт
13. Су энергетикалық қоры жеткілікті аудандар .
- A) Солтүстік және Оңтүстікте.
 - B) Солтүстік және Шығыс Қазақстан.
 - C) Оңтүстік және Орталық Қазақстан.
 - D) Шығыс және Оңтүстік Қазақстан.
 - E) Орталық және Батыс Қазақстан.
14. Қазақстандағы негізгі ауыр индустрия орталығы.
- A) Шығыс Қазақстан.
 - B) Солтүстік Қазақстан.
 - C) Орталық Қазақстан.
 - D) Батыс Қазақстан.
 - E) Оңтүстік Қазақстан.

15. Қазақстанның өнімін негізгі сатып алушылар.
 - A) Ресей, Қытай.
 - B) Австрия, Венгрия.
 - C) Бельгия, Дания.
 - D) Қырғызстан, Мексика.
 - E) Молдова, Украина.
16. Испан тілі - мемлекеттік тіл болып табылатын ел
 - A) Канада
 - B) Жаңа Зеландия
 - C) Мексика
 - D) Австралия
 - E) Индия
17. Дүние жүзіндегі ең ірі теңіз порты
 - A) Роттердам.
 - B) Токио.
 - C) Сингапур.
 - D) Жаңа Орлеан.
 - E) Гонконг.
18. Молдова төмендегі өзендер аралығында орналасқан:
 - A) Волга, Неман
 - B) Дунай, Волга
 - C) Днепр, Дунай
 - D) Ока, Неман
 - E) Прут, Днестр
19. Шығыс Еуропадағы ең басты көлік түрі
 - A) Әуе
 - B) Автомобиль
 - C) Су
 - D) Теміржол
 - E) Құбыр
20. Қазақстан аумағында герцин қатпарлар аймағы:
 - A) Тұран.
 - B) Сарыарқаның солтүстік-батысы.
 - C) Маңғыстау.
 - D) Мұғалжар.
 - E) Каспий маңы ойпаты.
21. Қазақстан аумағының 44%-ін алып жатқан табиғат зонасы.
 - A) Дала.
 - B) Шөл.
 - C) Орманды дала.
 - D) Биік таулы.
 - E) Шөлейт.

22. Солтүстік Қазақ жазығының өзендері мен көлдерінде Солтүстік Америкадан әкелініп, жерсіндірілген жануар:
- A) Тырна
 - B) Сұңқар
 - C) Тоқылдақ
 - D) Ондатр
 - E) Дуадақ
23. Жылқының адай тұқымы тараған облыс:
- A) Ақмола
 - B) Жамбыл
 - C) Қарағанды
 - D) Алматы
 - E) Атырау
24. Қытай дүние жүзінде ... мал шаруашылығынан 1-ші орында
- A) жылқы
 - B) түйе
 - C) ірі қара
 - D) шошқа
 - E) қой
25. Әлемдік теңізге шыға алмайтын мемлекет:
- A) Чили.
 - B) Колумбия.
 - C) Венесуэла.
 - D) Перу.
 - E) Боливия.

ГЕОГРАФИЯ
ПӘНІНЕН СЫНАҚ БІТТІ

ДҮНИЕ ЖҮЗІ ТАРИХЫ

1. Үндістанды өзге елдерден бөліп тұрған тау:
 - A) Памир.
 - B) Орал.
 - C) Тибет.
 - D) Кавказ.
 - E) Гималай.
2. XV ғ. аяғында Пиреней түбегінде құрылған корольдіктер:
 - A) Вестготтар және Испания
 - B) Кордова және Португалия
 - C) Наварра және Гранада
 - D) Кастилия және Арагон
 - E) Испания және Португалия
3. Ағылшын буржуазиялық революциясының нәтижесінде орныққан мемлекеттік басқару формасы:
 - A) Президенттік республика
 - B) Әскери диктатура
 - C) Абсолютті монархия
 - D) Парламенттік республика
 - E) Парламенттік монархия
4. Осман империясының билеушісінің титулы:
 - A) Император
 - B) Хан
 - C) Король
 - D) Сұлтан
 - E) Әмір
5. Ресейде азамат соғысы болған жылдар:
 - A) 1915-1918 ж.ж.
 - B) 1916-1920 ж.ж.
 - C) 1918-1920 ж.ж.
 - D) 1916-1918 ж.ж.
 - E) 1917-1918 ж.ж.
6. Екінші дүниежүзілік соғыстың аяқталған уақыты:
 - A) 1945 жылғы 8 мамыр.
 - B) 1945 жылғы 9 мамыр.
 - C) 1945 жылғы 24 маусым.
 - D) 1945 жылғы 6 тамыз.
 - E) 1945 жылғы 2 қыркүйек.

7. 1985-1991 жылдары Кеңес елінің бірінші басшысы болған:
- A) Ельцин Б.Н.
 - B) Черненко К.У.
 - C) Хрущев Н.С.
 - D) Андропов Ю.В.
 - E) Горбачев М.С.
8. 1963-1965 жылдары Малайзия Федерациясының құрамында болған мемлекет:
- A) Филиппин
 - B) Вьетнам
 - C) Сингапур
 - D) Австралия
 - E) Индонезия
9. Солтүстік полюсте бірінші кеңес ғылыми зерттеу станциясы өзінің жұмысын бастады:
- A) 1937 жылы
 - B) 1957 жылы
 - C) 1947 жылы
 - D) 1967 жылы
 - E) 1977 жылы
10. Балтырдың ең белгі мәліметтер беретін шығарма:
- A) «Алтын Ұлы»
 - B) «Алтын Ұлы»
 - C) «Таурат»
 - D) «Инжіл»
 - E) «Библия»
11. Арабтар 711 жылы жаулап ала бастаған ел:
- A) Ауғанстан.
 - B) Испания.
 - C) Иран.
 - D) Сирия.
 - E) Үндістан.
12. XII ғасырда көшпелі қыпшақтардан Русьті отыз жылдай уақыт қорғаған ұлы кінәз:
- A) Олег.
 - B) Ярослав Мудрый.
 - C) Святослав.
 - D) Владимир I.
 - E) Владимир Мөномах.

13. 1611-1612 ж. Ресейдегі поляк басқыншыларына қарсы жасақты басқарған қолбасшылар:
- А) Ю. Долгорукий, А. Богомобский.
 - В) Д. Трубецкой, В. Юрьевич.
 - С) П. Ляпунов, О. Святославич.
 - Д) Я. Осмомысл, Р.Мстиславович.
 - Е) К. Минин, Д. Пожарский.
14. 1904-1905 жылдары Ресей соғысқан мемлекет:
- А) Жапония.
 - В) Австрия-Венгрия.
 - С) Түркия.
 - Д) Қытай.
 - Е) Ирак.
15. 1825 ж. құрылған бұл мемлекет өзінің азат етушісінің құрметімен аталады, ол –
- А) Венесуэла
 - В) Аргентина
 - С) Чили
 - Д) Бразилия
 - Е) Боливия
16. «Адамдар комедиясы» деп аталатын сериялы туындының авторы, француз жазушысы:
- А) Вольтер.
 - В) Генрих Гейне.
 - С) Мольер.
 - Д) Оноре де Бальзак.
 - Е) Виктор Гюго.
17. 1923 жылы қазан айында Гамбург қаласында болған коммунистер көтерілісінің басшысы:
- А) О.Гротеволь.
 - В) В.Куно.
 - С) Ф.Эберт.
 - Д) Э.Тельман.
 - Е) В.Капп.
18. Британия империясының жаңаша атауы:
- А) «Британия Ұлттық ынтымақтастығы»
 - В) «Британия ынтымақтастығы»
 - С) «Көпнәсілдік ассоциациясы»
 - Д) «Экономикалық қоғамдастық»
 - Е) «Ұлыбритания социалистік ынтымақтастығы»

19. “Уотергейт жанжалына” байланысты өз еркімен биліктен кеткен АҚШ президенті:
- А) Б. Клинтон.
 - В) Р. Никсон.
 - С) Р. Рейган.
 - Д) Д. Кеннеди.
 - Е) Дж. Картер.
20. Ежелгі Рим империясы поэзиясының «алтын ғасыры» атанған кез:
- А) б.з. IV ғ. мен V ғ. аралығы
 - В) б.з.б. III ғ.
 - С) б.з. III ғ.
 - Д) б.з.б. III ғ. соңы мен II ғ. басы
 - Е) б.з.б. I ғ. соңы мен б.з. I ғ. басы
21. Франктер империясында жаңа қоғамдық құрылыс – феодализмнің қалыптаса бастауының белгісі:
- А) Тұрақты әскерлердің көбеюі.
 - В) Карл Мартелдің басқа мемлекеттердің жерлерін жаулап алуы.
 - С) Карл Мартелдің жерді сыйлыққа үлестіруі.
 - Д) Екіншіліктің жедел дамуы .
 - Е) Ұсақ өндірістің пайда болуы.
22. Христофор Колумбтың туған қаласы:
- А) Генуя.
 - В) Мадрид.
 - С) Лиссабон.
 - Д) Рим.
 - Е) Барселона.
23. XVII ғ 40 ж. Англияның отарлау саясатын күшейткен тарихи жағдай:
- А) Буржуазиялық революцияның жеңісі.
 - В) Чартизмнің басталуы.
 - С) Луддашылдар қозғалысының өршуі.
 - Д) Өнеркәсіп тоңкерісінің жүзеге асуы.
 - Е) Ағартушылық идеяның тууы.
24. XIX ғ. Осман империясының сұлтаны II Махмұдтың мемлекетті басқару ісіне енгізген өзгерістері:
- А) Жерге жеке меншік құқығы жойылды
 - В) Парламенттік басқару жүйесін енгізді
 - С) Еуропалық үлгідегі министрліктер құрылды
 - Д) Бүкіл аймақтарға өзін-өзі басқару құқығы берілді
 - Е) Дәстүрлі басқару жүйесі нығайтылды

25. Моңғолияда Халық революциясы жарияланған жыл:

- A) 1921 ж.
- B) 1922 ж.
- C) 1919 ж.
- D) 1917 ж.
- E) 1924 ж.

**ДҮНИЕ ЖҮЗІ ТАРИХЫ
ПӘНІНЕН СЫНАҚ БІТТІ**

ҚАЗАҚ ӘДЕБИЕТІ

1. Жылқы атасын белгілеңіз.
 - A) Қамбар ата.
 - B) Ойсыл қара.
 - C) Шопан ата.
 - D) Сексек ата.
 - E) Зеңгі баба.
2. Қазтуған жырларының арқауы не екендігін көрсетіңіз.
 - A) Оқу-ағарту.
 - B) Туған елі.
 - C) Дін мәселесі.
 - D) Өнер түрлері.
 - E) Жастардың өмірі.
3. Нарын деген жерді ел құлағына сіңісті қылған ақынды табыңыз.
 - A) Махамбет.
 - B) Доспамбет.
 - C) Алмажан.
 - D) Дулат.
 - E) Қазтуған.
4. Абайдың жарын белгілеңіз.
 - A) Әйгерім.
 - B) Нұрғаным.
 - C) Зере.
 - D) Тоғжан.
 - E) Ұлжан.
5. Абай қара сөздерінің жалпы санын көрсетіңіз.
 - A) 50
 - B) 45
 - C) 35
 - D) 40
 - E) 25
6. *а, а, б, б* түріндегі ұйқас - ұйқастың қай түріне жататындығын табыңыз.
 - A) Ерікті.
 - B) Қара өлең ұйқасы.
 - C) Егіз.
 - D) Шалыс.
 - E) Шұбыртпалы.

7. «Бала жатыр төсекте, албыраған,
Әке жатыр еденде, қалжыраған» деген өлең жолдары М.Мақатаевтың қай шығармасында кездесетіндігін табыңыз.
- A) «Райымбек, Райымбек».
 - B) «Аққулар ұйықтағанда».
 - C) «Моцарт».
 - D) «Жол азасы».
 - E) «Бабаларым, рақмет сендерге».
8. Тұманбай Молдағалиевтің тұңғыш өлеңдер жинағын белгілеңіз.
- A) «Алатау қызы»
 - B) «Құралай»
 - C) «Студент дәптері»
 - D) «Зулайды нүндер»
 - E) «Көктем таңы»
9. «Тортай мінген ақ боз ат» шығармасының авторын табыңыз.
- A) Ж.Сайн.
 - B) Ш.Мұртаза.
 - C) О.Бөкей
 - D) Ә.Кекілбаев.
 - E) М.Шаханов.
10. Әл-Фараби туындысын анықтаңыз.
- A) "Китаб аш шеер" ("Өлең кітабы").
 - B) "Диуани хикмат".
 - C) "Бақыт кітабы".
 - D) "Ақырзаман кітабы".
 - E) "Поэтикалық мадақ".
11. «Қобыланды батыр» жырындағы Тайбурылды ерекше күтімге алып, бағып-қаққан ару қыз, батырдың жарын табыңыз.
- A) Гүлбаршын.
 - B) Қарлығаш.
 - C) Назым.
 - D) Құртқа.
 - E) Ақжүніс.
12. "Әр аралға бір қамалдым,
Өмір-теңіз, таба алмадым өткелін".
Бұл сөздерді "Ақан сері - Ақтоқты" пьесасындағы қай кейіпкер айтатынын белгілеңіз.
- A) Сердәлі.
 - B) Мәрзия.
 - C) Ақтоқты.
 - D) Ақан.
 - E) Науан.

13. С.Сейфуллин туып-өскен өлкені табыңыз.
- A) Түркістан.
 - B) Алтай.
 - C) Атырау.
 - D) Алатау.
 - E) Сарыарқа.
14. "Ақын өлімі туралы аңыздағы" бас кейіпкердің сүйікті әнін табыңыз.(Қ.Аманжолов)
- A) "Қарғам-ау".
 - B) "Бір бала".
 - C) "Қарағым-ау".
 - D) "Қарағым-ай".
 - E) "Елім-ай".
15. Жамбылдың бата түріндегі туындысын табыңыз.
- A) "Қазақстан тойына".
 - B) "Өтеген батыр".
 - C) "Аттандыру".
 - D) "Сұраншы батыр".
 - E) "Майданға хат".
16. Л. Соболевпен бірлесіп, ұлы ақын Абайдың сахналық бейнесін тұңғыш жасаған қаламгерді табыңыз.
- A) М. Әуезов.
 - B) С. Мұқанов.
 - C) Ә. Әбішев.
 - D) Ғ. Мұстафин.
 - E) Ғ. Мүсірепов.
17. "Абай жолы" эпопеясында қамтылған әйелдер бейнесінің жалпы санын көрсетіңіз.
- A) 100-ге тарта.
 - B) 50-ден астам.
 - C) 80 шамалы.
 - D) 10 шақты.
 - E) 200-дей.
18. Ғ.Мүсіреповтің Жантық атты кейіпкеріне ұқсас, басқа шығармасындағы кейіпкерді табыңыз.
- A) Жантық-Қарабай.
 - B) Жантық-Жарқын.
 - C) Жантық-Науан қазірет.
 - D) Жантық-Қодар.
 - E) Жантық-Сердәлі.

19. *''Жатқан жері даладай,
Екі өркеші баладай''*. Көркемдегіш құралдың қайсысы қолданылғанын табыңыз (Үмбетей жырау).
- A) Ауыстыру.
 - B) Теңеу.
 - C) Эпитет.
 - D) Ассонанс.
 - E) Қолданылмаған, жай сөз.
20. «Еңлік - Кебек» поэмасының авторын белгілеңіз.
- A) Жүсіпбек Аймауытов.
 - B) Хамит Ерғалиев.
 - C) Шәкәрім Құдайбердіұлы.
 - D) Ілияс Жансүгіров.
 - E) Сұлтанмахмұт Торайғыров.
21. Ж.Аймауытовтың «Қартқожа» романының басылып шыққан жылын табыңыз.
- A) 1932ж.
 - B) 1929ж.
 - C) 1925ж.
 - D) 1926ж.
 - E) 1920ж.
22. Міржақып Дулатовтың «Бақытсыз Жамал» романында Сәрсенбайдың бәйбішесінің атын белгілеңіз.
- A) Ғазиза.
 - B) Мамыр.
 - C) Шолпан.
 - D) Жамал.
 - E) Қалампыр.
23. *Ұйықтап жатқан көңілді өлең түртер,
Қайғы, зарын, қуанышын жақсы тінтер.
Жүрегімнің айнасын шаң басқанда,
Орамалым-осы өлең бетін сүртер,* - үзінді өлеңінің авторын атаңыз.
- A) А.Құнанбаев.
 - B) М.Жұмабаев.
 - C) І.Жансүгіров.
 - D) С.Сейфуллин.
 - E) Б.Майлин.
24. М.Әуезовтің адамның жан-жүйесіне терең бойлаған, адамның сезім иірімдерін нәзік толғаған шығармасын белгілеңіз.
- A) «Намыс гвардиясы».
 - B) «Кінәмшіл бойжеткен».
 - C) «Қаралы сұлу».
 - D) «Үйлену».
 - E) «Түнгі сарын».

25. Шүректің Мұратбегіне ғашықтық жыр арнаған Ұлпа қыз туралы С.Мұқановтың қай шығармасында жазылғанын табыңыз.
- A) "Өмір мектебі".
 - B) "Сырдария".
 - C) "Ботагөз".
 - D) "Аққан жұлдыз".
 - E) "Мөлдір махаббат".

**ҚАЗАҚ ӘДЕБИЕТІ
ПӘНІНЕН СЫНАҚ БІТТІ**

АҒЫЛШЫН ТІЛІ

1. Орфографиясына қарап дұрыс жазылған сөзді таңдаңыз:
A) Invatetion
B) Invitation
C) Invitition
D) Invitition
E) Invitation
2. Төмендегі сөзге синонимдес сөзді табыңыз:
“To debate”
A) To discuss.
B) To climb.
C) To watch.
D) To tell.
E) To speak.
3. Берілген сөзге мағынасы қарама-қарсы келетін сөзді көрсетіңіз.
Behind.
A) between.
B) factory.
C) in front of.
D) long.
E) scarf.
4. "Ауыл" тақырыбына жататын сөз:
A) Rainy.
B) Harvest.
C) Break.
D) Supper.
E) Swimmer.
5. Артикль дұрыс қолданылған:
A) I like to go to a theatres.
B) Give me your a book.
C) A sun is shining brightly today.
D) A rain is very heavy.
E) There is a river near my village.
6. Сөздің дұрыс аудармасын таңдаңыз:
Маңызсыз
A) Unimportant.
B) Important.
C) Disimportant.
D) Inimportant.
E) Reimportant.

7. Саналатын зат есім:

- A) Piece.
- B) Water.
- C) Grass.
- D) Money.
- E) Wind.

8. Сөздің ретіне қарай сөйлем құраңыз.

the / saw / road / crossing / the / I / children /
1 2 3 4 5 6 7

- A) 6217453.
- B) 1436725.
- C) 1374256.
- D) 6241753.
- E) 6413725.

9. Сөйлемді толықтырыңыз.

I am going ... a football match.

- A) watch.
- B) to watch.
- C) watching.
- D) watches.
- E) watched.

10. “Overweihт” сөзінде қалып қойған әріпті анықтаңыз:

- A) g
- B) o
- C) r
- D) e
- E) u

11. Дұрыс предлогты таңдаңыз:

My little son is good . . . playing computer games.

- A) by
- B) at
- C) for
- D) in
- E) from

12. Жауаптың дұрыс нұсқасын таңдаңыз:

There isn't __ milk in the fridge

- A) a
- B) many
- C) any
- D) few
- E) some

13. Сөйлемді толықтырыңыз:

The architect is someone ... designs buildings.

- A) where
- B) this
- C) what
- D) when
- E) who

14. Зат есімнің көпше түріндегі тәуелділік формасын таңдаңыз:

- A) Fire's
- B) Men's
- C) God's
- D) Comrade
- E) School's

15. Етістіктің дұрыс формасын табыңыз:

She ... not far from Almaty.

- A) has living.
- B) lives.
- C) living.
- D) live.
- E) have lived.

16. Сөйлемді аяқтаңыз:

Computers ... in the 20-th century.

- A) invented
- B) were invented
- C) was invented
- D) to be invented
- E) are inventing

17. Модальді етістіктің дұрыс вариантын көрсетіңіз.

Visitors are reminded that they ... keep their bags with them.

- A) must be.
- B) shall.
- C) ought.
- D) might be.
- E) should.

18. “To be going to” құрылымын қолданып, сөйлем құрастырыңыз.

She/not/have/a holiday this summer.

- A) She is not having a holiday this summer.
- B) She is going not to have a holiday this summer.
- C) She not going have a holiday this summer.
- D) She is going not have a holiday this summer.
- E) She is not going to have a holiday this summer.

19. **Дұрыс жауабын табыңыз**
Who discovered the law of gravitation?
A) John Baird.
B) Edward Jenner.
C) Michael Faraday.
D) Isaac Newton.
E) Charles Darwin.
20. **Дұрыс аудармасын табыңыз:**
Кешіккеніме кешірім сұраймын.
A) Excuse me being for late.
B) Excuse me be late.
C) Excuse me for being late.
D) Excuse my being late.
E) Excuse me being late.
21. **Жауаптағы қай сөйлем көрсетілген шаққа сай келеді?**
It's a pity I **couldn't go** to the wedding.
A) I like to have going to the wedding.
B) I have to go to the wedding.
C) I would like to go to the wedding.
D) I would go to the wedding.
E) I would like to have gone to the wedding.
22. **Фразеологизмге керекті сөзді қойыңыз:**
It is better to ... than to ... **Аяғаннан берген жақсы.**
A) Take/give.
B) See/bring.
C) Give/take.
D) Have/show.
E) Go/come.
23. **“3,542”ші**
A) three thousand fourty second
B) three thousand five hundred and forty second
C) three thousands five hundred forty two
D) three hundred five thousand forty two
E) three hundreds five thousand forty second
24. **Аударыңыз:**
Шетел тілін жетілдіру уақыт пен шыдамдылықты талап етеді.
A) Having mastering a foreign language takes time and patience.
B) In mastering a foreign language takes time and patience.
C) Mastering a foreign language takes time and patience.
D) Mastering a foreign languages take time and patience.
E) To master a foreign language took time and patience.

25. Мәтінді оқып, сәйкес тақырып таңдаңыз:

There are more than fifty theatres in the West End of London. And many other small theatres and theatre clubs are in Greater London. Some of the plays last for a few weeks. Some go on for years. Many of the shows are light comedies but some theatres put on more serious plays. One of the England's leading companies is the Royal Shakespeare Company. They put on new and old plays and Shakespearian plays. The National Theatre is also one of London's most famous theatres. The building is modern, and the plays are classic and new productions. The theatres are mainly concentrated in London.

- A) Shakespeare in London.
- B) English Theatres.
- C) Royal Company.
- D) The West End in London.
- E) Cultural Life.

**АҒЫЛШЫН ТІЛІ
ПӘНІНЕН СЫНАҚ БІТТІ**

НЕМІС ТІЛІ

1. Етістіктің негізгі формаларын табыңыз.

Bringen - _____ - gebracht.

- A) Brochte.
- B) Brachte.
- C) Brachte.
- D) Brechte.
- E) Bruchte.

2. Қажетті нұсқасын табыңыз.

Wie viele Stunden _____ ihr am Montag?

- A) Hast.
- B) Habe.
- C) Haben.
- D) Hat.
- E) Habt.

3. Қалауды білдіретін қажетті сөзді қойыңыз:

Kinder, ... ihr in den Park gehen?

- A) wollt.
- B) können.
- C) wollen.
- D) sollt.
- E) könnt.

4. Дұрыс артикльді таңдаңыз:

Das ist ... Fuller.

- A) eine
- B) einer
- C) ein
- D) einen
- E) eines

5. Көпше түрін қойыңыз:

Lest ... (das Märchen)

- A) Der Märchen.
- B) Die Märchen.
- C) Den Märchen.
- D) Die Märchens.
- E) Der Märchens.

6. Қажетті сөзді қойыңыз.

Als die deutsche Delegation ankam, besichtigte ... die Sehenswürdigkeiten von Almaty.

- A) den.
- B) sich.
- C) ihr.
- D) sie.
- E) Ihre.

7. Сан есімнің дұрыс түрін қойыңыз:

Nach ... Tagen hat Georg seinen Geburtstag.

- A) viertes.
- B) viertem.
- C) vierte.
- D) vierten.
- E) vier.

8. Предлогты қойыңыз:

Ich habe gesehen, wie das Mädchen seine Puppe ... den Schrank gelegt hat.

- A) von
- B) zwischen
- C) in
- D) aus
- E) zu

9. Қажетті репликаны көрсетіңіз.

Herr Schulz verabschiedet sich von seinem Freund. Er sagt: " ... ".

- A) Vielen Dank!
- B) Sehr angenehm!
- C) Guten Tag!
- D) Bitte schon!
- E) Auf Wiedersehen!

10. Етістіктің дұрыс түрін қойыңыз:

Warum ... es so wenig Zeit?

- A) Gibte.
- B) Gabe.
- C) Gab.
- D) Gibst.
- E) Gebet.

11. Қажетті нұсқасын табыңыз.

Die Bibliothek wurde gestern

- A) öffnen.
- B) geöffnete.
- C) öffnet.
- D) geöffnet.
- E) geoffnet.

12. Керекті предлогты қойыңыз:

Die Schüler unserer Klasse haben Interesse . . . Sport.

- A) aus
- B) mit
- C) unter
- D) bei
- E) für

13. Аударыңыз:

"Балалар, қатты жүгірмеңдер!"

- A) Kinder dürfen nicht so schnell laufen.
- B) Kinder! Lauft nicht so schnell!
- C) Kinder laufen nicht so schnell.
- D) Kinder! Konnt ihr nicht so schnell laufen?
- E) Kinder! Laufen wir nicht so schnell!

14. Сәйкес келетін конструкциямен сөйлемді аяқтаңыз:

Das verunglückte Schiff ist in 24 Stunden

- A) zu gerettet
- B) zu retteten
- C) retten
- D) zu retten
- E) zu geretten

15. Сын есімнің жалғауын қойыңыз:

Heute trinkt man mehr grün...Tee als früher.

- A) er
- B) em
- C) e
- D) en
- E) es

16. Средний род жұрнағын табыңыз:

- A) -chen
- B) -schaft
- C) -ung
- D) -heit
- E) -keit

17. Қажетті сөзді қойыңыз.

Am besten machen wir Party bei mir. Ich habe doch das ... Zimmer.

- A) am größten.
- B) größte.
- C) größten.
- D) größte.
- E) größeren.

18. Сұраулы сөйлемді құрыңыз:

1 2 3 4 5 6
nach dem Weg / haben / ins Museum / Sie / gefragt / den Polizisten /

- A) 245613
- B) 246135
- C) 132456
- D) 354126
- E) 124635

19. Көп нүктенің орнына дұрыс вариантты қойыңыз:

Es gibt heute kaum mehr ein Dorf auf der Erde, ... die Touristen nicht kommen.

- A) auf das.
- B) für das.
- C) in dem.
- D) nach der.
- E) in das.

20. Берілген сөйлемнің эквивалентін көрсетіңіз.

Das seiner Mutter helfende Mädchen ist fleissig.

- A) Das Mädchen, das seiner Mutter helfen wird, ist flei ig.
- B) Das Mädchen ist flei ig. Es half seiner Mutter.
- C) Das Mädchen, das seiner Mutter geholfen hat, ist flei ig.
- D) Das Mädchen, das seiner Mutter hilft, ist flei ig.
- E) Die Mädchen, die ihrer Mutter helfen, sind flei ig.

21. Средний род суффиксін анықтаңыз.

- A) –um
- B) –ler
- C) –at
- D) –ik
- E) –ist

22. Көпше түрі "s"-жалғауы арқылы жасалатын зат есімді табыңыз.

- A) Komma
- B) Studium
- C) Laboratorium
- D) Stadion
- E) Auditorium

23. Белгіленген сөзге сұрақ қойыңыз:

Sie brauchen einen Raum, um eine Gemaldeausstellung zu organisieren.

- A) Wozu?
- B) Wieso?
- C) Womit?
- D) Wonach?
- E) Worauf?

24. Дұрыс вариантты қойыңыз:

Assel will Ärztin werden, ... lernt sie in der Schule sehr fleißig Chemie.

- A) Da.
- B) Denn.
- C) Dass.
- D) Darum.
- E) Weil.

25. Мәтіннің түрін анықтаңыз:

«Lieber Fred,

jetzt, nach einem Jahr, fühle ich mich bei Euch Deutschen fremder als in den ersten vier Monaten. Nachts kann ich oft nicht schlafen und bin krank vor Heimweh. Warum? Ich habe mein Essen, mein Zimmer – mir geht es besser als den meisten Leuten in meiner Heimat. Aber trotzdem... Vor einigen Wochen besuchten mich zwei Landsleute...»

- A) Roman
- B) Brief
- C) Märchen
- D) Artikel
- E) Gedicht

**НЕМІС ТІЛІ
ПӘНІНЕН СЫНАҚ БІТТІ**

ФРАНЦУЗ ТІЛІ

1. **Жедел келер** шақтың дұрыс нұсқасын табыңыз:

Nous ... au bord de la mer avec ma soeur.

- A) Va aller.
- B) Vont aller.
- C) Allons aller.
- D) Vas aller.
- E) Vais aller.

2. **Етістіктің болымыз түрінің** дұрыс нұсқасын тап

Je ... veux ... lire.

- A) Aucun .
- B) Ne / rien.
- C) Personne.
- D) Ne / point.
- E) Rien.

3. **Брықсыз етістің дұрыс** нұсқасын таңда.

- A) Les eleves sont classifies.
- B) Les eleves sont appliques.
- C) Les eleves sont attentifs
- D) Les eleves sont en retard.
- E) Les eleves sont absents.

4. **Қажетті өздік есімдікті** таңдаңыз:

Je ... souviens de mon rendez-vous, je ... depeche .

- A) se / se.
- B) vous / me.
- C) me / me.
- D) te / me.
- E) me / vous.

5. **Қажетті реттік сан есімін** табыңыз:

Valentina Terechkova est la ... femme spatonaute.

- A) premier
- B) premiers
- C) premierx
- D) premiere
- E) premieres

6. **Реттік сан есімнің қажетті түрін** табыңыз:

La ... pomme est bonne.

- A) Trois.
- B) Deux.
- C) Quatrieme.
- D) Un.
- E) Dix.

7. Етістіктерді меңгерунің дұрыс нұсқасын табыңыз:

Je lui ai propose ... aller au theatre.

- A) Sur.
- B) A.
- C) De.
- D) Dans.
- E) Pour.

8. Шылаудың дұрыс нұсқасын таңда..

Je crois _____ il est la.

- A) Et
- B) Ou
- C) Qu'
- D) Mais
- E) Pour que

9. Сөйлемнің француз тіліндегі баламасын табыңыз:

Ол ақырын сөйлейді.

- A) Elle parle vite.
- B) Elle parle bien.
- C) Elle parle lentement.
- D) Elle parle haut.
- E) Elle parle bas.

10. Етістіктің қажетті Futur simple формасын таңдаңыз.

Ils repondent qu'ils ...leurs examens la semaine prochaine.

- A) Ont passe
- B) Avaient passe
- C) Passeraient
- D) Eurent passe
- E) Passeront

11. Осы шақ есімше формасын табыңыз

Il y a trop de bruit dans la chambre ... sur la rue.

- A) Donne.
- B) Donner.
- C) Donne.
- D) Donnant.
- E) En donnant.

12. Бұйрық райының дұрыс формасын таңдаңыз.

_____ -leur que Paul vienne a Paris!

- A) Ecriras
- B) Ecrivais
- C) Ecrit
- D) Ecrive
- E) Ecris

13. Етістіктің дұрыс грамматикалық түрін көрсетіңіз.
Si mon frere avait du temps il (venir) chez toi ce soir.
A) venait
B) viendrait
C) vient
D) etait venu
E) viendra
14. Қажетті шылауды табыңыз.
Je telephone ... enfants.
A) la
B) a la
C) aux
D) les
E) au
15. Жіктеу есімдіктің дұрыс вариантын табыңыз.
Lisette donna ces fleurs a la mariee.
A) Lisette lui les donna.
B) Lisette leur les donna.
C) Lisette la lui donna.
D) Lisette les lui donna.
E) Lisette les leur donna.
16. Етістіктен жасалған зат есімді тап.
J'etais stupefait de mes (observer).
A) Observant.
B) Observations.
C) Observable.
D) Observement.
E) Observe.
17. Белгіленген сөзге қойылған сұрақты көрсетіңіз.
Il y avait **plus de dix mille** manifestants.
A) Que faisaient les manifestants?
B) Combien de manifestants y avait-il?
C) Qui manifestait?
D) Qu'y avait-il dans les rues?
E) Ou les manifestants allaient-ils?
18. Дұрыс жауабын табыңыз:
Le theatre de la Comedie Francaise a ete fonde...
A) en 1780
B) en 1573
C) en 1243
D) en 1580
E) en 1680

19. Жақшадағы сөздің аудармасын табыңыз:

(Кеш) d' y rentrer.

- A) il est clair
- B) il est tard
- C) il est tot
- D) il est temps
- E) il est utile

20. Ерістіктің қажетті формасын таңдаңыз.

Acceptez-vous qu'on vous ...ce qu'on pense de vous?

- A) Disait
- B) Dira
- C) Dit
- D) Dirait
- E) Dise

21. Дұрыс нұсқасын тап

Je savais qu'ils sa physique et ...partir dans plusieurs annees

- A) Appennaient/deviennent.
- B) Apprenait/ aviez devenu.
- C) Apprennent/devaient.
- D) Apprenaient/devaient.
- E) Apprenaient/deviendront.

22. Ерекше белгіленген сөзді қажетті есімдікпен алмастырыңыз:

Je pense **a mon ami**.

- A) leur
- B) a moi
- C) lui
- D) a lui
- E) nous

23. Сөзді дұрыс аяқтаңыз.

L'ecriv...

- A) im.
- B) ain.
- C) in.
- D) en.
- E) ein.

24. Қатесі бар сөзді табыңыз:

- A) Beau-beaux.
- B) Amical-amicaux.
- C) Bleu-bleus.
- D) Gros-gros.
- E) Bleu-bleux.

25. Текстті оқып шығып, мағынасы сәйкес келетін сөйлемді белгілеңіз.

Des amis m'ont trouve du travail chez un riche monsieur qui avait besoin d'un secretaire pour ecrire des lettres. Cela me convient. J'arrive chez ce Monsieur. Il est couche. Ses habits sont par terre.

- Ah! C'est vous, dit-il en me voyant. Voulez-vous me ramasser mes vetements?

Il a confondu. Il attend probablement un domestique. Moi, je viens comme secretaire. Je lui dis :

- Qu'est-que vous chantez?

- Je ne chante pas. Je suis venu comme secretaire.

- Je le sais. Donnez-moi mon pantalon.

J'hesite. Je pose le pantalon sur le lit.

- Voulez – vous me donnez ma veste?

Non, je ne veux pas lui donner sa veste, je lui donnerai plutot une gifle s'il insiste.

Il insiste. Je le gifle et je m'en vais tres vite. J'en porte avec moi ma place de secretaire.

A) Jacques giffle son “ patron ” et emporte avec lui sa place de secretaire.

B) Le Monsieur propose a Jacques de s'asseoir.

C) Jacques ramasse les vetements et les donne au monsieur.

D) Jacques ne veut pas travailler comme secretaire.

E) Le Monsieur attend un domestique.

ФРАНЦУЗ ТІЛІ
ПӘНІНЕН СЫНАҚ БІТТІ