

ҚАЗАҚСТАН РЕСПУБЛИКАСЫ
БІЛІМ ЖӘНЕ ҒЫЛЫМ МИНИСТРЛІГІ

ҰЛТТЫҚ ТЕСТЛЕУ ОРТАЛЫҒЫ

БАЙҚАУ СЫНАҒЫ

СҰРАҚ КІТАПШАСЫ

7002 - НҰСҚА

Аты-жөні _____

ТЖК _____ Жауап парағының № _____

Лек _____ Аудитория № _____ Орын № _____

Бесінші пән аты _____

Талапкердің қолы _____

Сектор 5			
Нұсқа:			
7	0	0	2
①	①	①	①
②	②	②	●
③	③	③	③
④	④	④	④
⑤	⑤	⑤	⑤
⑥	⑥	⑥	⑥
●	⑦	⑦	⑦
⑧	⑧	⑧	⑧
⑨	⑨	⑨	⑨
⑩	●	●	⑩



2010

ҚАЗАҚ ТІЛІ

1. «Суландыру» сөзіндегі дауысты дыбыс санын анықтаңыз.
 - A) 2.
 - B) 5.
 - C) 3.
 - D) 4.
 - E) 6.
2. Тасымалданбайтын сөздер тобын анықтаңыз.
 - A) Ғарыш, бетін, мұндай.
 - B) От, қарт, сия.
 - C) Сабақ, мектеп, таңертең.
 - D) Атақты, шалқу, маңызды.
 - E) Күндіз, келесі, тамаша.
3. Түбір сөзді ажыратыңыз.
 - A) Сулық.
 - B) Сәнқой.
 - C) Өнер.
 - D) Белдік.
 - E) Білгіш.
4. Зат есім дегеніміз не, дұрысын белгілеңіз.
 - A) Зат, құбылыстың атын білдіреді.
 - B) Адамның әр түрлі көңіл- күйін білдіреді.
 - C) Заттың мөлшерін білдіреді.
 - D) Зат, құбылыстың сынын білдіреді.
 - E) Қимыл, амал-әрекеттің түрлі белгілерін білдіреді.
5. Реттік сан есімнің сұрағын табыңыз.
 - A) Неше?
 - B) Нешеден?
 - C) Қанша?
 - D) Нешінші?
 - E) Нешеу?
6. Табыс септігінде тұрған жіктеу есімдігін табыңыз.
 - A) Оқыды.
 - B) Жерді.
 - C) Көрді.
 - D) Гүлді.
 - E) Сізді.
7. Дыбыстық еліктеуішті сөз тіркесін табыңыз.
 - A) Қыбыр етті.
 - B) Сылаң етті.
 - C) Жалт қарады.
 - D) Гарс-тұрс ұрды.
 - E) Кілт доғарды.

8. Біршама тиянақты ойды білдіретін синтаксистік бірліктің не екенін анықтаңыз.
- A) Сөз.
 - B) Сөз тіркесі.
 - C) Сөйлем.
 - D) Тұрақты тіркес.
 - E) Сөздердің байланысу түрі.
9. Қаратпа сөзді табыңыз.
- A) Қарға, қарға, қарғалар, қарқылдама, қарғалар.
 - B) Сағыныштың шегі, шеті болар ма?
 - C) Ойбай, ел қайда?
 - D) Мүмкін, арманға барар жол шығар.
 - E) Асан ойланып, толғанып, азаптанып бітті.
10. Синоним сөздердің тізбегін табыңыз.
- A) Халық, ел, жұрт.
 - B) Салқын, ыстық.
 - C) Теңдік, қapas.
 - D) Нәрсе, киім.
 - E) Тарих, қоғам.
11. Антонимдік жұпты көрсетіңіз.
- A) Аяқтау - бітіру.
 - B) Төбе шашы тік тұрды - қорықты.
 - C) Адамның баласы - бауырың.
 - D) Телефон - автомат.
 - E) Бетінен оты шықты - беті бүлк етпеді.
12. Қолөнершілікке қатысты сөздер тобын көрсетіңіз.
- A) Егемен, әкім.
 - B) Терімші, әңгелек.
 - C) Диалект, синоним.
 - D) Глобус, карта
 - E) Тышуыр, пәрбі.
13. Орфоэпия нормасына сай жазылған сөзді анықтаңыз.
- A) Көг лақ.
 - B) Ақ көйлек.
 - C) Үлкен әулет.
 - D) Соңғы тәсіл.
 - E) Ерекше мінез.
14. Анықтауыш қызметін атқарып тұрған сын есімді табыңыз.
- A) Сұйықтау, қоңыр шашының арасынан бас құйқасы қылаңдап көрінеді.
 - B) Астана қаласы жөнінде қонақтар көп дерек алды.
 - C) Омар сабақты жақсы оқиды.
 - D) Адам тастан берік, гүлден нәзік.
 - E) Содан қалған суды ішеді.

15. Өзгелік етісті табыңыз.
- A) Алдырды.
 - B) Алдым.
 - C) Алынды.
 - D) Алды.
 - E) Алысты.
16. Матаса байланысқан сөздерді табыңыз.
- A) Келешек ғаламат.
 - B) Қатты ұстады.
 - C) Балаша жылады.
 - D) Жылқыға шапты.
 - E) Жолдың жиегі.
17. Пысықтауыштың мағыналық түрлеріне сәйкес келмейтін жауапты белгілеңіз.
- A) Себебі, мақсаты.
 - B) Саны.
 - C) Сын-қимылы.
 - D) Мекені.
 - E) Мезгілі.
18. Толымды сөйлемді табыңыз.
- A) Тағы кетті.
 - B) Түсіндің бе?
 - C) Қайта-қайта келе берді.
 - D) Шашубай мерген еді.
 - E) Менікі.
19. Көп құрамды төл сөзді табыңыз.
- A) «Тіл тас жарады. Тас жармаса, бас жарады,» – деген.
 - B) – Мен барақ жайын айтам, – деді Ушаков.
 - C) Өнер алды – қызыл тіл.
 - D) – Құдай біледі, сол сенің Ақботан, – деді. – Мұндай ұқсамас, – деп бастады да, артығырақ кетіп бара жатқанын аңдап, тоқтай қалды.
 - E) Әсел Айгүлге бүгін мектепке бармайтынын, дүкенге баратынын айтты.
20. Бірге жазылатын сөздер қатарын көрсетіңіз.
- A) Шаң сорғыш, тоң май.
 - B) Сөз жұмбақ, алты бақан.
 - C) Жегжат адам, соқыр ішек.
 - D) Ат қою, Ақ сүйек.
 - E) Құс жолы, Баян сұлу.
21. Сөйлем ішіндегі үстеудің қызметін анықтаңыз.
- Шөпшілер аттарын болдыртып, әрең деп шөпке жетті.*
- A) Бастауыш.
 - B) Толықтауыш.
 - C) Анықтауыш.
 - D) Баяндауыш.
 - E) Пысықтауыш.

22. Шылауы бар сөйлемді көрсетіңіз.
- A) Қыздың даусында ойнақы бір ырғақ бар-ды.
 - B) Абай жүрегі өзінше бір еміреніп келеді.
 - C) Тұз астың дәмін келтіреді.
 - D) -Уф-ф!-деп күрсінді Кенжебек.
 - E) Ол әрең жүріп келеді.
23. Түсіндірмелі салаласты көрсетіңіз.
- A) Ол – көпті көрген дана қарт.
 - B) Анықтама ұқыпты жазылғанмен, қария оқи алмады.
 - C) Бес-алты айда келді.
 - D) Бір қарағанда-ақ біліп қойдым: бұл – Алматының және қала маңының картасы екен.
 - E) Қыздар тоғайға шие теруге кетті.
24. Сызықша қойылуға тиісті сөйлемді анықтаңыз.
- A) Білекті бірді жығар, білімді мыңды жығар.
 - B) Ақыл жастан шығады, асыл тастан шығады.
 - C) Жалқаулық жаман ауру.
 - D) Көп адам қорқытады, терең су батырады.
 - E) Басқа пәле тілден болады.
25. Диалогтің көбіне қай стильге тән екенін белгілеңіз.
- A) Ғылыми стиль.
 - B) Іс-қағаздар стилі.
 - C) Ауызекі сөйлеу стилі.
 - D) Құжаттар стилі.
 - E) Публицистикалық стиль.

**ҚАЗАҚ ТІЛІ
ПӘНІНЕН СЫНАҚ АЯҚТАЛДЫ**

ОРЫС ТІЛІ

1. В слове больше букв, чем звуков:
 - А) тень
 - В) лесник
 - С) снег
 - Д) голод
 - Е) дом
2. Укажите имя собственное:
 - А) Класс
 - В) Балхаш
 - С) Курорт
 - Д) Каток
 - Е) Кабинет
3. Укажите падеж существительного в словосочетании *жить у реки*:
 - А) Т.п.
 - В) Д.п.
 - С) Р.п.
 - Д) В.п.
 - Е) П.п.
4. Укажите наречия образа действия:
 - А) рядом, спереди, далеко
 - В) медленно, дружно, быстро
 - С) вниз, вверх, всюду
 - Д) завтра, вечером, днем
 - Е) обыкновенно, справа, слева
5. Управление:
 - А) любимая книга
 - В) сестра постарше
 - С) напоминать о прошлом
 - Д) красное яблоко
 - Е) говорить уверенно
6. Зависимым словом при примыкании являются
 - А) местоимение, существительное
 - В) причастие, деепричастие
 - С) прилагательное, причастие, местоимение
 - Д) наречие, деепричастие, неопределенная форма глагола
 - Е) числительное, наречие, деепричастие

7. *Я наслаждался своим трудом успехом славой также трудами и успехами друзей.*
Пропущены знаки препинания:
А) Три запятых.
В) Три запятых, двоеточие.
С) Четыре запятых.
D) Две запятых, тире.
E) Две запятых, двоеточие.
8. Укажите сложносочиненное предложение:
А) День был холодный, но ясный.
В) Но шепот дождя то стихал, то опять повышался.
С) Он начал выкидывать такие шутки, что публика с места не могла сойти.
D) Павел сошел вниз и встал рядом с матерью.
E) Солнце скрылось, и ночные тени быстро надвигались со стороны леса.
9. Стилистика - это раздел науки о языке
А) в котором изучаются звуки речи.
В) который изучает слово как часть речи.
С) изучающий словосочетание и предложение.
D) изучающий словарный состав языка.
E) изучающий стили литературного языка и языковые средства, создающие их особенности.
10. Омонимы представлены в ряде словосочетаний:
А) редакция газеты, здание редакции
В) родниковый ключ, ключ от замка
С) иглы ежа, хвойные иглы
D) экстренный вызов, экстренная работа
E) программа развития языков, программа по русскому языку
11. Укажите синтаксическую роль прилагательного в сравнительной степени:
У нас на севере погода холоднее, чем на западе.
А) определение
В) сказуемое
С) подлежащее
D) дополнение
E) обстоятельство
12. Пишется через дефис:
А) (кое) у кого
В) (от) чего
С) (ни) кем
D) (кому)нибудь
E) (ни) за что

13. Краткие причастия образуются от
- А) действительных и страдательных причастий
 - В) страдательных причастий прошедшего времени
 - С) действительных причастий
 - Д) действительных причастий настоящего времени
 - Е) действительных причастий прошедшего времени
14. Слитно пишется деепричастие с *не*:
- А) (не) замечая
 - В) (не) получив
 - С) (не) доумевая
 - Д) (не) окончив
 - Е) (не) поглядев
15. Предлог с пространственным значением:
- А) думать о родном ауле
 - В) заниматься на каникулах
 - С) не прийти по болезни
 - Д) со слезами на глазах
 - Е) идти вдоль дороги
16. Предложение с составным глагольным сказуемым:
- А) Вода в пустыне будет задержана.
 - В) Он был храбрец.
 - С) Ученые начали исследовать пустыню.
 - Д) Весной снег растает.
 - Е) Ты будешь сильным.
17. Безличное предложение:
- А) Всю ночь огонь костра то разгорается, то гаснет.
 - В) Сухие листья под ногами.
 - С) Тишина вокруг.
 - Д) Пахнет сеном над лугами.
 - Е) Умную голову почитают смолоду.
18. Укажите неопределенно - личное предложение.
- А) Какая ночь!
 - В) Тихая звездная ночь!
 - С) Город и людей как будто подменили.
 - Д) Молнией убило двух матросов.
 - Е) На деньги ума не купишь!
19. Укажите вид связи в сложном предложении:
Мы отужинали, и, когда остались вдвоем, я рассказал ему свои похождения.
- А) сочинительная и подчинительная
 - В) подчинительная
 - С) бессоюзная и сочинительная
 - Д) бессоюзная и подчинительная
 - Е) сочинительная

20. Укажите ряд многозначных слов:

- A) планер, партнёр
- B) невзгоды, ненастье
- C) кактус, желудок
- D) нос, хвост
- E) интерьер, космос

21. Укажите однокоренное слово к слову *гора*:

- A) перегореть
- B) горит
- C) загореть
- D) нагорный
- E) прогореть

22. Слово соответствует схеме *корень - суффикс - окончание*:

- A) прибрежный
- B) прибежать
- C) подоконник
- D) прекрасный
- E) сельский

23. Укажите глаголы 1 спряжения:

- A) прятаться, реять, лечить
- B) чертить, сеять, рыть
- C) рыть, бороться, веять
- D) клеить, строить, черпать
- E) веять, находить, прятаться

24. Укажите значение придаточных в предложении:

Все знают, что струна гитары, например, запоет только тогда, когда ее заденешь.

- A) Придаточное изъяснительное и причины
- B) Придаточное места и определительное
- C) Придаточное времени и цели
- D) Придаточное изъяснительное и времени
- E) Придаточное причины и места

25. Укажите вид подчинения.

Нет опаснее человека, которому чуждо человеческое, который равнодушен к судьбе родной страны, к судьбе ближнего.

- A) Управление.
- B) Неоднородное.
- C) Согласование.
- D) Последовательное.
- E) Однородное.

ҚАЗАҚСТАН ТАРИХЫ

1. Керейлердің батыс жағындағы көршілері:
 - A) Татарлар.
 - B) Наймандар.
 - C) Қыпшақтар.
 - D) Таңғұттар.
 - E) Меркіттер.
2. “Жамиғат - тауарих” жинағының авторы:
 - A) Қ.Жалаири
 - B) Әл-Фараби
 - C) А.Иүгнеки
 - D) А.Яссауи
 - E) Ж.Баласағұн
3. Әбілмансұрдың (кейіннен Абылай атанған) атасы Абылай билік құрған қала:
 - A) Отырар.
 - B) Сайрам.
 - C) Үргеніш.
 - D) Ташкент.
 - E) Түркістан.
4. 1867-1868 жылғы реформаның отаршыл сипатына қарсы көтеріліс болған жер:
 - A) Жетісу.
 - B) Оңтүстік Қазақстан.
 - C) Ақмола.
 - D) Семей.
 - E) Орал, Торғай.
5. «Сырдария мен Жетісу облыстарын басқару» туралы Ереже бекітілген жыл:
 - A) 1868 ж. 21 қазан
 - B) 1868 ж. 10 қазан
 - C) 1867 ж. 11 шілде
 - D) 1867 ж. 19 ақпан
 - E) 1867 ж. 5 наурыз
6. XIX ғасырда Қазақстанда жәрмеңкенің басты дамыған өңірі:
 - A) Орал облысы
 - B) Өскемен уезі
 - C) Ақмола облысы
 - D) Петропавл уезі
 - E) Семей облысы

7. С.Торайғыровтың өмір шындығын, халық тағдырын сипаттауда маңызын жоғалтпаған туындысы:
- А) «Жиған-терген»
 - В) «Қамар сұлу»
 - С) «Қалың мал»
 - Д) «Мұсылмандық шарты»
 - Е) «Шұғаның белгісі»
8. 1916-жылғы ұлт-азаттық қозғалыстың ірі орталығы:
- А) Семей.
 - В) Орал.
 - С) Бөкей ордасы.
 - Д) Жетісу.
 - Е) Сырдария.
9. Кеңес Одағының Батыры атағын алған жалпы қазақстандықтар саны:
- А) 350.
 - В) 500-ге жуық.
 - С) 400-ге жуық.
 - Д) 480.
 - Е) 300-ге жуық.
10. Жылқы сүйектері өте көп табылған энеолиттік тұрақ:
- А) Ботай
 - В) Шабакты
 - С) Сексеуіл
 - Д) Усть-Нарым
 - Е) Пенки
11. Атырау жеріндегі сарматтардың Аралтөбе ескерткіші табылған аудан:
- А) Жылыой
 - В) Бөкей
 - С) Махамбет
 - Д) Жаңа өзен
 - Е) Үстірт
12. Орта ғасырларда Жібек өндіруді дамытып, Қытаймен бәсекеге түскен ел:
- А) Соғды
 - В) Үндістан
 - С) Англия
 - Д) Жапония
 - Е) Иран
13. Шайбани Әбілқайыр билік құрған уақыт:
- А) 1438-1478 жж.
 - В) 1418-1458 жж.
 - С) 1428-1468 жж.
 - Д) 1458-1498 жж.
 - Е) 1448-1488 жж.

14. Жәнібек, Керей хандарымен бірігіп көшкен ру-тайпалардың алғашқы атауы:
- A) «өзбек-қазақтар»
 - B) «қыпшақтар»
 - C) «еркін кезбелер»
 - D) «қазақ-қырғыз»
 - E) «қырғыздар»
15. XVII ғасырдың басында Қазақ хандығында бір мезгілде билік құрған екі хан:
- A) Есім, Тұрсын
 - B) Тәуке, Тұрсын
 - C) Тәуекел, Шығай
 - D) Хақназар, Тәуекел
 - E) Жәңгір, Тәуке
16. XX ғасырдың басындағы патша үкіметінің шығыс аудандардағы ірі экономикалық шарасы:
- A) Алматы-Қызылорда шойын жолының салынуы.
 - B) Нілді зауытының іске қосылуы.
 - C) Түркістан-Сібір шойын жолының салынуы.
 - D) Орынбор-Ташкент темір жолының салынуы.
 - E) Қарағанды көмірін өндіру.
17. 1930 жылдары өзге республикалардың жоғары оқу орындары мен техникумдарында білім алған қазақстандық жастар саны:
- A) 15 мыңдай.
 - B) 40 мыңдай.
 - C) 25 мыңдай.
 - D) 20 мыңдай.
 - E) 30 мыңдай.
18. Әбу Насыр әл-Фараби туралы жазылған «Ұстаздың қайтып оралуы» романының авторы:
- A) Жұбан Молдағалиев
 - B) Әбдіжәміл Нұрпейісов
 - C) Ғабит Мүсірепов
 - D) Әнуар Әлімжанов
 - E) Ілияс Есенберлин
19. 1992 жыл 2 наурызда-...
- A) Қазақстан Біріккен Ұлттар Ұйымына мүше болып қабылданды
 - B) Тәуелсіз Мемлекеттер Достастығын құру үрдісі аяқталды
 - C) Қазақстан Республикасының мемлекеттік тәуелсіздігі жарияланды
 - D) Қазақ КСР-і Қазақстан Республикасы болып атала бастады
 - E) Н.Назарбаев Қазақстан Республикасының Президенті болып сайланды

20. Ахмет Йүгнекидің кітабы:
- A) "Ақиқат сыйы"
 - B) "Диуани лұғат ат-түрік"
 - C) "Жүсіп-Зылиқа"
 - D) "Даналық кітабы"
 - E) "Құдатғу Білік"
21. XIV-XV ғасырлардан әлі күнге дейін тәрбиелік мәні зор батырлық, өнегелік мазмұндағы ертегілердің бірі:
- A) «Жоямерген»
 - B) «Ақсақ құлан»
 - C) «Ер Тарғын»
 - D) «Жошы ханның жортуы»
 - E) «Қобыланды батыр»
22. Қазақ хандығының құрылуы қарсаңында наймандар мекендеді:
- A) Жайық, Еділ аралығы
 - B) Түркістан мен Қаратау аралығында
 - C) Іле, Шу, Талас өзендері бойында
 - D) Ұлытаудан Есілге дейін жерлерде
 - E) Жетісуда
23. Ресей үкіметі Әулиеата, Түркістан бекіністерін басып алды:
- A) 1866 жылы
 - B) 1864 жылы
 - C) 1870 жылы
 - D) 1862 жылы
 - E) 1868 жылы
24. 1917 жылғы ақпан төңкерісінен кейін Қазақстанның солтүстік батыс облыстарындағы кадеттер ұйымы Семейде шығарған газеті:
- A) «Свободная речь».
 - B) «Қазақ».
 - C) «Дала уәлаяты».
 - D) «Ұшқын».
 - E) «Туркестанский вестник».
25. 1950 жылдардың басындағы ұжымшар мүшелерінің орта есеппен айлық жалақысы:
- A) 100 сом
 - B) 29,9 сом
 - C) 62 сом
 - D) 16,4 сом
 - E) 152 сом

**ҚАЗАҚСТАН ТАРИХЫ
ПӘНІНЕН СЫНАҚ БІТТІ**

МАТЕМАТИКА

1. Жай көбейткіштерге жіктелген сандардың ең үлкен ортақ бөлгішін табыңыз: $3 \cdot 7 \cdot 11^2$ және $3^2 \cdot 11 \cdot 13$
 - A) 11
 - B) 91
 - C) 99
 - D) 9
 - E) 33
2. x -ті табыңыз: $15 : 2,5 = 0,8x : \frac{2}{3}$
 - A) 0,5
 - B) 0,25
 - C) 5
 - D) $\frac{1}{5}$
 - E) $\frac{2}{5}$
3. Сыйымдылығы 10 мың литрлік ыдысқа екі насос арқылы бензин құйылады. Екінші насос біріншіге карағанда минутына 10 л бензин кем құяды. 10 минутта ыдыс 50 %-ке толтырылды. Әр насос қанша литрден бензин құйды?
 - A) 2550 л; 2450 л.
 - B) 2650 л; 2550 л.
 - C) 2450 л; 2350 л.
 - D) 2750 л; 2650 л.
 - E) 2350 л; 2250 л.

4. Теңсіздікті шешіңіз: $2x^2 - 7x - 49 > 0$.

A) $(-\infty; -3,5) \cup (7; +\infty)$.

B) $(-\infty; 3] \cup [5; +\infty)$.

C) $(-\infty; -4] \cup [3; +\infty)$.

D) $(-\infty; -1] \cup [2; +\infty)$.

E) $(-\infty; 5] \cup [6; +\infty)$.

5. Теңсіздікті қанағаттандыратын x -айнымалысының ең үлкен мәнін

табыңыз: $\left(\frac{1}{3}\right)^{5-3x} \leq 81$.

A) 1.

B) 3.

C) 5.

D) 2.

E) 6.

6. Теңдеуді шешіңіз: $\sqrt{20} - \sqrt{x+2} = \sqrt{5}$.

A) 17.

B) 3.

C) 6.

D) 13.

E) Жауабы жоқ.

7. Теңдеуді шешіңіз: $\sin x = -0,6$.
- A) $(-1)^{n+1} \arcsin 0,6 + \pi n, n \in Z$.
 - B) $\arcsin 0,6 + 2\pi n, n \in Z$.
 - C) $-\arcsin 0,6 + 2\pi n, n \in Z$.
 - D) $\sin 0,6$.
 - E) $(-1)^n \arcsin 0,6 + \pi n, n \in Z$.
8. $y = \operatorname{tg} \frac{x}{5}$ -функциясының ең кіші оң периодын анықтаңыз.
- A) π
 - B) 5π
 - C) 2π
 - D) 3π
 - E) $\frac{\pi}{5}$
9. MNKP параллелограмның доғал M бұрышынан MH_1 және MH_2 перпендикулярлары NK және KP қабырғаларына жүргізілген. Егер $\angle H_1MH_2 = 70^\circ$ болса, параллелограмның ең үлкен бұрышын табыңыз.
- A) 60°
 - B) 108°
 - C) 45°
 - D) 110°
 - E) 120°

10. Есептеңіз: $(7^{2\sqrt{2}} - 49^{\sqrt{2}-1}) \cdot 7^{-2\sqrt{2}}$.

A) $\frac{49}{48}$.

B) $-\frac{48}{49}$.

C) $-\frac{50}{49}$.

D) $\frac{50}{49}$.

E) $\frac{48}{49}$.

11. Теңдеуді шешіңіз $|x + 3| + |2x - 1| = 8$.

A) $x_1 = -3, x_2 = \frac{2}{3}$.

B) $[2; \infty)$.

C) $x = 2$.

D) $(-\infty; -3\frac{1}{3}]$.

E) $x_1 = -3\frac{1}{3}, x_2 = 2$.

12. Теңдеуді шешіңіз: $3^{x+4} - 3^x = 240$

A) 0.

B) 2.

C) 1.

D) 3.

E) -1.

13. Берілгені: $\log_5 4 = a$ және $\log_5 3 = b$. Табу керек: $\log_{25} 12$.

A) ab .

B) $\frac{a-b}{2}$.

C) $a+b$.

D) $\frac{a+b}{2}$.

E) $a-b$.

14. Есептеңіз: $4 \cos 45^\circ \operatorname{ctg} 60^\circ \operatorname{tg} 60^\circ - 3 \sin 45^\circ$

A) $-\frac{\sqrt{2}}{2}$

B) 1

C) $\frac{1}{2}$

D) $-\frac{1}{2}$

E) $\frac{\sqrt{2}}{2}$

15. Егер $a_7 = 21$; $a_9 = 29$ болса, онда арифметикалық прогрессияның бірінші мүшесін және айырмасын табыңыз.

A) $a_1 = -3$; $d = 4$.

B) $a_1 = 13$; $d = 2$.

C) $a_1 = 5$; $d = 3$.

D) $a_1 = 4$; $d = 3$.

E) $a_1 = 3$; $d = 4$.

16. $f(x) = \frac{1}{\sqrt[4]{x}} - 2 \ln x$ функциясының туындысын табыңыз.

A) $-\frac{1}{4} - \frac{5}{4}x - \frac{2}{x}$

B) $-\frac{1}{4}x^{-\frac{5}{4}} - \frac{2}{x}$

C) $\frac{1}{4}x^{\frac{1}{4}} - \frac{4}{5}x + \frac{1}{2}$

D) $-\frac{1}{4}x + \frac{5}{4} - \frac{x}{2}$

E) $\frac{1}{4}x + \frac{5}{4}x^{-\frac{5}{4}} - \frac{x}{2}$

17. $y = -\frac{x}{2} - \frac{2}{x}$ функциясының:

а) барлық кризистік нүктелерін;

б) минимум және максимум нүктелерін анықтаңыз.

A) а) $x_1 = -2, x_2 = 2;$ б) $x_1 = x_{\max}, x_2 = x_{\min}.$

B) а) $x_1 = 0, x_2 = -2;$ б) $x_1 = x_{\max}, x_2 = x_{\min}.$

C) а) $x_1 = -2, x_2 = 0, x_3 = 2;$ б) $x_1 = x_{\min}, x_2 = x_{\max}, x_3 = x_{\min}.$

D) а) $x_1 = 0, x_2 = 2;$ б) $x_1 = x_{\max}, x_2 = x_{\min}.$

E) а) $x_1 = -2, x_2 = 2;$ б) $x_1 = x_{\min}, x_2 = x_{\max}.$

18. Үшбұрыштың бүйір қабырғалары 30 см және 25 см, ал табаны 25 см-ге тең. Үшбұрыштың табанына жүргізілген биіктігін табыңыз.

A) 23 см.

B) 28 см.

C) 24 см.

D) 30 см.

E) 25 см.

19. $A(5;-8;-1)$, $B(6;-8;-2)$, $C(7;-5;-11)$, $D(7;-7;-9)$ нүктелері берілген. \overline{AB} және \overline{CD} векторларының арасындағы бұрыш неге тең?

- A) 120°
- B) 30°
- C) 45°
- D) 150°
- E) 60°

20. Теңдеулер жүйесін шешіңіз:
$$\begin{cases} x - y = 1 \\ x^3 - y^3 = 7 \end{cases}$$

- A) $(2; -1)$, $(-1; 1)$.
- B) $(-2; 1)$, $(-1; 2)$.
- C) $(-1; 3)$, $(1; -1)$.
- D) $(2; 1)$, $(-1; -2)$.
- E) $(-1; 2)$, $(2; -1)$.

21. Есептеңіз : $\text{ctg}1^{\circ}\text{ctg}2^{\circ}\dots\text{ctg}179^{\circ}$

- A) 1
- B) 0
- C) -2
- D) -1
- E) 2

22. Теңсіздікті шешіңіз: $\sin^2 4x - \cos^2 4x > -0,5$

A) $-\frac{\pi}{8} + \pi n < x < \frac{\pi}{8} + \pi n, n \in \mathbb{Z}$

B) $\frac{\pi}{24} + \frac{\pi n}{4} < x < \frac{5\pi}{24} + \frac{\pi n}{4}, n \in \mathbb{Z}$

C) $-\frac{\pi}{8} + \pi n \leq x \leq \frac{\pi}{8} + 2\pi n, n \in \mathbb{Z}$

D) $-\frac{\pi}{24} + \frac{\pi n}{4} \leq x \leq \frac{\pi}{24} + \frac{\pi n}{4}, n \in \mathbb{Z}$

E) $-\frac{\pi}{24} + \frac{\pi n}{2} < x \leq \frac{\pi}{24} + \frac{\pi n}{2}, n \in \mathbb{Z}$

23. $f(x) = \frac{7}{\sqrt{2x+5}}$ функциясының барлық алғашқы функциясын табыңыз

A) $7\sqrt{2x+5} + C$

B) $14\sqrt{2x+5} + C$

C) $\frac{7}{2\sqrt{2x+5}} + C$

D) $\frac{7}{2}\sqrt{2x+5} + C$

E) $\sqrt{2x+5} + C$

24. Тік призманың табаны – тең бүйірлі тік бұрышты үшбұрыш. Оның катеті 3 см. Төменгі табанының катеті және жоғарғы табанының осы катетке қарсы жатқан төбесі арқылы жүргізілген қиманың ауданы $7,5\text{см}^2$. Призманың көлемін табыңыз:

A) 16см^3

B) 19см^3

C) 17см^3

D) 18см^3

E) 20см^3

25. Сфера центрінің бір жағында орналасқан, сфераны қиятын параллель жазықтықтардың қималарының ұзындығы 10π және 24π . Жазықтықтар арасы 7 см болса, сфераның бетінің ауданын табыңыз.

A) 678π

B) 700π

C) 676π

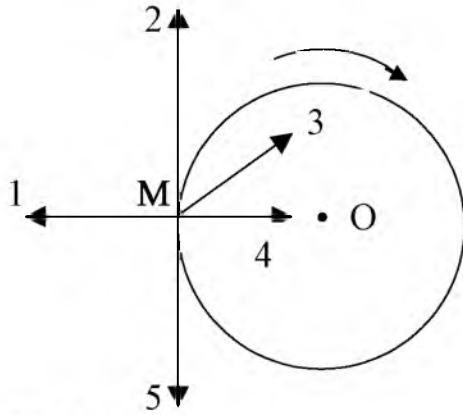
D) 677π

E) 675π

**МАТЕМАТИКА
ПӘНІНЕН СЫНАҚ БІТТІ**

ФИЗИКА

1. Дене шеңбер бойымен бір қалыпты сағат тілі бағытымен қозғалады (суретке қара). М нүктесіндегі үдеу векторының бағыты



- A) 4.
 B) 1.
 C) 2.
 D) 5.
 E) 3.
2. Массасы 50 кг дененің 4 Н күштің әсерінен алатын үдеуі
- A) $0,07 \text{ м/с}^2$.
 B) $0,08 \text{ м/с}^2$.
 C) $4,2 \text{ м/с}^2$.
 D) $1,4 \text{ м/с}^2$.
 E) $0,4 \text{ м/с}^2$.
3. F күші әсерінен дене ϑ жылдамдықпен l жол жүреді. F күші мен ϑ жылдамдық арасындағы бұрыш α . F күшінің жұмысы теріс болады
- A) $90^\circ < \alpha \leq 180^\circ$ болса.
 B) $\alpha = 90^\circ$ болса.
 C) ϑ жылдамдықтың модулі өте кішкене болса.
 D) үйкеліс жоқ болса
 E) $0 < \alpha < 90^\circ$ болса.

4. Қысқа тұйықталу кезіндегі электр тогы күшін анықтайтын өрнек

A) $I = q_0 n \mathcal{E} S$

B) $I = q \cdot t$

C) $I = \frac{\mathcal{E}}{R + r}$

D) $I = \frac{U}{R}$

E) $I = \frac{\mathcal{E}}{r}$

5. Қуаты 24 Вт, кернеуі 4 В шамның ток күші

A) 15 А.

B) 10 А.

C) 3 А.

D) 13 А.

E) 6 А.

6. Контурдан өтетін магниттік ағын және ток күші арасындағы пропорционалдық коэффициенті

A) контурдың өрісі.

B) контурдың индукциясы.

C) контурдың кернеуі.

D) контурдың ЭҚК-і.

E) контурдың индуктивтілігі.

7. $x = 5 \cos \pi t$ теңдеуімен берілген гармониялық тербеліс үдеуі

A) $a = 5 \pi \sin \pi t$

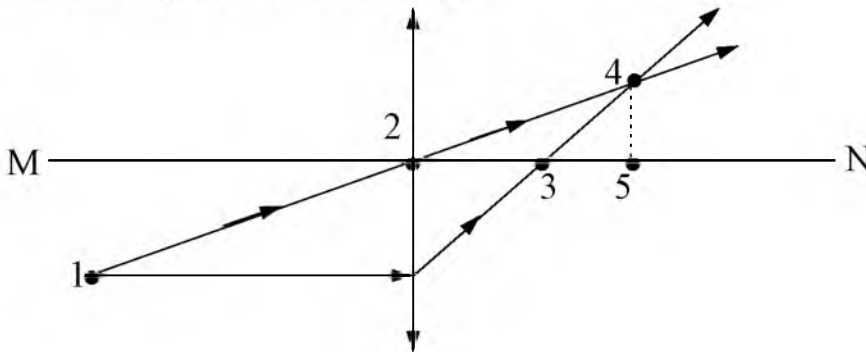
B) $a = 5 \pi^2 \cos \pi t$

C) $a = -5 \pi \sin \pi t$

D) $a = -5 \pi^2 \cos \pi t$

E) $a = -5 \pi^2 \sin \pi t$

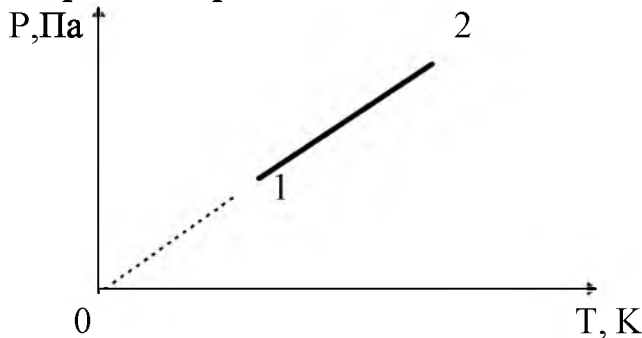
8. Суретте линзадан өтетін жарық сәулесінің жолы кескінделген. Белгіленген нүктелерден линзаның оптикалық центрі болып табылатыны (MN-линзаның бас оптикалық осі).



- A) 3.
 B) 1.
 C) 4.
 D) 2.
 E) 5.
9. Оттегі $^{17}_8\text{O}$ изотобының ядросындағы Z протондар саны мен N нейтрондар саны:
- A) $Z=8, N=9$.
 B) $Z=8, N=8$.
 C) $Z=9, N=8$.
 D) $Z=8, N=17$.
 E) $Z=17, N=8$.
10. Қозғалыстағы автомобиль үшін оң жұмыс атқаратын күш –
- A) үйкеліс күші.
 B) мотордың тарту күші.
 C) ауырлық күші.
 D) Лоренц күші.
 E) серпімділік күші.
11. Егер деформациясын $\sqrt{2}$ есе кемітетін болса, серпінді деформацияланған дененің потенциалдық энергиясы
- A) өзгермейді.
 B) $\sqrt{2}$ есе кемиді.
 C) 2 есе артады.
 D) $\sqrt{2}$ есе артады.
 E) 2 есе кемиді.

12. Тұйық жүйе құрайтын және бір-бірімен ауырлық күші мен серпімділік күш арқылы әрекеттесетін денелердің...
- A) кинетикалық энергиясы және потенциалдық энергиясы тұрақты болады.
- B) кинетикалық және потенциалдық энергиялары өзара тең болады.
- C) кинетикалық энергиясы тұрақты болады.
- D) кинетикалық және потенциалдық энергияларының қосындысы тұрақты болады.
- E) кинетикалық және потенциалдық энергияларының қосындысы нольге тең.

13. 1 күйден 2 күйге өткендегі идеал газдың көлемі



- A) екі есе артады.
- B) азаяды, кейін артады.
- C) азаяды.
- D) артады.
- E) өзгермейді.
14. Көлемі 200 см^3 стақандағы қайнаған су 20°C температураға дейін суығанда бөлінетін жылу мөлшері ($c = 4200 \frac{\text{Дж}}{\text{кг} \cdot ^\circ\text{C}}$; $\rho = 1000 \frac{\text{кг}}{\text{м}^3}$)
- A) 50 кДж.
- B) 70 кДж.
- C) 67,2 кДж.
- D) 40 кДж.
- E) 20 кДж.
15. Кернеу көзіне қосылған конденсатор астарларының ара қашықтығын 2 есе ұлғайтса, конденсатордың энергиясы
- A) 2 есе азаяды.
- B) 2 есе артады.
- C) 4 есе артады.
- D) өзгермейді.
- E) 4 есе азаяды.

16. Массасы 9 кг дене қаттылығы $k=100$ Н/м серіппеге бекітілген. Тербелістің меншікті жиілігі
- A) $\omega=3,3$ рад/с.
 - B) $\omega=0,3$ рад/с.
 - C) $\omega=1,9$ рад/с.
 - D) $\omega=0,9$ рад/с.
 - E) $\omega=1,1$ рад/с.
17. Зарядталған конденсатор мен индуктивті катушканы қосқаннан кейінгі контурдағы энергия конденсатор мен катушка арасына теңдей бөлінетін уақыт аралығы (T-тербеліс периоды)
- A) T.
 - B) T/6.
 - C) T/2.
 - D) T/4.
 - E) T/8.
18. Айнымалы ток тізбегінде индуктивтілігі 16 мГн катушка және сыйымдылығы 2,5 мкФ конденсатор бар. Резонанс туғызатын токтың циклдік жиілігі
- A) $4 \cdot 10^4$ рад/с.
 - B) $5 \cdot 10^{-3}$ рад/с.
 - C) $5 \cdot 10^3$ рад/с.
 - D) $4 \cdot 10^3$ рад/с.
 - E) $5 \cdot 10^4$ рад/с.
19. Вакуумді фотоэлемент катодына монохромат жарық ағынын түсіргенде фотоэлектрондар ыршып шығады. Жарық интенсивтілігін 4 есе азайтқанда 1с ішінде ыршып шығатын фотоэлектрондар саны
- A) 2 есе азаяды.
 - B) 2 есе артады.
 - C) 4 есе азаяды.
 - D) 16 есе азаяды.
 - E) өзгермейді.
20. 180 м биіктіктегі тікұшақтан жүк тасталды. Егер тікұшақ 3 м/с жылдамдықпен төмен түсіп келе жатса, жүктің жерге түсу уақыты ($g = 10$ м/с²)
- A) 6,7 с.
 - B) 6 с.
 - C) 5,7 с.
 - D) 6,3 с.
 - E) 5,3 с.

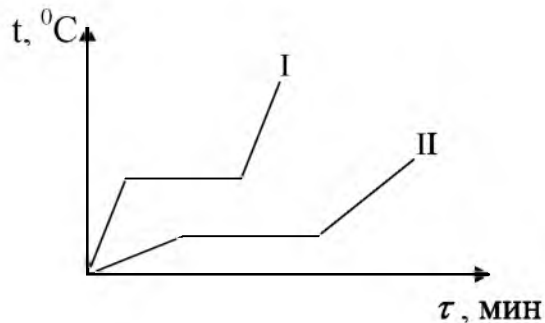
21. Жер айналасымен радиусы $2R$ орбитада қозғалатын жасанды серіктің айналу периоды, радиусы R орбита бойымен қозғалатын серіктің айналу периодынан

- A) $\sqrt{2}$ есе артық
- B) $2\sqrt{2}$ есе артық
- C) $3\sqrt{2}$ есе кем
- D) $4\sqrt{2}$ есе кіші
- E) $8\sqrt{2}$ есе артық

22. Қуаты 10 кВт және ПӘК-і 75% жонғыш станоктың кесу жылдамдығы $0,75$ м/с. Осы станоктың кесу кезіндегі кедергі күші

- A) 10 кН.
- B) 5 кН.
- C) 50 Н.
- D) 10 Н.
- E) 100 Н.

23. Массалары бірдей екі сұйық бір пеште қайнатылды. Сурсттегі I және II графиктен сұйықтардың қайнау температурасы мен меншікті жылу сыйымдылығын салыстыр.



- A) I сұйықтың қайнау температурасы жоғары, II сұйықтың меншікті жылу сыйымдылығы жоғары.
- B) I сұйықтың қайнау температурасы мен меншікті жылу сыйымдылығы жоғары.
- C) II сұйықтың қайнау температурасы жоғары, I сұйықтың меншікті жылу сыйымдылығы жоғары.
- D) II сұйықтың қайнау температурасы мен меншікті жылу сыйымдылығы жоғары.
- E) екі сұйықтың меншікті жылу сыйымдылығы бірдей, I сұйықтың қайнау температурасы жоғары.

24. 0 °C температурадағы 10 м³ ауаның қысымы $2 \cdot 10^4$ Па. Газды изобаралық жолмен 10 °C –ға дейін қыздырғанда істелетін жұмыс

- A) $2,5$ кДж
- B) $4,7$ кДж
- C) $3,7$ кДж
- D) $5,3$ кДж
- E) $7,4$ кДж

25. Вакуумда бір-бірінен 4,8 мм қашықтықта, горизонталь орналасқан екі пластинаның арасында, массасы 10^{-11} кг теріс зарядталған май тамшысы тепе-тендікте тұр. Пластиалар арасындағы кернеу 1 кВ болса, тамшыдағы артық электрондар саны ($e=1,6 \cdot 10^{-19}$ Кл, $g=10$ м/с²)
- A) 2500.
 - B) 2000.
 - C) 3500.
 - D) 3000.
 - E) 1000.

ФИЗИКА
ПӘНІНЕН СЫНАҚ БІТТІ

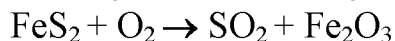
ХИМИЯ

1. Күрделі зат:
 - A) P₄.
 - B) N₂.
 - C) O₃.
 - D) PH₃.
 - E) S₈.
2. Төртінші период, бесінші топтың қосымша топшасында орналасқан элементтің реттік нөмірі ...
 - A) 50.
 - B) 23.
 - C) 32.
 - D) 40.
 - E) 33.
3. Диссоциация кезінде хлорид-ион түзетін зат
 - A) KClO₃.
 - B) HClO.
 - C) KCl.
 - D) HClO₄.
 - E) KClO.
4. Сутек газын ашқан ғалым
 - A) М.В.Ломоносов
 - B) Дж. Прустли
 - C) А.Беккерель
 - D) Г.Кавендиш
 - E) Р.Бойль
5. Алюминийдің қосылыстардағы тотығу дәрежесі:
 - A) +6
 - B) +2
 - C) +3
 - D) +1
 - E) +4
6. Орыс ғалымы А.М.Бутлеров алғаш рет синтездеген зат
 - A) май
 - B) сірке қышқылы
 - C) мочеви́на
 - D) қымыздық қышқылы
 - E) қантты заттар

7. Алкандарға қарағанда алкендердің изомерлерінің көп болу себебі
- A) тек тізбек изомерлері болуынан
 - B) тізбек, қос байланыстың орны және кеңістік изомерлерінің болуынан
 - C) тек қос байланыстың орны бойынша изомерлерінің болуынан
 - D) тек кеңістік изомерлері болуынан
 - E) тек оптикалық изомерлері болуынан
8. Құмырсқа қышқылымен әрекеттесетін зат:
- A) Натрий сульфаты.
 - B) Мыс (II) хлориді.
 - C) Сутек.
 - D) Калий нитраты.
 - E) Күміс (I) оксидінің аммиактағы ерітіндісі.
9. Целлюлоза – ... полимер болады.
- A) әрі табиғи, әрі химиялық
 - B) химиялық, жасанды
 - C) табиғи, өсімдік текті
 - D) табиғи, жануар текті
 - E) химиялық, синтетикалық
10. Реакция өнімінің концентрациясын көбейткенде тепе-теңдік күйдегі жүйенің тепе-теңдігі ...
- A) экзотермиялық реакция жағына ығысады.
 - B) реагенттер жағына ығысады.
 - C) өнімдер түзелу реакция жағына ығысады.
 - D) эндотермиялық реакция жағына ығысады.
 - E) берілген заттардың жұмсалу реакциясы жағына ығысады.
11. Тұз қышқылының 240 г 20 %-ті ерітіндісіне 160 г су қосқанда алынған ерітіндідегі HCl-дың массалық үлесі:
- A) 16 %.
 - B) 20 %.
 - C) 12 %.
 - D) 14 %.
 - E) 18 %.
12. Зертханада 5,85 г натрий хлориді концентрлі күкірт қышқылының артық мөлшерімен әрекеттескенде түзілген хлорсутектің (қ.ж) көлемі
- A) 44,4 мл
 - B) 2,24л
 - C) 2,24мл
 - D) 22,4л
 - E) 0,224л
13. Хлордың массалық үлесі ең көп формула:
- A) KCl.
 - B) CaOCl₂.
 - C) Ca(OCl)₂.
 - D) NaCl.
 - E) CaCl₂.

14. 1,5 моль күкіртсутек толық жанғанда түзілетін күкірт (IV) оксидінің массасы:
- A) 64 г
 - B) 9,6 г
 - C) 96 г
 - D) 32 г
 - E) 3,2 г
15. Суда ерігенде сілтілік орта түзетін зат:
- A) аммоний дигидроортофосфаты.
 - B) натрий ортофосфаты.
 - C) аммоний ортофосфаты.
 - D) аммоний гидроортофосфаты.
 - E) алюминий ортофосфаты.
16. Графит пен алмаз бір элемент атомы - көміртектен – тұратынын дәлелдейтін әдіс:
- A) Азотпен әрекеттесуі.
 - B) Қышқылмен әрекеттесуі.
 - C) Сілтімен әрекеттесуі.
 - D) Күкіртпен әрекеттесуі.
 - E) Екі затты жаққанда CO_2 түзілуі.
17. Мына металдар берілген: Li, Na, Ba, Cu, Ag.
Сумен әрекеттесетін металдар саны
- A) 2.
 - B) 5.
 - C) 4.
 - D) 3.
 - E) 1.
18. $\text{Zn} \xrightarrow{\text{X}} \text{Zn}(\text{NO}_3)_2 \xrightarrow{\text{Y}} \text{ZnCO}_3$ өзгерісіндегі «X» және «Y» заттарының формуласы:
- A) X- NO; Y- H_2O
 - B) X- NH_3 ; Y- CO
 - C) X- N_2 ; Y- C
 - D) X- HNO_3 ; Y- K_2CO_3
 - E) X- HNO_2 ; Y – CH_4
19. Берілген формулалардың ішінде құрамында бір үш байланысы бар көмірсутек және құрамындағы көміртектің массалық үлесі (%)
- A) C_4H_8 ; 85;
 - B) C_2H_4 ; 80;
 - C) C_3H_4 ; 90;
 - D) C_3H_6 ; 86;
 - E) C_3H_8 ; 82;

20. Тотығу-тотықсыздану теңдеуіндегі барлық коэффициенттер қосындысы



A) 14.

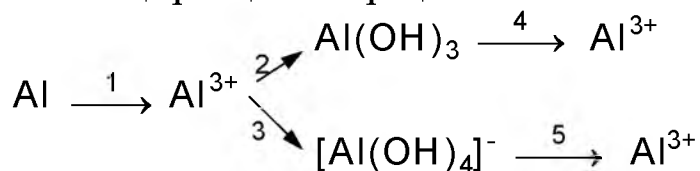
B) 4.

C) 10.

D) 25.

E) 8.

21. Сілтінің артық мөлшері қажет болатын стадия



A) 1.

B) 3.

C) 5.

D) 4.

E) 2.

22. Жаққанда CO_2 мен H_2O зат мөлшерлері 4:5 мольдік қатынаста түзілетін заттың молекулалық формуласы

A) Бутан.

B) Октан.

C) Пентан.

D) Гексан.

E) Пропан.

23. 50г этанол мен 40 г натрий әрекеттескенде түзілетін сутектің (қ.ж.) көлемі

A) 8,17 л

B) 10,17 л

C) 12,17 л

D) 6,17 л

E) 4,17 л

24. Егер глюкозаның 70 %-тті спиртке айналса, массасы 500 г 46 %-тті спирт ерітіндісін алу үшін қажет глюкозаның массасы (г)

A) 642,8 кг

B) 508,8 кг

C) 638,8 кг

D) 518,8 кг

E) 640,8 кг

25. 88г триброманилин алу үшін 35%-ті бром суының ($\rho = 1,02 \text{ г/см}^3$) қажет көлемі (мл)
- A) 325,5
 - B) 358,5
 - C) 415,3
 - D) 425,5
 - E) 375,3

ХИМИЯ
ПӘНІНЕН СЫНАҚ БІТТІ

БИОЛОГИЯ

1. Күнбағыстың гүлшоғыры:
 - A) сыпыртқыгүл.
 - B) қалқанша гүл.
 - C) шашақгүл.
 - D) себетгүл.
 - E) шоқпарбасгүл.
2. Гидраның сыртқы қабаты
 - A) Бластула
 - B) Нейрула
 - C) Мезодерма
 - D) Энтодерма
 - E) Эктодерма
3. Бір-біріне пайдалы, бірлесіп өсу ... деп аталады
 - A) паразитизм
 - B) селбесу (симбиоз)
 - C) бірлестік
 - D) қорық
 - E) флора
4. Су тереңінде сағатына 50 шақырымдық жылдамдықпен жүзіп, қорегін аулайтын басаяқты жәндік
 - A) Госпаулу
 - B) Мидия
 - C) Кальмар
 - D) Сегізаяқ
 - E) Айқұлақ
5. Сәндік үшін өсірілетін тауық:
 - A) Виандот.
 - B) Род-айланд.
 - C) Тауыс (павлин).
 - D) Орыстың ақ тауығы.
 - E) Орлов.
6. Жұлынның жоғарғы шетінің жалғасы
 - A) Мишық
 - B) Аралық ми
 - C) Сопақша ми
 - D) Ортаңғы ми
 - E) Артқы ми

7. Уылдырықтау - бұл:
- A) көбею жағдайы
 - B) өрістегіш балықтардың шалғай жерлерді жүзіп өтуі
 - C) шартты рефлекс
 - D) ұрпағына қамқорлық жасауы
 - E) балықтардың көбею кезіндегі күрделі инстинкті мінез-қылығы
8. Тіршіліктің пайда болу кезеңдері .
- A) 4.
 - B) 5.
 - C) 2.
 - D) 6.
 - E) 3.
9. Тірі табиғат факторлары, яғни тірі ағзалардың өзара әсерлесуі және олардың өлі табиғатқа ықпал жасауы қалай аталатынын белгілеңіз:
- A) Антропогендік фактор.
 - B) Оңтайлы фактор.
 - C) Биотикалық фактор.
 - D) Шектеуші фактор.
 - E) Абиоздық фактор.
10. Қазақстанның «Қызыл кітабының» екінші басылымы.
- A) 1993
 - B) 1983
 - C) 1991
 - D) 1995
 - E) 1985
11. Сүзгілі түтіктерден тұратын ұлпа:
- A) Түзуші
 - B) Жабын
 - C) Негізгі
 - D) Тірек
 - E) Өткізгіш
12. Шырынды сабақты өсімдік:
- A) Алмұрт
 - B) Қызғалдақ
 - C) Жер алмұрты
 - D) Кактус
 - E) Бидайық
13. Гидра ағзасына тән емесі
- A) Тітіркенуі.
 - B) Рефлекс.
 - C) Регенерациясы.
 - D) Ұлпалар түзілуі.
 - E) Мүшелер түзілуі.

14. Ағзаның иммундық қасиеті ... гормоны жетіспегенде пайда болады
- A) Тимозин
 - B) Адреналин
 - C) Инсулин
 - D) Тироксин
 - E) Паратгормон
15. Қозғалмайтын сүйек
- A) омыртқа жотасы
 - B) қол
 - C) сегізкөз
 - D) аяқ
 - E) иық
16. Жүректің кіші қанайналым шеңбері басталатын бөлігі:
- A) Сол жақ қарынша.
 - B) Оң жақ құлақша.
 - C) Қолқа.
 - D) Оң жақ қарынша.
 - E) Сол жақ құлақша.
17. Асқорыту сөлі ферменттерінің әсерінен ұлтабарда ыдырайды
- A) тек көмірсулар ғана
 - B) тек ақуыздар ғана
 - C) ақуыздар, майлар және көмірсулар
 - D) тек майлар
 - E) минералды заттар
18. Бүйректі тексеріп емдейтін дәрігер
- A) уролог
 - B) хирург
 - C) терапевт
 - D) дерматолог
 - E) невропатолог
19. Зиготаның ұзынынан бірдей екі клеткаға бөлінуі:
- A) бластула.
 - B) ұрық.
 - C) бластомер.
 - D) гастрұла.
 - E) ұрық жапырақшасы.
20. Күрек тістері жақсы дамыған жануарлар
- A) Кортшықан, жертесерлер
 - B) Сиыр, жылқы
 - C) Ит, сусар, арыстан
 - D) Кірпілер
 - E) Құндыз, тиін, үй қояны

21. Өсімдіктер былай жіктеледі:
- A) Бөлім, класс, қатар, тұқымдас, туыс, түр.
 - B) Бөлім, класс, қатар, туыс, тұқымдас, түр.
 - C) Бөлім, класс, тұқымдас, қатар, туыс, түр.
 - D) Бөлім, класс, тұқымдас, қатар, түр, туыс.
 - E) Бөлім, класс, қатар, тұқымдас, түр, туыс.
22. Күріштің гүлшоғыры
- A) Шатырма
 - B) Масақ
 - C) Сыпыртқыгүл
 - D) Шоқпарбасгүл
 - E) Шашақгүл
23. Энергетикалық алмасудың оттекті сатысында түзілетін АТФ молекула саны:
- A) 18
 - B) 38
 - C) 36
 - D) 2
 - E) 6
24. Генетикалық инженерияның тарихын тұңғыш ашқан ғалым.
- A) Г.Морган.
 - B) Г.Де фриз.
 - C) Е.Сирс.
 - D) Б.М.Мусин.
 - E) У.Бэтсон.
25. Түрден кіші жүйелік санат.
- A) Тұраралық.
 - B) Түрше.
 - C) Түрішілік.
 - D) Тіршілік.
 - E) Түр.

БИОЛОГИЯ
ПӘНІНЕН СЫНАҚ БІТТІ

ГЕОГРАФИЯ

1. Қазақтың тұңғыш ғарышкері:
 - A) Нил Армстронг.
 - B) Талғат Мұсабаев.
 - C) Юрий Гагарин.
 - D) Тоқтар Әубәкіров.
 - E) Эдвин Олдрин.
2. Горизонтальдар деп аталады.
 - A) План мен картадағы бағыттар.
 - B) Шартты белгілер.
 - C) План мен картада биіктіктері бірдей нүктелерді қосатын қисық сызықтар.
 - D) Бергштрихтар.
 - E) Жер бетінің сипаты.
3. Литосфералық тақталар жылына қозғалады /см/
 - A) 10-20
 - B) 30-40
 - C) 20-30
 - D) 40-50
 - E) 2-5
4. Көлемі жөнінен екінші материк:
 - A) Оңтүстік Америка
 - B) Солтүстік Америка
 - C) Австралия
 - D) Евразия
 - E) Африка
5. Жезқазғандағы мыс кенін ашқан
 - A) П.Семенов
 - B) И. Мушкетов
 - C) Ш.Уәлиханов
 - D) Л.Берг
 - E) Қ.Сәтбаев
6. Топырақ деп ... айтамыз.
 - A) құммен араласқан өсімдікті
 - B) шаң - тозаңды, батпақты
 - C) шолдегі батпақты жерлерді
 - D) жердің беткі, жұқа, құнарлы қабатын
 - E) таулардың үгілуін

7. Батыс Сібір жазығының негізгі өзені
 - A) Сарысу
 - B) Сырдария
 - C) Ертіс
 - D) Есіл
 - E) Тобыл
8. Қазақстанның ежелгі қалалары.
 - A) Шымкент, Астана.
 - B) Павлодар, Өскемен.
 - C) Екібастұз, Балқаш.
 - D) Түркістан, Тараз.
 - E) Теміртау, Рудный.
9. Қазақстан машиналарды сатып алады.
 - A) Түркіменстаннан.
 - B) Қырғызстаннан.
 - C) Ресейден.
 - D) Англиядан.
 - E) Австралиядан.
10. Географиялық қабықтың қалыңдығы салыстырмалы түрде ... (км.)
 - A) 55-60
 - B) 30-40
 - C) 10-15
 - D) 60-65
 - E) 20-25
11. Адам әрекетінің ықпалымен қалыптасатын табиғат комплекстері:
 - A) Антропогендік
 - B) Жазықтық
 - C) Ландшафтық
 - D) Таулық
 - E) Мұхиттық
12. Африкадағы ең ірі сарқырама.
 - A) Игуасу.
 - B) Стенли.
 - C) Анхель.
 - D) Ниагара.
 - E) Виктория.
13. Әмудария және Сырдария өзендері аралығында орналасқан шөл -
 - A) Қарақұм шөлі.
 - B) Қызылқұм шөлі.
 - C) Борсық құмы.
 - D) Мойынқұм шөлі.
 - E) Сарыесік Атырау құмы.

14. Қазақстандағы жеңіл өнеркәсіптің басты саласы:
- A) Жүн өнеркәсібі.
 - B) Тоқыма өнеркәсібі.
 - C) Былғары өнеркәсібі.
 - D) Киіз басу.
 - E) Аяқ-киім өнеркәсібі.
15. Аталғандардың ішіндегі ұлттық дін:
- A) Христиан, ислам, синтоизм
 - B) Будда, ислам
 - C) Ислам, христиан
 - D) Будда, индуизм, ламаизм
 - E) Синтоизм, конфуциан, индуизм
16. Жеңіл автомобиль шығаруда дүние жүзіндегі ең алдыңғы қатарлы ел:
- A) Швейцария
 - B) Чехия
 - C) Жапония
 - D) Франция
 - E) Германия
17. Ресейдің мұнай-газ өндіретін экономикалық ауданы:
- A) Батыс Сібір
 - B) Солтүстік
 - C) Волга-Вятка
 - D) Орталық
 - E) Солтүстік Батыс
18. Еуропадағы химия өнеркәсібінің жетекші елі:
- A) Германия.
 - B) Италия.
 - C) Ұлыбритания.
 - D) Польша.
 - E) Дания.
19. Қоныс аударушылар капитализмі елдері:
- A) Куба, Ямайка.
 - B) Бразилия, Аргентина.
 - C) Канада, Австралия.
 - D) АҚШ, Франция.
 - E) Мексика, Куба.
20. Платформалардың шөгінді жыныстар жауып жатқан бөлігі
- A) Рифт
 - B) Тақта
 - C) Платформа
 - D) Геосинклиналь
 - E) Қалқан

21. Ірі жер асты су алаптары кездесетін табиғат зонасы:
- A) Орман.
 - B) Шөл.
 - C) Шөлейт.
 - D) Орманды дала.
 - E) Дала.
22. Сұқсыр құсы ұялайтын көл.
- A) Қорғалжын.
 - B) Марқакөл.
 - C) Зайсан.
 - D) Балқаш.
 - E) Сасықкөл.
23. «Шығыс шеңбері» автомобиль жолдары ... орталықтарын байланыстырады.
- A) Каспий маңы ойпатының
 - B) Қазақстанның ұсақ шоқысының
 - C) Оралдың
 - D) Кенді Алтайдың
 - E) Тянь-Шаньның
24. Қазақстан аумағын 5 экономикалық ауданға бөлген орыс ғалымы:
- A) Н.Потаин
 - B) И.Мушкетов
 - C) Н.Баранский
 - D) В.Докучаев
 - E) Л.Берг
25. Халықаралық экономикалық байланыстардың дәстүрлі және ең дамыған түрі:
- A) Дүниежүзілік несие рыногы
 - B) Халықаралық еңбек бөлінісі
 - C) Халықаралық мамандану
 - D) Халықаралық туризм
 - E) Халықаралық сауда

ГЕОГРАФИЯ
ПӘНІНЕН СЫНАҚ БІТТІ

ДҮНИЕ ЖҮЗІ ТАРИХЫ

1. Жібек матасының отаны:
 - A) Финикия.
 - B) Үндістан.
 - C) Греция.
 - D) Қытай.
 - E) Алдыңғы Азия.
2. Куликово шайқасындағы Алтын Орда әскерінің қолбасшысы:
 - A) Өзбек
 - B) Ахмет
 - C) Мамай
 - D) Тоқтамыс
 - E) Батый
3. XVII ғ. Франциядағы сословиелік уәкілдіктің жоғарғы мекемесі:
 - A) Парламент
 - B) Бас штаттар
 - C) Конвент
 - D) Конгресс
 - E) Сейм
4. 1773-1775 жылдары Ресейде болған көтерілістің басшысы:
 - A) Е.Пугачев
 - B) И.Болотников
 - C) С.Разин
 - D) Б.Хмельницкий
 - E) Д.Каракозов
5. Қытайдағы 1850-1864 жылдардағы Тайпиндер көтерілісінің басшысы:
 - A) Ли Сючен.
 - B) Лу Синь.
 - C) Хун Сюцюань.
 - D) Юань Шикай.
 - E) Чан Кайши.
6. Бірінші дүниежүзілік соғыста жеңген әскери одақ:
 - A) Үштік одақ.
 - B) Варшава Шарты ұйымы.
 - C) Солтүстік атлантикалық одақ.
 - D) Қасиетті Одақ.
 - E) Антанта.

7. 1944 жылы КСРО одақтастарының фашистік Германияға қарсы ашқан майданы:
- A) Оңтүстік майдан.
 - B) Беларусь майданы.
 - C) Украин майданы.
 - D) Екінші майдан.
 - E) Шығыс майдан.
8. Еуропа Одағына Дания мүше болған жыл:
- A) 2003
 - B) 1963
 - C) 1983
 - D) 1993
 - E) 1973
9. «Соғыс және бейбітшілік» романының авторы:
- A) Толстой.
 - B) Гоголь.
 - C) Чехов.
 - D) Достоевский.
 - E) Тургенев.
10. Египетті бағындырған парсы патшасы:
- A) Телепин
 - B) Валтасар
 - C) Кир
 - D) Камбиз
 - E) II Дарий
11. Славян әліпбиін жасаған ағартушылар:
- A) Бозций мен Кассиодор.
 - B) Павел Диакон мен Теодульф.
 - C) Кирилл мен Мефодий.
 - D) Мюнцер мен Лютер.
 - E) Болеслав пен Мешко.
12. 1389 ж. Косово даласында шайқасқан мемлекеттер:
- A) Византия және Осман мемлекеті.
 - B) Сербия және Осман мемлекеті.
 - C) Ресей және Осман мемлекеті.
 - D) Греция және Осман мемлекеті.
 - E) Болгария және Осман мемлекеті.
13. I Наполеон француз тағына қайта орлған билігі тарихта аталды:
- A) “Директория”.
 - B) Реставрация.
 - C) “Жүз күн”.
 - D) Термидорлық.
 - E) Консультдық.

14. АҚШ-ғы азамат соғысы болған жылдар:
- A) 1861-1871 жж.
 - B) 1863-1865 жж.
 - C) 1861-1865 жж.
 - D) 1862-1864 жж.
 - E) 1862-1869 жж.
15. 1895 ж. Максвеллдің электромагниттік толқындар теориясына сүйене отырып көзге көрінбейтін X-сәулелерін ашқан герман физигі:
- A) Луи Пастер
 - B) В.К.Рентген
 - C) П.Кюри
 - D) А.Беккерель
 - E) Э.Резерфорд
16. Молотов-Риббентроп пактісі жасалған уақыт:
- A) 1938 ж. 23 тамыз.
 - B) 1939 ж. 23 тамыз.
 - C) 1940 ж. 23 тамыз.
 - D) 1937 ж. 23 тамыз.
 - E) 1941 ж. 23 тамыз.
17. Франциядағы Төртінші Республика кезеңі:
- A) 1949-1959 жылдар.
 - B) 1952-1960 жылдар.
 - C) 1950-1956 жылдар.
 - D) 1946-1958 жылдар.
 - E) 1947-1959 жылдар.
18. 1948 жылы Италияда парламенттік сайлауда жеңіске жеткен партия:
- A) Италия Социалистік партиясы.
 - B) Христиан демократиялық партиясы.
 - C) Италиан әлеуметтік қозғалысы.
 - D) Италия Коммунистік партиясы.
 - E) Жұмысшы партиясы.
19. Қытай Халық Республикасы құрылған жыл:
- A) 1952 жыл 6 наурыз
 - B) 1949 жыл 1 қазан
 - C) 1948 жыл 3 қараша
 - D) 1950 жыл 2 маусым
 - E) 1951 жыл 3 шілде
20. Афины мен Спарта қала-мемлекеттерінің бүкіл Грекия жерін одаққа бөлу себебі:
- A) бүкіл Грекия жерін басқаруды жеңілдету үшін
 - B) Афины мен Спартаның Грекия жерінде дара билікке ұмтылуы
 - C) Парсыларға соққы беру үшін
 - D) Македония патшалығының шапқыншылығына қарсы тұруы
 - E) екі бақталас қала-мемлекеттің жауласпай мәмлеге келуі

21. XI ғ. Орыс мемлекетінің гүлденіп, дамуына негізін қалаған ұлы кінәз:
- A) Владимир.
 - B) Ярослав Мудрый.
 - C) Олег.
 - D) Игерь.
 - E) Святослав.
22. XVI ғасырда Еуропадағы реформацияның мәні:
- A) Папа билігін кеңейту.
 - B) Мұсылмандарды қудалау.
 - C) Шіркеу иеліктерін қайта бөліске салу.
 - D) Арабтардан азат ету.
 - E) Католик шіркеуінің озбырлығын шектеу.
23. 1757 ж. бастап Қытай императоры Цяньлунның еуропалықтарға байланысты ұстанған саясаты:
- A) Уақытша тұруға рұқсат берді
 - B) Жеке бастарына салықтар салынды
 - C) Шет елдіктермен некеге тұруға шек қойды
 - D) Сауда орындарына салықты көбейтті
 - E) Қытайға келуіне тыйым салды
24. 1856 ж. Осман империясының экономикасына шетелдік қаржының көптеп келуіне жол ашқан саясат:
- A) Христиандарды мемлекеттік қызметке алуға рұқсаттың берілуі
 - B) Мұсылман емес халықтарға мемлекет алдында теңдік құқығының берілуі
 - C) Жаңа шикізат көздерінің ашылуы
 - D) Шетелдіктерге жеке меншік және қозғалмайтын мүлік алуға рұқсат беру
 - E) Ұлттық қозғалыстарға бірқатар жеңілдіктер жасауы
25. 1921 жылы Монғол араттар төңкерісінің бай-феодалдарының экономикалық үстемдігін құлата алмау себебі:
- A) Қытай мен Монғолия арасында соғыстың шығуы.
 - B) Араттардың саяси сауаттылықтарының әлі де томен болуы.
 - C) Араттардың КСРО мамандарының реформаларына сенім артуы.
 - D) Мал басының көпшілігі ірі бай-феодалдардың иелігінде болуы.
 - E) Боғдыханның араттарды тек қана діни мәселелермен шұғылдануға көндіруі.

ДҮНИЕ ЖҰЗІ ТАРИХЫ
ПӘНІНЕН СЫНАҚ БІТТІ

ҚАЗАҚ ӘДЕБИЕТІ

1. Төмендегі өлең жолдары қай кезде айтылатынын көрсетіңіз.
*Амансың ба, ұлыс оң болсын!
Ақ мол болсын!
Қайда барсаң, жол болсын!*
 - A) Басқа жаққа көшкенде.
 - B) Той бастағанда.
 - C) Адам қайтыс болғанда.
 - D) Наурыз мерекесінде.
 - E) Келін түскенде.
2. *Сәуірде көтерілер рақымет туы,
Көрінер көк жүзінде қаз бен қуы.
Көктен жаңбыр, таулардан сулар жүріп,
Жайылар жер жүзіне қардың суы...* – деген өлең жолдары Ыбырайдың қай өлеңінен екенің белгілеңіз.
 - A) «Жаз»
 - B) «Өзен»
 - C) «Өнер – білім бар жұрттар»
 - D) «Асыл шөп»
 - E) «Кел, балалар, оқылық»
3. Абай «Шегіртке мен құмырсқа» мысалын кімнен аударғанын табыңыз.
 - A) Крылов.
 - B) Некрасов.
 - C) Лермонтов.
 - D) Белинский.
 - E) Пушкин.
4. Абайдың табиғатты тірілту негізінде жазылған өлеңдерін табыңыз.
 - A) «Қыс», «Теректің сыйы».
 - B) «Қараңғы түнде тау қалғып».
 - C) «Қараша, желтоқсанмен сол бір-екі ай».
 - D) «Жазғытұры».
 - E) «Желсіз түнде жарық ай».
5. «Қараш-Қараш оқиғасы» атты туындының авторын табыңыз.
 - A) Б.Майлин.
 - B) Ғ.Мүсірепов.
 - C) С.Мұқанов.
 - D) М.Әуезов.
 - E) Ғ.Мұстафин

6. "Қодар-Қарабайдың қара шоқпары, қараңғы күші есебіндегі сұмырай серігі". Кімнің пікірі екенін белгілеңіз.
- А) Б.Соқпақбаев.
 - В) М.Мағауин.
 - С) М.Әуезов.
 - Д) Ә.Әбішев.
 - Е) Б.Майлин.
7. Қазақ театрының туып, қалыптасуына әртіс ретінде үлес қосқан азаматтарды көрсетіңіз.
- А) Қ.Қуанышбаев, С.Қожамқұлов, Е.Өмірзақов.
 - В) Ә.Қашаубаев, С.Сейфуллин, Ж.Аймауытов.
 - С) М.Әуезов, Ж.Тілепбергенов.
 - Д) Қ.Кемеңгеров, Б.Майлин, Ғ.Мүсірепов.
 - Е) С.Мұқанов, Ж.Шанин.
8. «Адалдық, ақиқаттан сомдап соққан
Тасқа салсам мұқалмас қаруым бар» (М. Мақатаев) деген өлең тармақтарында ақынның нені танытатындығын анықтаңыз.
- А) Сезімталдықты.
 - В) Қайсарлықты.
 - С) Ұяңдылықты.
 - Д) Жігерсіздікті.
 - Е) Білімділікті.
9. «Қыран дала», «Байқоңыр баспалдақтары» поэмаларының авторын табыңыз.
- А) Ж.Молдағалиев.
 - В) С.Мәуленов.
 - С) Т.Молдағалиев.
 - Д) Т.Ахтанов.
 - Е) Қ.Аманжолов.
10. "Қорқыт ата" кітабында неше жыр бар екенін анықтаңыз.
- А) 16 жыр.
 - В) 18 жыр.
 - С) 7 жыр.
 - Д) 12 жыр.
 - Е) 10 жыр.
11. *Тайбурыл атты құтыртып,
Оған да келді сыдыртып ...* – деген жолдар қай жырдан алынғанын белгілеңіз.
- А) «Алпамыс».
 - В) «Еңлік – Кебек».
 - С) «Ер Тарғын».
 - Д) «Қобыланды».
 - Е) «Қозы Көрпеш – Баян сұлу».

12. *"Таза мінсіз асыл тас,
Су түбінде жатады.
Таза мінсіз асыл сөз,
Ой түбінде жатады".*
Қай жыраудың мұрасы екенін белгілеңіз.
- A) Жанкісі.
 - B) Бұқар жырау.
 - C) Шалкиіз.
 - D) Жанак.
 - E) Асан қайғы.
13. Үкілі Ыбырайдың «Қалдырған» толғауының мазмұнына арқау болған негізгі ойды айқындаңыз.
- A) Албырт жастық шаққа деген сағыныш
 - B) Шынайы ғашықтық сезім толғаныстары
 - C) Атамекеннен айрылып зарлаған елдің көз-жасы
 - D) Терең философиялық пайымдаулар
 - E) Қазақ даласындағы Ресей отаршылдығының қитұрқы әрекеттері
14. А.Байтұрсынов ақталған жылды көрсетіңіз.
- A) 1986 ж.
 - B) 1990 ж.
 - C) 1988 ж.
 - D) 1991 ж.
 - E) 1989 ж.
15. «Бейімбет еңбектері жаңа өміріміздің шежіресі еді, биік белесіне енді шыға бергенде үзіліп кетті», - деген пікірдің авторын табыңыз.
- A) С.Мұқанов.
 - B) І.Жансүгіров.
 - C) М.Әуезов.
 - D) Ғ.Мүсірепов.
 - E) С.Сейфуллин.
16. Б.Бұлқышевтің неміс халқының ұлы ақыны Гетемен сырласатын еңбегін көрсетіңіз.
- A) "Өмір сүргім келеді".
 - B) "Майданнан хат".
 - C) "Өмір мен өлім туралы".
 - D) "Жауыздық пен махаббат".
 - E) "Жаңа дүние".
17. Т.Шевченкоға жыр арнаған қазақ ақынын белгілеңіз.
- A) С.Мұқанов.
 - B) И.Байзақов.
 - C) Қ.Жапсарбаев.
 - D) Ж.Жабаев.
 - E) К.Әзірбаев.

18. Автобиографиялық шығарманы табыңыз.
- A) "Қаһар".
 - B) "Өмір мектебі".
 - C) "Сұлушаш".
 - D) "Оянған өлке".
 - E) "Қарағанды".
19. Төмендегі мысалдан метафораны табыңыз.
- A) Көкорай шалғын, ағын су.
 - B) Алыстағы сорлы анамды сағындым.
 - C) Жоғарғы ерні көк тіреп.
 - D) Қызғалдақтай қызық өмір.
 - E) Жел – тым тентек бір бала.
20. *Менің дертім, жігіттер, емес оңай,
Болып едің дейсің зой қашан олай.
Басқа түссе байқарсыз бәріңіз де,
Ойланбаған өмірдің бәрі солай,* -деген олең жолдары Шәкәрімнің қай шығармасынан алынған, табыңыз
- A) «Жасымнан жетік білдім»
 - B) «Өкінішті өмір»
 - C) «Ажалсыз әскер»
 - D) «Бай мен кедей»
 - E) «Дүние мен өмір»
21. Ж.Аймауытовтың «Шернияз» драмасы қай ақынға арналғанын анықтаңыз.
- A) М.Жұмабаев.
 - B) С.Торайғыров.
 - C) М.Дулатов.
 - D) С.Сейфуллин.
 - E) І.Жансүгіров.
22. М.Горькиймен шығармашылық байланыста болған қазақ қаламгерін белгілеңіз.
- A) С.Сейфуллин.
 - B) М.Жұмабаев.
 - C) І.Жансүгіров.
 - D) М.Әуезов.
 - E) А.Байтұрсынов.
23. *"Мағжанды сүйемін, Европалығын, жарқыраған әшекейін сүйемін..."*
Кімнің жүрек сыры екенін белгілеңіз.
- A) М.Әуезов.
 - B) М.Дулатов.
 - C) Ж.Аймауытов.
 - D) Ш.Иманбаева.
 - E) Алмажан ақын.

24. F. Мүсіреповтің «Қазақ солдаты» романының кейіпкерін табыңыз.
- A) Ақбілек.
 - B) Ушаков.
 - C) Қожа.
 - D) Ақбота.
 - E) Ақлима.
25. I.Есенберлиннің алғашқы тарихи романын есіңізге түсіріңіз.
- A) “Алтын орда”.
 - B) “Ғашықтар”.
 - C) “Алтын құс”.
 - D) “Қаһар”.
 - E) “Алмас қылыш”.

**ҚАЗАҚ ӘДЕБИЕТІ
ПӘНІНЕН СЫНАҚ БІТТІ**

АҒЫЛШЫН ТІЛІ

1. «a» артиклі қолданылады
A) apple
B) piece
C) trousers
D) paper
E) water
2. Берілген әріптерден дұрыс құралған сөз табыңыз.
s y p s i h c.
A) syphics.
B) cisyphs.
C) physics.
D) siphycs.
E) psyhics.
3. Дұрыс сөзді таңдаңыз:
“...does the play start?” “I think it starts at seven”
A) how
B) when
C) which
D) where
E) what
4. "Weak" антонимі болып табылатын сөзді анықтаңыз:
A) Strong
B) Short
C) Big
D) Happy
E) Clean
5. Берілген сөз қай сөзбен үйлеседі?
A round
A) ball.
B) dog.
C) chair.
D) cooker.
E) opinion.
6. Артикльдердің дұрыс нұсқасын қойыңыз.
... school hall is on ... fourth floor.
A) an/a.
B) -/the.
C) an/the.
D) the/the.
E) the/a.

7. Сөздің дұрыс аудармасын таңдаңыз:
Өтірік
A) Untruth.
B) Imtruth.
C) Distruth.
D) Intruth.
E) Truth.
8. “a City” сөзінің көпше түрі:
A) Cyties
B) Cityes
C) Cityses
D) Cities
E) Citys
9. Дұрыс нұсқасын таңдаңыз:
... often come here?
A) why
B) how do you
C) you have
D) you do
E) do you
10. Дұрыс жауапты табыңыз.
- What`s the next lesson?
- Just a moment, let me look at my timetable.
...
A) Oh, it`s history - my favourite subject.
B) Oh, it`s history - my favourite matter.
C) Oh, it`s history - my favourite knowledge.
D) Oh, it`s history - my favourite study.
E) Oh, it`s history - my favourite topic.
11. Дұрыс предлогты таңдаңыз:
Do you know the way ... making good coffee?
A) of
B) with
C) -
D) on
E) to
12. Салыстырмалы шырайдағы сын есім:
A) Warm.
B) Best.
C) Largest.
D) Good.
E) Nicer.

13. Сөйлемді толықтырыңыз:

... skates are better than

- A) Our / yours.
- B) Ours / you.
- C) Ours / our.
- D) Ours / yours.
- E) Yours / ours.

14. Есімдіктің дұрыс нұсқасын таңдаңыз:

Do you know the girl ... lives next door?

- A) Whom.
- B) This.
- C) Whose.
- D) Who.
- E) What.

15. Сөйлемді ілік септігіндегі зат есіммен толықтырыңыз:

Everybody knows this...books

- A) Authors
- B) Authors'
- C) Author's
- D) Authors's
- E) Author

16. Етістіктің дұрыс түрін табыңыз.

Look out! My teacher

- A) comes
- B) are coming
- C) come
- D) is coming
- E) came

17. Future in the Past-тағы сөйлем

- A) She isn't going to stay
- B) He said that he would show Mr.Anderson his painting
- C) The customes officer told use to have our passport ready
- D) The didn't give me any money
- E) I saw David today

18. Берілген сөйлемде инфинитив:

I have come here to explain the situation.

- A) анықтауыш
- B) пысықтауыш
- C) күрделі баяндауыштың құрамы
- D) толықтауыш
- E) бастауыш

19. Сөйлемді аяқтаңыз:

Aesop told people interesting ...

- A) tales.
- B) fables.
- C) poems.
- D) novels.
- E) anecdotes.

20. “To be keen on ” аударылады:

- A) Деңгейде ұстау
- B) Жақсы есту қабілетіне ие болу
- C) ... аса қызығушылығын білдіру
- D) Риза болу
- E) Адал болу

21. Фразеологизмге керекті демеулікті қойыңыз:

To be put ... of action – істен шығу

- A) In.
- B) Out.
- C) Off.
- D) Up.
- E) On.

22. Сан есімді оқыңыз:

\$ 83.10

- A) Eighty three dollar and ten cents.
- B) Eighty three dollars ten cents.
- C) Eighty three dollars and ten cents.
- D) Eighty three dollar and ten cent.
- E) Eighty three dollars and ten cent.

23. Жауаптың дұрыс нұсқасын таңдаңыз:

... is it from here to St Peterburg?

- A) How is?
- B) How long?
- C) How many?
- D) How much?
- E) How far?

24. Инфинитивтің, инфинитивтік, герундиалық немесе есімше тіркестің дұрыс түрін көрсетіңіз.

We enjoyed the film ... on television yesterday.

- A) shows.
- B) shown.
- C) was shown.
- D) having showed.
- E) showing.

25. Мәтінді оқып, тапсырманы орындаңыз:

Jonathan Swift liked order in everything. All the people in his house, for example, had to shut the door behind them when they came into the room or left it. One day a maid servant came and asked him to let her visit her sister who lived ten miles away. Swift not only agreed, but let her go there in his own carriage. The girl was so happy that she forgot to shut the door when she left the room. Swift let her go, but about half an hour later he ordered one of the servant to ride after the carriage and tell the girl come back. The poor girl had to turn back. She asked him what he wanted. "I only want you to shut the door", was his answer. "Now you may go to visit your sister. I wish you a pleasant journey".

Сөйлемді толықтырыңыз:

Swift ordered ... to tell the girl come back.

- A) the girl
- B) the servant
- C) her sister
- D) the carriage
- E) the author

**АҒЫЛШЫН ТІЛІ
ПӘНІНЕН СЫНАҚ БІТТІ**

НЕМІС ТІЛІ

1. “arbeiten” етістігінің 3 негізгі формасын табыңыз:
 - A) Arbeiten-arbeitet-gearbeitet.
 - B) Arbeiten-arbeitete-arbeitet.
 - C) Arbeiten-arbeitet-gearbeitete.
 - D) Arbeiten-arbeitete-gearbeitet.
 - E) Arbeiten-arbeitete-gearbeiten.
2. Керекті етістікті қойыңыз:

Wir ... schon gro und gehen in die Schule.

 - A) Sind.
 - B) Bin.
 - C) Haben.
 - D) Habt.
 - E) Ist.
3. Бұйрық райды дұрыс құрыңыз:

... Sie bitte hierher!

 - A) komme
 - B) kommst
 - C) kommte
 - D) kommen
 - E) kommt
4. Қажетті модаль етістікті қойыңыз:

Mein Bruder ... Flieger werden.

 - A) willt.
 - B) will.
 - C) wollt.
 - D) wollen.
 - E) wolltet.
5. Қажетті артикльді табыңыз:

Er liest ... interessanten Roman.

 - A) den.
 - B) eine.
 - C) einen.
 - D) die.
 - E) ein.
6. Қажетті нұсқасын табыңыз:

Die Schrift ist unleserlich. Kannst du diesen ... entziffern?

 - A) Buchstabes.
 - B) Buchstabens.
 - C) Buchstabe.
 - D) Buchstaben.
 - E) Buchstabe.

7. Қажетті жіктеу есімдігін қойыңыз:

Seid ... fertig?

- A) es.
- B) sie.
- C) ihr.
- D) du.
- E) er.

8. Сөйлемді толықтырыңыз:

"Kommst du jetzt ... der Schule? " - "Nein, ich war noch bei meiner Gro mutter."

- A) bei.
- B) gegen.
- C) aus.
- D) mit.
- E) in.

9. Қажетті сөзді қойыңыз.

Machen Sie bitte ... auf!

- A) die Augen.
- B) die Ohren.
- C) der Arm.
- D) den Hals.
- E) die Nase.

10. Керекті сөзді қойындар:

Wann bist du gestern ...?

- A) Stand auf.
- B) Aufgestand.
- C) Aufstand.
- D) Aufstehen.
- E) Aufgestanden.

11. Сөйлемді толықтырыңыз:

Heines Gedichte wurden ... vielen russischen Komponisten vertont.

- A) Beim.
- B) Durch den.
- C) Von dem.
- D) Von.
- E) Durch.

12. Сұрақтарға жауап беріңіз.

Woran denkst du?

- A) An das Wiedersehen mit meinen Freunden.
- B) Auf das Wiedersehen mit meinen Freunden.
- C) Von dem Wiedersehen mit meinen Freunden.
- D) Über das Wiedersehen mit meinen Freunden.
- E) Um das Wiedersehen mit meinen Freunden.

13. Сөйлемді аяқтаңыз:

Die Soldaten lernten

- A) zu verteidigen
- B) zu verteidigen die Heimat
- C) die Heimat verteidigen
- D) die Heimat verzuteidigen
- E) zu die Heimat verteidigen

14. Қажетті зат есімді таңдаңыз:

... kommt beim Essen.

- A) Der Appetit
- B) Die Zeit
- C) Die Antwort
- D) Die Arbeit
- E) Das Spiel

15. Сын есімнің жалғауын қойыңыз:

Mein Freund tragt im Winter sehr gern einen warm... Pullover.

- A) es.
- B) en.
- C) er.
- D) em.
- E) e.

16. Сан есімді таңдаңыз:

... Wochentag hei t Mittwoch.

- A) Der drei.
- B) Die drei.
- C) Der dritte.
- D) Der dreite.
- E) Das dreite.

17. Берілген сөздерден зат есімдерді құрайтын жұрнақты анықтаңыз

klar, sicher, rein, einfach, frei, neu, schon

- A) -ung.
- B) -lich.
- C) -isch.
- D) -schaft.
- E) -heit.

18. Қажетті сөзді таңдаңыз:

Der Fernsehturm in Berlin ist hoch, aber der Fernsehturm in Moskau ist

- A) Hochster.
- B) Hohere.
- C) Hochst.
- D) Hoher.
- E) Hoher.

19. Көп нүктенің орнына дұрыс вариантты қойыңыз:

Die Terrasse, ... wir gegessen haben, war direkt am Meer.

- A) in der.
- B) von der.
- C) auf dem.
- D) aus dem.
- E) auf dem.

20. Сөйлемнің эквивалентін табыңыз:

Der vom Fliegerberuf traumende Junge ist wissbegierig.

- A) Der Junge, der vom Fliegerberuf getraunt hat, ist wissbegierig.
- B) Der Junge, der vom Fliegerberuf träumen wird, ist wissbegierig.
- C) Der Junge, der vom Fliegerberuf getraunt hatte, ist wissbegierig.
- D) Der Junge, der vom Fliegerberuf träumt, ist wissbegierig.
- E) Der Junge träumt vom Fliegerberuf, er ist wissbegierig.

21. Көпше түрі жоқ зат есімді анықтаңыз.

- A) der Berg
- B) das Fleisch
- C) die Worte
- D) die Aufgabe
- E) der Adler

22. Белгіленген сөзге сұрақ қойыңыз:

Er fährt siebentes Mal nach Österreich in Urlaub.

- A) Wie oft?
- B) Wohin?
- C) Wer?
- D) Was?
- E) Wo?

23. Қате жіберілген сөйлемді табыңыз

- A) Er versprach, dass er ihr bald helfen wurde.
- B) Er versprach ihr: "Bald werde ich dir helfen!"
- C) Er versprach, dass er ihr bald helfen wird.
- D) Er versprach, ihr bald zu helfen.
- E) Er versprach ihr baldige Hilfe.

24. Дұрыс вариантты қойыңыз:

Assel will Ärztin werden, ... lernt sie in der Schule sehr fleißig Chemie.

- A) Denn.
- B) Da.
- C) Weil.
- D) Dass.
- E) Darum.

25. Аударыңыз:

Мұғалімнің оқушымен оның рефераты жөніндегі әңгімесі бір сағатқа созылды.

A) Das Gespräch des Lehrers mit dem Schuler über sein Referat dauerte eine Stunde.

B) Das Gespräch des Lehrers mit dem Schuler über ihr Referat dauerte eine Stunde.

C) Das Gespräch des Lehrers mit dem Schuler kann über eine Stunde dauern.

D) Das Gespräch des Lehrers mit dem Schuler über seinen Referate dauerten eine Stunde.

E) Das Gespräch des Lehrers mit dem Schuler über seine Referat dauerte eine Stunde.

**HEMIC TİLİ
PƏNİNEH SYNAQ BITTİ**

ФРАНЦУЗ ТІЛІ

1. Етістіктің қажетті формасын таңдаңыз.
Біз сіздерге суреттерімізді көрсеткелі жатырмыз.
Nous ... vous montrer nos photos.
A) venons.
B) allions.
C) allons.
D) venions.
E) sommes.
2. Етістіктің болымсыз түрінің дұрыс нұсқасын таңда.
Quand quittez-vous cette salle?
A) Rien
B) Plus
C) Pas
D) Personne
E) Jamais
3. Етістіктің ырықсыз түрін дұрыс табыңыз:
On construit cette maison il y a six ans.
A) Cette maison est construite il y a six ans.
B) On va construire cette maison.
C) On vient de construire cette maison.
D) On doit construire cette maison.
E) C'est a construire.
4. Есімдікті етістіктің дұрыс нұсқасын тап
Vous ... etes depeches de rejoindre Mireille.
A) Те.
B) Се.
C) Vous.
D) Ме.
E) Nous.
5. Қажетті тәуелді сын есімді табыңыз.
Nous lisons ... livres.
A) nos.
B) mes.
C) leurs.
D) notre.
E) vos.

6. Реттік сан есімнің дұрыс нұсқасын таңдаңыз.

Mars c'est le ...mois de l'annee.

- A) Trente
- B) Trois
- C) Treize
- D) Treizieme
- E) Troisieme

7. Қажетті предлогты табыңыз.

La malade est pale, elle a mal ...la tete.

- A) Avec
- B) Des
- C) A
- D) De
- E) Dans

8. Қажетті шылауды табыңыз.

Donnez-moi votre reponse...quelques minutes.

- A) Pendant
- B) Depuis
- C) A
- D) Dans
- E) De

9. Сұйлемді толықтырыңыз:

En hiver ...

- A) il fait noir
- B) il neige
- C) il fait du vent
- D) il fait chaud
- E) il pleut

10. Етістіктің қажетті формасын табыңыз.

Je n' _ rien compris.

- A) ont
- B) avons
- C) ai
- D) a
- E) as

11. Тұйық етістіктің дұрыс баламасын көрсетіңіз.

Шақыру.

- A) Invoquer.
- B) Invitant.
- C) Inverser.
- D) Invite.
- E) Inviter.

12. Етістіктің жекеше түрде, 2-ші жақта, бұйрық райдағы түрін көрсетіңіз.
(Montrer) – nous cette photo!
A) Montrez.
B) Montront.
C) Montres.
D) Montre.
E) Montrons.
13. Етістіктің дұрыс шақ түрін көрсетіңіз.
Vous (apprendre) des langues etrangeres, si vous etiez plus jeune?
A) apprendriez
B) aviez appris
C) apprenez
D) appreniez
E) apprendrez
14. Частичный артиклдің дұрыс нұсқасын табыңыз:
Mets lait dans ton the.
A) De la.
B) Au.
C) Du.
D) Le.
E) Un.
15. Қай вариантта предлогпен тіркескен зат есімнің орнына есімдік дұрыс пайдалынады?
N'crivez pas a vos cousins aujourd'hui!
A) les.
B) lui.
C) le.
D) nous.
E) leur.
16. Дұрыс аудармасын табыңыз:
Экспедиция:
A) Expeditivement.
B) Expedier.
C) Expeditif.
D) Expedie.
E) Expedition.
17. Қатесі бар нұсқасын табыңыз:
A) Heureux-heureuxment.
B) Franche-franchement.
C) Vif-vivement.
D) Lent-lentement.
E) Doux-doucement.

18. Белгіленген сөзге қойылатын сұрақты анықтаңыз.

Le professeur explique la grammaire.

- A) Qui?
- B) Qu'est-ce qui?
- C) Qui est-ce que?
- D) Qui est-ce qui?
- E) Que?

19. Аударманың дұрыс нұсқасын табыңыз.

Жақсы тәрбиеленген адам.

- A) Un homme discipline
- B) Un homme intelligent
- C) Un homme mechant
- D) Un homme mal eleve
- E) Un homme bien eleve

20. Етістіктің қажетті формасын таңдаңыз.

Tenez-vous a ce que vos subordonnees vous ...la main?

- A) Serraient
- B) Auraient serre
- C) Serrent
- D) Serreront
- E) Serreraient

21. Етістіктің қажетті формасын таңдаңыз:

J'étais sur qu'elle ne pas (dire) toute la verite.

- A) Eut dit
- B) Dira.
- C) A dit.
- D) Dit.
- E) Avait dit.

22. Көп нүктелердің орнына сәйкес келетін сілтеу есімдіктерін көрсетіңіз.

Prends ces cahiers: ... et

- A) ceux-ci/celles-la.
- B) de ceux-ci/a ceux -la.
- C) celle-ci/celui-la.
- D) ceux-ci/ceux-la.
- E) celui-ci/celle-la.

23. [wa] дыбысы бар сөзді табыңыз:

- A) Poele.
- B) Poule.
- C) Peintre.
- D) Payer.
- E) Point.

24. Қажеттісін таңдаңыз:

Avec les huitres on boit generalement.

A) Du vin rouge

B) Du coca

C) De la biere

D) Du vin blanc

E) Du cognac

25. Дұрыс сөйлемді табыңыз:

A) A Avignon il y a de belles monuments.

B) La Provence a reçu son nom des Romains.

C) Dans les plaines du Rhone on cultivent des legumes et des fruits.

D) La Camargue est une terre couvert de marecages.

E) Les montagnes de Provence est les grandes Alpes.

ФРАНЦУЗ ТІЛІ
ПӘНІНЕН СЫНАҚ БІТТІ