

ҚАЗАҚСТАН РЕСПУБЛИКАСЫ
БІЛІМ ЖӘНЕ ҒЫЛЫМ МИНИСТРЛІГІ

ҰЛТТЫҚ ТЕСТЛЕУ ОРТАЛЫҒЫ

БАЙҚАУ СЫНАҒЫ

СҰРАҚ КІТАПШАСЫ

7001 - НҰСҚА

Аты-жөні _____

ТЖК _____ Жауап парағының № _____

Лек _____ Аудитория № _____ Орын № _____

Бесінші пән аты _____

Талапкердің қолы _____

Сектор 5			
Нұсқа:			
7	0	0	1
①	①	①	●
②	②	②	②
③	③	③	③
④	④	④	④
⑤	⑤	⑤	⑤
⑥	⑥	⑥	⑥
●	⑦	⑦	⑦
⑧	⑧	⑧	⑧
⑨	⑨	⑨	⑨
⑩	●	●	⑩



2010

ҚАЗАҚ ТІЛІ

1. Тек орыс тілінен енген сөздерде жазылатын әріпті белгілеңіз.
 - A) ұ
 - B) а
 - C) ы
 - D) э
 - E) ә
2. Төрт буыннан тұратын сөзді табыңыз.
 - A) Орта.
 - B) Төзімді.
 - C) Жақсылық.
 - D) Ертеңгілік.
 - E) Саңырауқұлақ.
3. Күрделі сөзді табыңыз.
 - A) Қара жіп.
 - B) Асанды қара.
 - C) Көк ту.
 - D) Қара көк.
 - E) Көк сия.
4. Көмектес септігіндегі сөзді табыңыз.
 - A) Еңбегімен бағаланады.
 - B) Кітапханадан шығу.
 - C) Колхоздан келу.
 - D) Жерге дән себу.
 - E) Күректі алу.
5. Сан есімді табыңыз.
 - A) Қыстыгүні.
 - B) Ешбіреу.
 - C) Елуінші.
 - D) Жарқ-жүрқ.
 - E) Өттеген-ай.
6. Белгісіздік есімдігін табыңыз.
 - A) Бәрі.
 - B) Барша.
 - C) Бәріміз.
 - D) Күллі.
 - E) Біреу.
7. Екі буыннан тұратын бейнелеуіш сөзді табыңыз.
 - A) Ербең.
 - B) Шіңк.
 - C) Лап.
 - D) Қалқ.
 - E) Сарқ.

8. *Ма, ме, ба, бе, па, пе* шылауларының қатысуымен жасалатын сөйлемді анықтаңыз.
- A) Сұраулы сөйлем.
 - B) Хабарлы сөйлем.
 - C) Бұйрықты сөйлем.
 - D) Лепті сөйлем.
 - E) Жай сөйлем.
9. Қыстырма сөздің қандай мағынада екенін табыңыз.
Кім біледі, сіздікі дұрыс шығар.
- A) Ренішті білдіреді.
 - B) Күмәнділікті білдіреді.
 - C) Мақұлдау ризашылықты білдіреді.
 - D) Ойдың кімнің тарапынан екендігін білдіреді.
 - E) Ой тәртібін білдіреді.
10. Синонимдік қатарды табыңыз.
- A) Қыстау, жайлау.
 - B) Қисынды, орынды, ретті.
 - C) Жылқы, тай.
 - D) Парыз, қуаныш.
 - E) Етік, бөрік.
11. Тұрақты сөз тіркесін табыңыз.
- A) Тарихи мұражай.
 - B) Аққан жұлдыз.
 - C) Табанынан таусылу.
 - D) Еңбекақы төлеу.
 - E) Тарлан ат.
12. Көнерген сөзді белгілеңіз.
- A) Жебе.
 - B) Кеден.
 - C) Несие.
 - D) Құжат.
 - E) Жеделхат.
13. Сөздегі ілгерінді ықпалды белгілеңіз.
- A) Қансонар.
 - B) Басшы.
 - C) Құша.
 - D) Ішсін.
 - E) Ата салт.
14. Салыстырмалы шырайда тұрған сөзді табыңыз.
- A) Жап-жақсы кісі.
 - B) Кішілеу қазан.
 - C) Биік үй.
 - D) Тым кішкене доп.
 - E) Өте әдемі.

15. Сабақты етістікті табыңыз.
- A) Кел.
 - B) Татулас.
 - C) Жақында.
 - D) Аралас.
 - E) Бағала.
16. Қосымша арқылы байланысқан сөз тіркесін табыңыз.
- A) Кең дала.
 - B) Колхоздың бас агрономы.
 - C) Отан үшін жан пида.
 - D) Көпір арқылы өту.
 - E) Бүгін келді.
17. Анықтауыш қызметінде тұрған сан есімді табыңыз.
- A) Біздер сапқа тұрдық.
 - B) Асқар - он үште, мен - он төрттемін.
 - C) Алтау - үшке қалдықсыз бөлінеді.
 - D) Оларды әр бөлмеге бес-бестен орналастырдық.
 - E) Біздің облысымыз 116 мың гектар егін сеуіп, 14 миллион пұт астық алды.
18. Жақсыз сөйлемді табыңыз.
- A) Күлкілі әңгіме.
 - B) Біз балабақшаға келе жатырмыз.
 - C) Әсел үйге кіріп келді.
 - D) Бізге уақытты ұту керек.
 - E) Таң да атты.
19. Төл сөздің орналасуы тәртібіне қарай тыныс белгілерін көрсетіңіз.
Әбеке-ау, мұны сіз естімен не едіңіз деп күліп сөйледім.
- A) Автор сөзінің алдынан сызықша қойылады
 - B) Төл сөздің алдынан сызықша қойылады, төл сөзден кейін сұрау белгісі, одан кейін автор сөзінің алдында сызықша келеді.
 - C) Төл сөздің алдынан тырнақша қойылады.
 - D) Автор сөзінен кейін нүкте қойылады.
 - E) Автор сөзі төл сөзден бұрын келген, қос нүкте қойылады.
20. Ойын атауына байланысты біріккен сөзді табыңыз.
- A) Айдаршоп.
 - B) Екібастұз.
 - C) Балтамтап.
 - D) Ұлтабар.
 - E) Киікоты.

21. Үстеу қызметін анықтаңыз.
Елдің бәрі осында.
- A) Толықтауыш.
 - B) Анықтауыш.
 - C) Баяндауыш.
 - D) Бастауыш.
 - E) Пысықтауыш.
22. «-мыс» шылауымен омонимдес болатын сөз табын көрсетіңіз.
- A) Етістік.
 - B) Есімше.
 - C) Үстеу.
 - D) Зат есім.
 - E) Сан есім.
23. Қарсылықты бағыныңқы сабақтас сөйлемді көрсетіңіз.
- A) Бойда қайрат болмаған соң, айтпа сөз.
 - B) Қартайсақ та, дауысымыз жаспен бірдей.
 - C) Осы жолдан таймай адал жүрсең, жетпейтін мақсат жоқ.
 - D) Ділдәні Абайға айттырған уақытта, Алшынбай ауылы күміс тартқан.
 - E) Жапырағы судырлап, тал таранды сұлуша.
24. Тыныс белгісі дұрыс қойылған сөйлемді анықтаңыз.
- A) Ол үйінде я кесте тоқиды, я кітап оқиды, немесе домбыра шертеді.
 - B) Ол үйінде я кесте тоқиды, я кітап оқиды немесе домбыра шертеді.
 - C) Ол үйінде я кесте тоқиды, я, кітап оқиды, немесе домбыра шертеді.
 - D) Ол үйінде я кесте тоқиды; я кітап оқиды; немесе домбыра шертеді.
 - E) Ол үйінде я кесте тоқиды, я кітап оқиды; немесе домбыра шертеді.
25. Ғылыми стильге жататын сөйлемді табыңыз.
- A) Қасына отырғызып, жөн сұрады.
 - B) Жұмыстан соң олар табиғат аясында демалады.
 - C) Қазбаларда тас дәуіріне жататын мүліктер бары анықталды.
 - D) Ол әлгі орманды картадан көрсетті.
 - E) Алыс жол атты сынайды.

**ҚАЗАҚ ТІЛІ
ПӘНІНЕН СЫНАҚ АЯҚТАЛДЫ**

ОРЫС ТІЛІ

1. Слово с ударением на втором слогe:
 - А) яблоки
 - В) поле
 - С) песни
 - Д) ребята
 - Е) падают
2. Ъ пишется:
 - А) в иноязычных словах перед о.
 - В) между корнем, заканчивающимся на согласный и суффиксом или окончанием на е, ё, ю, я, и.
 - С) в корне слова перед е, ё, ю, я, и.
 - Д) на конце слова.
 - Е) после приставки на согласный перед е, ё, ю, я.
3. Укажите, в каком варианте синонимы являются прилагательными:
 - А) север – юг
 - В) холод – мороз
 - С) начальник – шеф
 - Д) жаркий – знойный
 - Е) жара – зной
4. Укажите падеж существительного в словосочетании *нет товарищей*:
 - А) дательный
 - В) родительный
 - С) винительный
 - Д) творительный
 - Е) именительный
5. Дефис не пишется в наречии:
 - А) по(?)товарищески
 - В) давным(?)давно
 - С) бок(?)о бок
 - Д) по(?)прежнему
 - Е) по(?)осеннему
6. Управление:
 - А) появились на горизонте
 - В) появились листочки
 - С) прошлогодние листья
 - Д) сочная трава
 - Е) появляются неторопливо

7. Укажите примыкание:
- А) искреннее признание
 - В) признался другу
 - С) признался неожиданно
 - Д) признать общество
 - Е) признание удивило
8. Они ловят малейшее дуновение ветерка.
Подлежащее в предложении выражено
- А) глаголом
 - В) местоимением
 - С) существительным
 - Д) прилагательным
 - Е) сочетанием числительного с существительным.
9. Укажите, чем осложнено предложение:
Любопытство свойственно фазанам и часто губит их, притупляя чувство опасности.
- А) обособленным определением
 - В) обособленным приложением
 - С) вводными словами
 - Д) обособленным дополнением
 - Е) обособленным обстоятельством
10. Укажите слово, образованное путём слияния двух основ:
- А) кладовка
 - В) мичман
 - С) тотчас
 - Д) прицеп
 - Е) силач
11. Укажите синтаксическую роль прилагательного в сравнительной степени:
За рекой и трава была гуще, и воздух был свежее.
- А) сказуемое - сказуемое
 - В) обстоятельство - обстоятельство
 - С) определение - определение
 - Д) обстоятельство - определение
 - Е) определение - обстоятельство
12. Укажите местоимение с дефисным написанием:
- А) позаботиться (о) (ком)
 - В) (кое)какие приметы
 - С) (кое) (с)каким предложением
 - Д) встретиться (кое)(с)кем
 - Е) помешать (кое)(в)чем

13. В предложении есть причастный оборот:
- А) Сестра, склонив голову, что-то писала в тетради.
 - В) Я люблю наблюдать за облаками, плывущими в небе.
 - С) Он не хотел сидеть сложа руки.
 - Д) Разложив игрушки на полу, дети стали складывать их в ящик.
 - Е) Занявшись рисованием, ребенок не захотел обедать.
14. Слитно пишется деепричастие с *не*:
- А) (не) крепись
 - В) (не) положи
 - С) (не) годую
 - Д) (не) видя
 - Е) (не) давши
15. Определите предложение с составным союзом:
- А) Есть в осени первоначальной короткая, но дивная пора.
 - В) Я хочу, чтоб к штыку приравняли перо.
 - С) Звезды меркнут и гаснут.
 - Д) Перо пишет, а ум водит.
 - Е) Мы начали беседовать, как будто век были знакомы.
16. Восклицательное предложение
- А) Чей голос раздаётся в тишине
 - В) Волны бьются о берег
 - С) Океан ласково рокочет
 - Д) Как тихо и прекрасно вокруг
 - Е) Океан словно замер
17. Укажите тип односоставного предложения:
Осенний холодок.
- А) Обобщённо-личное
 - В) Определённо-личное
 - С) Неопределённо-личное
 - Д) Безличное
 - Е) Назывное
18. Укажите односоставное назывное предложение.
- А) Полночной порой камыши шелестят.
 - В) Это была песня последней встречи.
 - С) Приди на рассвете на склон косогора.
 - Д) Твоей одежды не коснусь.
 - Е) Москва! Какой огромный город!
19. Схема предложения:
Что будут читать мои правнуки писал Лев Толстой.
- А) «П!»-а.
 - В) «П?»-а.
 - С) А: «П?».
 - Д) «П, -а. -П».
 - Е) «П»-а.

20. Фразеологизм *ахиллесова пята* означает:
- А) любимое дело
 - В) сдерживающая сила
 - С) уязвимое место
 - Д) постоянная угроза
 - Е) двигательная сила
21. Укажите слова, образованные приставочным способом:
- А) подготовка, разрез
 - В) подгруппа, раскрасавица
 - С) разбег, разочарование
 - Д) подсказка, заморозки
 - Е) подход, заход
22. В настоящем и будущем времени безличные глаголы употребляются только в форме
- А) 1 лица множественного числа
 - В) 2 лица множественного числа
 - С) 2 лица единственного числа
 - Д) 3 лица единственного числа
 - Е) 1 лица единственного числа
23. Укажите значение сложносочинённого предложения.
Среди безмолвия ночного луна так весело глядит, и луч её отражается на стеклах домов.
- А) Взаимоисключение.
 - В) Чередование.
 - С) Уступка.
 - Д) Одновременность
 - Е) Противопоставление.
24. Найдите предложение, в котором есть изъяснительное придаточное:
- А) Надо ехать, если он советует.
 - В) Она не сводит глаз с дороги, что идет через рощу.
 - С) Задумал я узнать, прекрасна ли земля.
 - Д) Откуда ветер, оттуда и дождь.
 - Е) Чем скорее догорал огонь, тем виднее становилась лунная ночь.
25. Укажите тип подчинения придаточных предложений:
Он понял, что больше не может идти, что никакая сила не сдвинет его с места.
- А) последовательное подчинение
 - В) неоднородное подчинение
 - С) однородное подчинение
 - Д) комбинированное подчинение
 - Е) управление

ҚАЗАҚСТАН ТАРИХЫ

1. Қазақ халқының құрамындағы ірі тайпалардың бірі және Орта жүздің руы:
 - A) Дулат.
 - B) Найман.
 - C) Қаңлы.
 - D) Үйсін.
 - E) Адай.
2. Көшім хан Батыс Сібірдің жергілікті халқына тарата бастаған дін:
 - A) Иудаизм
 - B) Несториан
 - C) Будда
 - D) Ислам
 - E) Христиан
3. Жоңғар шапқыншылығы кезіндегі қайғы-қасірет әсерінен туған ән:
 - A) «Заман-ай».
 - B) «Қайран дүние».
 - C) «Туған жер».
 - D) «Елім-ай».
 - E) «Елім менің».
4. К. Қасымұлы бастаған көтеріліс болған жылдар:
 - A) 1807-1817 ж.ж.
 - B) 1827-1837 ж.ж.
 - C) 1817-1827 ж.ж.
 - D) 1837-1847 ж.ж.
 - E) 1847-1857 ж.ж.
5. 1822 жылғы «Сібір қазақтарының Ережесі» бойынша аға сұлтанға 10 жылғы еңбегі үшін берілген атақ:
 - A) Генерал
 - B) Князь
 - C) Дворян
 - D) Аға сұлтан
 - E) Хорунжий
6. Кашмирде болып, 250 кашмир шәлісін Қазақстанға жеткізген көпес:
 - A) А. Утемышев
 - B) С. Нерпин
 - C) С. Мадатов
 - D) Д. Кузнецов
 - E) С. Попов

7. Қазақ тілі мен әдебиетін дамытуда шығармашылық мұрасы ерекше орын алатын тұлға:
- A) С.Көбеев
 - B) Ш.Құдайбердіұлы
 - C) С.Дөнентаев
 - D) А.Байтұрсынұлы
 - E) Т.Ізтілеуов
8. 1916 жылғы ұлт-азаттық көтеріліске негіз болған себепші фактор:
- A) Салықтың шамадан тыс көбеюі.
 - B) 19- дан 43 жасқа дейінгі адамдарды қара жұмысқа алу туралы патша жарлығы.
 - C) Қазақтардан соғыс қажетіне тегін мал алу туралы Патша жарлығы.
 - D) Қазақтардан көптеген жерлер тартып алу.
 - E) Патшалы Ресейдің тарапынан отарлық езгінің күшеюі.
9. Ұлы Отан соғысы жылдарында Кеңес Одағының Батыры атағын алған қазақстандықтар саны:
- A) 900-ға жуық.
 - B) 500-ге жуық.
 - C) 800-ге жуық.
 - D) 600-ге жуық.
 - E) 700-ге жуық.
10. Түрік қағанаты мен Византия мемлекеті қарсы одақ құрған ел:
- A) Иран.
 - B) Қытай.
 - C) Хорезм.
 - D) Парсы.
 - E) Эфталиттер.
11. Енисей жағалаулары мен Алтайды мекендеген ежелгі тайпа:
- A) ғұндар
 - B) үйсіндер
 - C) қаңлылар
 - D) сарматтар
 - E) сақтар
12. Б.з.б. II-I ғасырларда Қытай елімен сауда байланысын жасаған:
- A) Қарахандықтар мемлекеті
 - B) Үйсін мемлекеті
 - C) Оғыз мемлекеті
 - D) Қарлұқ қағанаты
 - E) Соғды елі
13. Ақ Орданың соңғы ханы:
- A) Ұрұс хан.
 - B) Тоқтамыс.
 - C) Барақ.
 - D) Мүбәрәк қожа.
 - E) Ерзен.

14. XIII ғасырдың басында жасалған мәмлүктік Египет мемлекетінің «араб-қыпшақ» сөздігінде «қазақ» сөзіне берілген түсіндірме:
- A) «Еркін», «кезбе»
 - B) «Мықты», «күшті»
 - C) «Еркін», «берік»
 - D) «Мықты», «берік»
 - E) «Алып», «күшті»
15. Иасы қаласы Түркістан деп аталды:
- A) XIV ғасырдан.
 - B) XIII ғасырдан.
 - C) XV ғасырдан.
 - D) XVII ғасырдан.
 - E) XVI ғасырдан.
16. М. Дулатұлының 1915 жылы жарық көрген туындысы:
- A) «Бақытсыз Жамал»
 - B) «Оян, қазақ»
 - C) «Азамат»
 - D) «Терме»
 - E) «Қамар сұлу»
17. Ұжымдастыру басталардан бұрын республикада 40,5 млн мал болса, 1933 жылы қалғаны:
- A) 25 млн.
 - B) 30,5 млн.
 - C) 5 млн.
 - D) 10,5 млн.
 - E) 4,5 млн.
18. 1960 жылдардың II жартысында салынған электр станциясы:
- A) Қапшағай
 - B) Алматы
 - C) Жамбыл
 - D) Өскемен
 - E) Ақтау
19. 1989 жылдың маусымында халық бұқарасының ірі бас көтеруі өткен қала
- A) Алматы
 - B) Жаңатас
 - C) Қарағанды
 - D) Шымкент
 - E) Жаңаөзен
20. А. Йасауи Бұхара қаласында діни білім алуына көмектескен ғұлама:
- A) Жүсіп Баласағұн
 - B) М. Қашқари
 - C) Юсуф Хамадани
 - D) Әли ақын
 - E) Арыстан баб

21. Ислам діні Қазақстанда VIII ғасырда тарай бастағанымен, халықтың жүрек түкпіріне XIX ғасырдың аяғына дейін толық жете қоймағаны жөнінде өз пікірін жазған қазақтың тұңғыш ғалымы:
- A) М. Дулатов
 - B) Ш. Уәлиханов
 - C) А. Құнанбаев
 - D) Ж. Аймауытов
 - E) Ш. Құдайбердиев
22. Қазақ хандығының құрылуының алғы шарттарының бірі, мына мемлекеттердің арасындағы саяси оқиғаларға байланысты:
- A) Сібір хандығы мен Хиуа хандығы
 - B) Әбілхайыр хандығы мен Моғолстан хандығы
 - C) Ноғай ордасы мен Ресей
 - D) Көшім хандығы мен Қоқан хандығы
 - E) Ақ Орда мемлекеті мен Сібір хандығы
23. XIX ғасырдың ортасында болған Оңтүстік Қазақстан мен Жетісудағы көтерілістер бағытталды:
- A) Қоқан хандығына қарсы.
 - B) Аңғлия билігіне қарсы.
 - C) Қытай билеушісіне қарсы.
 - D) Иран шахына қарсы.
 - E) Қашғар хандығына қарсы.
24. 1920 жылға қарай Қазақ Әскери Комиссариаты Бөкей Ордасында, Орал мен Торғайда құрған әскери бөлім мен бөлімшелер саны:
- A) 28.
 - B) 37.
 - C) 42.
 - D) 19.
 - E) 10.
25. 1950 жылдары Қазақстан комсомолы салынуын қамқорлыққа алған объектілердің бірі:
- A) Түрксіб темір жолы
 - B) Қарсақбай мыс комбинаты
 - C) Балқаш мыс зауыты
 - D) Өзен мұнай алабы
 - E) Соколов-Сарыбай комбинаты

**ҚАЗАҚСТАН ТАРИХЫ
ПӘНІНЕН СЫНАҚ БІТТІ**

МАТЕМАТИКА

1. Есептеңіз: $1 - 0,15 : \left(\frac{11}{12} - 0,75\right)$.

A) $\frac{1}{2}$.

B) $\frac{9}{10}$.

C) 0,85.

D) 0,1.

E) 5,1.

2. Бөлшекті қысқартыңыз: $\frac{9x^2 - 6xy + y^2}{15x^2 - 5xy}$.

A) $\frac{3y - x}{5}$

B) $\frac{3x + y}{5x}$

C) $\frac{3x - y}{5x}$

D) $\frac{3y + x}{5x}$

E) $\frac{3y - x}{5x}$

3. Цистернаға 38 л бензин құйғаннан соң, цистернаның 5%-нің толмағаны байқалды. Цистерна толық толтырылуы үшін қанша бензин құйылуы керек?

A) 1,5 л.

B) 3 л.

C) 1 л.

D) 2,5 л.

E) 2 л.

4. Теңсіздікті шешіңіз: $\frac{1}{3}x - 2 \leq \frac{5}{6}x - 8$.

- A) $[2; +\infty)$.
- B) $[12; +\infty)$.
- C) $(-\infty; 2]$.
- D) $(-\infty; 12)$.
- E) $(-\infty; 12]$.

5. Теңсіздікті шешіңіз: $\frac{3}{\sqrt{27^x}} < \frac{3}{9^x}$.

- A) $(-\infty; 0)$.
- B) $(0; +\infty)$.
- C) $(4; +\infty)$.
- D) $[0; +\infty)$.
- E) $(-\infty; 4)$.

6. $\sqrt{27} + \sqrt{x-2} = \sqrt{75}$ теңдеуінің шешімін табыңыз:

- A) 14
- B) 27
- C) 11
- D) 83
- E) 16

7. Теңдеуді шешіңіз: $\operatorname{tg}^2 x + 2\operatorname{tg} x + 1 = 0$

A) $\frac{\pi}{4} + \pi n; n \in \mathbb{Z}$

B) Шешімі жоқ

C) $-\frac{\pi}{4} + \pi n; n \in \mathbb{Z}$

D) $\frac{\pi}{4} + 2\pi n; n \in \mathbb{Z}$

E) $-\frac{\pi}{4} + 2\pi n; n \in \mathbb{Z}$

8. Функцияның анықталу облысын табыңыз: $y = \frac{1}{x+2} - x$

A) $x \in (-\infty; -2)$

B) $x \in (2; +\infty)$

C) $x \neq 0$

D) $x \neq 2$

E) $x \neq -2$

9. Ұқсас екі төртбұрыштың периметрлерінің қатынасы 2 : 3. Аудандарының қатынасын табыңыз.

A) 2 : 3.

B) $\frac{1}{2} : \frac{1}{3}$.

C) 6 : 8.

D) 4 : 9.

E) $\sqrt{2} : \sqrt{3}$.

10. Сандарды өсу ретімен жазыңыз: $4\sqrt{2}$; $\sqrt{29}$; $2\sqrt{6}$; $\frac{1}{2}\sqrt{188}$; $3\sqrt{3}$.

A) $4\sqrt{2}$; $3\sqrt{3}$; $2\sqrt{6}$; $\sqrt{29}$; $\frac{1}{2}\sqrt{188}$.

B) $\frac{1}{2}\sqrt{188}$; $2\sqrt{6}$; $3\sqrt{3}$; $4\sqrt{2}$; $\sqrt{29}$.

C) $2\sqrt{6}$; $\frac{1}{2}\sqrt{188}$; $3\sqrt{3}$; $2\sqrt{6}$; $4\sqrt{2}$.

D) $3\sqrt{3}$; $2\sqrt{6}$; $4\sqrt{2}$; $\sqrt{29}$; $\frac{1}{2}\sqrt{188}$.

E) $2\sqrt{6}$; $3\sqrt{3}$; $\sqrt{29}$; $4\sqrt{2}$; $\frac{1}{2}\sqrt{188}$.

11. Теңдеуді шешіңіз: $|2x + 1| = x$.

A) $x_1 = -1$; $x_2 = -\frac{1}{3}$.

B) $x = -\frac{1}{3}$.

C) $x_1 = 2$; $x_2 = -\frac{2}{3}$.

D) Шешуі жоқ.

E) $x = 1$.

12. Теңдеуді шешіңіз: $125^{3x-1} = 5 \cdot 0,04^{0,5x+3}$.

A) -0,3.

B) -1.

C) -0,2.

D) -1,2.

E) 2.

13. $\lg(x + 7) - \frac{1}{2} \lg(2x - 1) = 2 - \lg 25$ теңдеуінің түбірлерінің қосындысын

табыңыз.

- A) 18.
- B) 19.
- C) 17.
- D) 16.
- E) 20.

14. Есептеңіз: $\frac{\sin 2\alpha + \cos \alpha}{\cos^2 \alpha + \sin^2 \alpha + 2 \sin \alpha}$, егер $\alpha = -\frac{\pi}{3}$.

- A) $-\frac{\sqrt{3}}{2}$.
- B) $-\frac{1}{2}$.
- C) $\frac{\sqrt{3}}{2}$.
- D) $\frac{1}{2}$.
- E) 1.

15. Шектеусіз геометриялық прогрессияның қосындысы оның бірінші мүшесінен 1,5 есе аз. $\frac{b_{10}}{b_7}$ табыңыз.

- A) 8
- B) -8
- C) $\frac{1}{4}$
- D) $-\frac{1}{8}$
- E) $\frac{1}{8}$

16. Функцияны экстремумға зерттеңіз: $f(x) = 3 + 4x - x^2$.
- A) $x = 2$ - максимум нүкте.
 - B) $x = \frac{3}{4}$ - минимум нүкте.
 - C) $x = -2$ - максимум нүкте.
 - D) $x = -2$ - минимум нүкте.
 - E) $x = 2$ - минимум нүкте.
17. $x(t) = t^4 - t^2 + 5$ (см) заңдылығы бойынша түзу сызық бойымен қозғалатын нүктенің $t = 2$ с болған уақыттағы жылдамдығын табыңыз.
- A) 36 см/с.
 - B) 28 см/с.
 - C) 26 см/с.
 - D) 12 см/с.
 - E) 24 см/с.
18. МКРТ трапециясының табанындағы $\angle M = 45^\circ$; $MK = 6\sqrt{2}$ см, $MT = 10$ см, $KP = 4$ см. Диагоналдар квадраттарының қосындысын табыңыз.
- A) 428 см^2
 - B) 675 см^2
 - C) 312 см^2
 - D) 188 см^2
 - E) 92 см^2

19. ABCD төртбұрыштың төбелері берілген: A(1;1), B(2;3), C(5;0), D(7;-5).

Төртбұрыштың түрін анықтаңыз.

A) Трапеция.

B) Тіктөртбұрыш.

C) Параллелограмм.

D) Ромб.

E) Квадрат.

20. Теңдеуді шешіңіз: $x - 0,2 = x\sqrt{2} + 0,8$

A) $1 - \sqrt{2}$.

B) $-\sqrt{2} - 1$.

C) $\sqrt{2} + 1$.

D) $\frac{1}{\sqrt{2} - 1}$.

E) $\frac{1}{1 + \sqrt{2}}$.

21. Есептеңіз: $\text{tg}20^\circ \cdot \text{tg}40^\circ \cdot \text{tg}60^\circ \cdot \text{tg}80^\circ$.

A) 4.

B) 2.

C) 1.

D) -3.

E) 3.

22. Теңсіздікті шешіңіз: $\cos 2x + 5 \cos x + 3 \geq 0$

A) $\left[-\frac{\pi}{6} + 2\pi n; \frac{\pi}{6} + 2\pi n\right], n \in \mathbb{Z}$

B) $\left[-\frac{2\pi}{3} + 2\pi n; \frac{2\pi}{3} + 2\pi n\right], n \in \mathbb{Z}$

C) $\left[-\frac{\pi}{3} + 2\pi n; \frac{\pi}{3} + 2\pi n\right], n \in \mathbb{Z}$

D) $\left[-\frac{3\pi}{4} + 2\pi n; \frac{3\pi}{4} + 2\pi n\right], n \in \mathbb{Z}$

E) $\left[-\frac{\pi}{4} + 2\pi n; \frac{\pi}{4} + 2\pi n\right], n \in \mathbb{Z}$

23. Есептеңіз: $\int_{\frac{\pi}{4}}^{\frac{3\pi}{4}} \frac{dx}{\cos^2 x}$

A) 1

B) $\frac{1}{2}$

C) 2

D) -2

E) -1

24. α және β жазықтықтары s түзуі бойымен 60° бұрыш жасап қиылысқан. A нүктесі α жазықтығында жатыр және β жазықтығынан 10 см қашықтықта орналасқан. A нүктесінен s түзуіне дейінгі арақашықтық неге тең?

A) $10\sqrt{2}$ см

B) 10 см

C) $\frac{20}{\sqrt{3}}$ см

D) $10\sqrt{3}$ см

E) 20 см

25. Табан қабырғалары 6 см, 8 см, 10 см, ал биіктігі 8 см үшбұрышты тік призма берілген. Толық бетінің ауданын табыңыз.

A) 240 см^2 .

B) 248 см^2 .

C) 232 см^2 .

D) 216 см^2 .

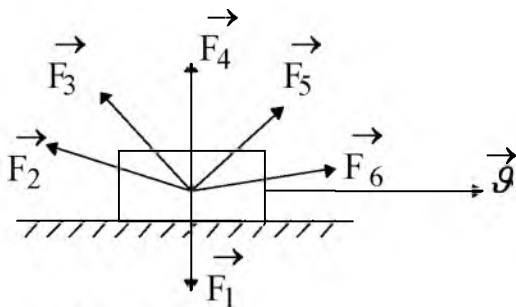
E) 224 см^2 .

МАТЕМАТИКА
ПӘНІНЕН СЫНАҚ БІТТІ

ФИЗИКА

- Велосипедшінің жылдамдығы 10 м/с, ал қарсы желдің жылдамдығы 6 м/с. Велосипедшімен салыстырғандағы желдің жылдамдығы
 - 4 м/с.
 - 10 м/с.
 - 4 м/с.
 - 16 м/с.
 - 6 м/с.
- Массасы 4 кг дененің 2 Н күш әсерінен алатын үдеуі
 - 2 м/с.
 - 1 м/с.
 - 0,5 м/с².
 - 1,5 м/с².
 - 2,5 м/с².

- Суретте түсірілген күштердің әсерінен \vec{g} жылдамдықпен қозғалатын дененің қозғалыс бағыты көрсетілген. Мұндағы оң жұмыс атқаратын күштер



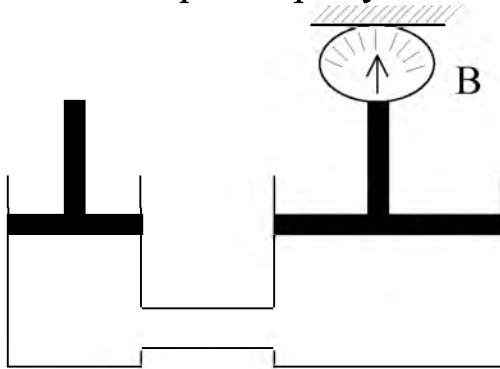
- \vec{F}_2, \vec{F}_6
 - \vec{F}_2, \vec{F}_3
 - \vec{F}_3, \vec{F}_5
 - \vec{F}_5, \vec{F}_6
 - \vec{F}_1, \vec{F}_4
- Ток күшінің өлшем бірлігі
 - Вольт.
 - Ватт.
 - Ом.
 - Джоуль.
 - Ампер.

5. Қалта фонарына арналған шамда “3,5 В; 0,2 А” деп жазылған. 5 мин жұмыс режимінде шамнан өткен токтың атқаратын жұмысы
- A) 200 Дж
 - B) 400 Дж
 - C) 210 Дж
 - D) 700 Дж
 - E) 350 Дж
6. Өзінің магнит өрісі арқылы индукциялық ток
- A) электр өрісін туғызады.
 - B) электр зарядына әсер етеді.
 - C) элементар бөлшектерді үдетеді.
 - D) магнит ағынын арттырады.
 - E) өзін туғызатын магнит ағынының өзгерісіне қарсы әсер етеді.
7. Жиілігі 24 Гц маятниктің 5 с ішінде жасаған тербеліс саны
- A) 118.
 - B) 105.
 - C) 155.
 - D) 120.
 - E) 132.
8. Ақ түсті экранда жасыл шаршының суреті салынған. Бақылаушы оған қызыл шыны арқылы қарағанда, көрінетін сурет
- A) Қызыл фонда қара шаршы.
 - B) Қызыл фонда жасыл шаршы.
 - C) Қызыл фонда қызыл шаршы.
 - D) Жасыл фонда қара шаршы.
 - E) Қызыл фонда көк шаршы.
9. α -, β - және γ - сәуле шығаруларының магнит және электр өрісінде ауытқымайтыны
- A) үшеуі де бірдей ауытқиды.
 - B) β – сәулесі.
 - C) γ – сәулесі.
 - D) үшеуі де әр түрлі дәрежеде ауытқиды.
 - E) α – сәулесі.
10. Куб пішінді дененің суға батып тұрған бөлігінің көлемі оның толық көлемінен 3 есе кем. Дене тығыздығының су тығыздығына қатынасы $\rho/\rho_{\text{су}}$
- A) $\frac{1}{9}$.
 - B) $\frac{1}{3}$.
 - C) 9.
 - D) 3.
 - E) $\frac{1}{4}$.

11. Дененің жылдамдығын 2 есе кемітіп, массасын 2 есе арттырғанда кинетикалық энергия
- A) 4 есе артады
 - B) 2 есе артады
 - C) 4 есе кемиді
 - D) 2 есе кемиді
 - E) өзгермейді
12. Тістеуікпен шегені бұрап сындыруға болады. Тістеуіктің айналу осінен шегеге дейінгі ара қашықтық 2 см, ал қолдың күш түсірген нүктесіне дейінгі ара қашықтық 16 см. Қол тістеуікті 200 Н күшпен қысса, шегеге әсер ететін күш
- A) 3,6 кН.
 - B) 2,6 кН.
 - C) 1,9 кН.
 - D) 1,6 кН.
 - E) 1,2 кН.
13. Қалыпты жағдайдағы ауаның тығыздығы $\rho = 1,29 \text{ кг/м}^3$. ($p_0 = 100 \text{ кПа}$; $T_0 = 273 \text{ К}$; $R = 8,31 \frac{\text{Дж}}{\text{моль} \cdot \text{К}}$). Ауаның молярлық массасын анықта
- A) $M = 29 \cdot 10^3 \text{ кг/моль}$.
 - B) $M = 2,9 \cdot 10^3 \text{ кг/моль}$.
 - C) $M = 0,29 \cdot 10^3 \text{ кг/моль}$.
 - D) $M = 2,9 \cdot 10^{-3} \text{ кг/моль}$.
 - E) $M = 29 \cdot 10^{-3} \text{ кг/моль}$.
14. Адиабаталық ұлғаюда идеал газ А жұмыс жасайды. Сонда орындалатын теңдік
- A) $Q=0, \Delta U=A$.
 - B) $Q=A, \Delta U=0$.
 - C) $Q=-A, \Delta U=0$.
 - D) $Q=0, \Delta U=-A$.
 - E) $Q=0, \Delta U=0$.
15. Электрон үдетуші өрісте потенциалы 200 В нүктеден потенциалы 300 В нүктеге орнын ауыстырды. Бастапқы жылдамдығы нөлге тең болса, электронның соңғы жылдамдығы ($e = 1,6 \cdot 10^{-19} \text{ Кл}$; $m_e = 9,1 \cdot 10^{-31} \text{ кг}$)
- A) $\approx 6,9 \cdot 10^6 \text{ м/с}$.
 - B) $\approx 5,9 \cdot 10^6 \text{ м/с}$.
 - C) $\approx 8,9 \cdot 10^6 \text{ м/с}$.
 - D) $\approx 7,9 \cdot 10^6 \text{ м/с}$.
 - E) $\approx 9,9 \cdot 10^6 \text{ м/с}$.

16. Бойынан 3 А ток өтетін, ұзындығы 30 см өткізгішке индукциясы 20 мТл магнит өрісі 9 мН күшпен әсер етеді. Магнит индукция векторы мен ток бағыты арасындағы бұрыш
- A) 0.
 - B) 60° .
 - C) 45° .
 - D) 90° .
 - E) 30° .
17. Математикалық маятниктің тербеліс амплитудасы 10 см. Максимал жылдамдығы 0,5 м/с. Маятниктің жібінің ұзындығы ($g = 10 \text{ м/с}^2$)
- A) 2 м.
 - B) 0,2 м.
 - C) 4 м.
 - D) 0,5 м.
 - E) 0,4 м.
18. Зарядтың тербеліс теңдеуі: $q=10^{-3} \cdot \cos(2\pi t + \frac{\pi}{3})$ болса, ток күшінің теңдеуі
- A) $I = 2\pi \cos(2\pi t + \frac{\pi}{3})$.
 - B) $I = -2\pi 10^{-3} \sin(2\pi t + \frac{\pi}{3})$.
 - C) $I = -2\pi 10^{-3} \cos(2\pi t + \frac{\pi}{3})$.
 - D) $I = 2\pi 10^{-3} \sin(2\pi t + \frac{\pi}{3})$.
 - E) $I = 2\pi 10^{-3} \cos(2\pi t + \frac{\pi}{3})$.
19. Жылдамдығы 0,8·с-ке тең болатын протонның массасы (протонның тыныштық массасы $1,67 \cdot 10^{-27}$ кг)
- A) $2,8 \cdot 10^{-26}$ кг.
 - B) $2,8 \cdot 10^{-24}$ кг.
 - C) $2,8 \cdot 10^{-25}$ кг.
 - D) $2,8 \cdot 10^{-28}$ кг.
 - E) $2,8 \cdot 10^{-27}$ кг.
20. Реактивтік ұшақ 720 км/сағ жылдамдықпен ұшып келеді. Бір мезеттен бастап, ұшақ 10 с бойы үдей қозғалып, соңғы секундта 295 м жол жүреді. Ұшақтың соңғы жылдамдығы
- A) 400 м/с.
 - B) 300 м/с.
 - C) 600 м/с.
 - D) 500 м/с.
 - E) 200 м/с.

21. Гидравликалық машинадағы қысым 400 кПа. Кіші поршеньге 200 Н күш әсер етеді. Үлкен поршеннің ауданы 400 см^2 . Үлкен поршень қысқан динамометрдің көрсетуі және кіші поршеннің ауданы



- A) 15 кН; 4 см^2 .
 B) 18 кН; 7 см^2 .
 C) 19 кН; 8 см^2 .
 D) 16 кН; 5 см^2 .
 E) 17 кН; 6 см^2 .
22. Дене бастапқы жылдамдықсыз h биіктіктен еркін құлады. $0,5h$ биіктіктегі дененің жылдамдығы
- A) $\vartheta = gh$.
 B) $\vartheta = 0,5gh$.
 C) $\vartheta = \sqrt{gh}$.
 D) $\vartheta = 2gh$.
 E) $\vartheta = 5gh$.
23. 100°C температурадағы 100 кг буды, 0°C температурадағы масасы 1 т су арқылы жібергендегі судың соңғы температурасы ($c_{\text{су}} = 4200 \text{ Дж/кг}\cdot\text{K}$; $r_{\text{су}} = 23 \cdot 10^5 \text{ Дж/кг}$)
- A) 63°C
 B) 50°C
 C) 60°C
 D) 65°C
 E) 55°C
24. Идеал жылу машинасында қыздырғыштан алынатын әр килоджоуль энергия есебінен, 300 Дж жұмыс атқарылады. Егер тоңазытқыш температурасы 280 К болса, машинаның ПӘК-і мен қыздырғыштың температурасы
- A) 3 %; 400 К
 B) 30 %; 4000 К
 C) 30 %; 40 К
 D) 3 %; 4 К
 E) 30 %; 400 К

25. Егер зарядтардың ара қашықтығын 2 есе кемітсе, q_1 және q_2 зарядтардың әсерлесуінің потенциалдық энергиясы
- A) 4 есе артады
 - B) 4 есе кемиді
 - C) 2 есе артады
 - D) 8 есе артады
 - E) 2 есе кемиді

ФИЗИКА
ПӘНІНЕН СЫНАҚ БІТТІ

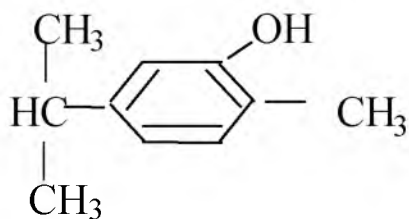
ХИМИЯ

1. Мольдік массаның өлшемі:
 - A) л/моль.
 - B) г/моль.
 - C) моль.
 - D) г/мл.
 - E) г.
2. Азот пен күкірт орналасқан топтардың нөмірлері:
 - A) V, IV
 - B) V, VI
 - C) V, VII
 - D) V, III
 - E) V, VIII
3. Әлсіз электролит
 - A) HNO_3
 - B) NaOH
 - C) H_2CO_3
 - D) HCl
 - E) H_2SO_4
4. Сутек атомының санына байланысты күкіртті қышқыл
 - A) оттексіз қышқыл.
 - B) үш негізгі қышқыл.
 - C) екі негізгі қышқыл.
 - D) оттекті қышқыл.
 - E) бір негізгі қышқыл.
5. Ас тұзы құрамында болатын сілтілік металл
 - A) Fr
 - B) Rb
 - C) Na
 - D) K
 - E) Li
6. Органикалық қосылыстардағы көміртек атомдарының арасындағы химиялық байланысының түрі...
 - A) ковалентті полюсті
 - B) металдық
 - C) ковалентті полюссіз
 - D) иондық
 - E) сутектік

7. Бензол молекуласында көміртегі атомдарының гибридтелген күйі
- A) sp
 - B) sp-s
 - C) sp²
 - D) sp³
 - E) sp, sp³
8. Күшті қышқылдың формуласы
- A) CH₃ - COOH.
 - B) CH₂(I) - COOH.
 - C) CH₃ - CH₂ - COOH.
 - D) CH(Cl)₂ - COOH.
 - E) CH₂(Br) - COOH.
9. Газ толтырылған пластик:
- A) Целлулоид.
 - B) Аминопластар.
 - C) Пенопластар.
 - D) Силикон.
 - E) Фенопластар.
10. $C_2H_4 + 3O_2 = 2CO_2 + 2H_2O$ реакциядағы оттектің концентрациясын 3 есе азайтқанда реакция жылдамдығы ...
- A) 27 есе кемиді.
 - B) 3 есе кемиді.
 - C) 27 есе артады.
 - D) 3 есе артады.
 - E) 9 есе кемиді.
11. Тотығу-тотықсыздану реакцияларында сутек пероксиді
- A) үнемі тотықтырғыш
 - B) тотықтырғыш және тотықсыздандырғыш
 - C) тотықтырғыш та, тотықсыздандырғыш та емес
 - D) үнемі тотықсыздандырғыш
 - E) Тотығу дәрежесін өзгертпейді
12. Өзгерістер тізбегінде $CrO \rightarrow Cr_2O_3 \rightarrow CrO_3$ оттегі массалық үлестерінің өзгеруі
- A) 48% → 25% → 34%
 - B) 23,5% → 31,6% → 48%
 - C) 48% → 31,6% → 23,5%
 - D) 76,5% → 68,4% → 52%
 - E) 34% → 52% → 60%

13. Күн сәулесі қатысында жүргізгенде сутек пен хлордың әрекеттесу реакциясының бірінші сатысы:
- A) $\text{Cl}_2 \rightarrow \text{Cl}^+ + \text{Cl}^-$
 - B) $\text{Cl}_2 \rightarrow \text{Cl}\cdot + \text{Cl}\cdot$
 - C) $\text{H}_2 + \text{Cl}_2 \rightarrow \text{HCl} + \text{HCl}$
 - D) $\text{H}_2 \rightarrow \text{H}^+ + \text{H}^-$
 - E) $\text{H}_2 \rightarrow \text{H}\cdot + \text{H}\cdot$
14. Күкірт (VI) оксиді мен натрий гидроксиді әрекеттескендегі (орта тұз түзілсе) толық иондық теңдеудегі барлық коэффициенттер қосындысы
- A) 8
 - B) 6
 - C) 9
 - D) 5
 - E) 7
15. Концентрациялы азот қышқылы мыспен әрекеттескенде бөлінетін зат:
- A) NH_2 .
 - B) NO .
 - C) N_2O .
 - D) NO_2 .
 - E) N_2 .
16. Кальций оксидіне көмір қосып қатты қыздырғанда түзілетін газ
- A) H_2 .
 - B) O_2 .
 - C) N_2 .
 - D) CO_2 .
 - E) CO .
17. Домна пешіне салуға дайындалған шихтаның құрамы
- A) Көмір, темір, кремний оксиді.
 - B) Кокс, кремний оксиді, флюс.
 - C) Флюс, көмір, темір.
 - D) Көмір, ізбес тас, темір.
 - E) Руда, флюс, кокс.
18. Мына қосылыстар берілген: HCl , HNO_3 , H_2O , H_2SO_4 , HBr , Темір (III) оксидімен әрекеттесетін қосылыстар саны:
- A) 2
 - B) 1
 - C) 5
 - D) 4
 - E) 3

19. 95% метаны бар 1 м^3 (қ.ж.) табиғи газды жағу үшін қажет оттектің көлемі:
 А) $0,95 \text{ м}^3$.
 В) $3,8 \text{ м}^3$.
 С) $2,9 \text{ м}^3$.
 D) 3 м^3 .
 E) $1,9 \text{ м}^3$.
20. Белгісіз заттың балқымасы электролизденгенде бром және I топтың негізгі топшасының металы түзілді. Бастапқы заттың құрамындағы металдың массалық үлесі 0,223 болса, осы заттың формуласы және, химиялық байланыстың түрі
 А) сутектік байланыс, RbBr,
 В) иондық байланыс, KBr
 С) иондық байланыс, NaBr
 D) металдық байланыс, CsBr
 E) ковалентті байланыс, LiBr
21. $(\text{NH}_4)_2 \text{Cr}_2\text{O}_7 \xrightarrow{t^\circ} \text{X}_1 \xrightarrow{\text{Pt}, \text{O}_2} \text{X}_2 \xrightarrow{+\text{O}_2} \text{X}_3 \xrightarrow{+\text{NaOH}} \text{X}_4 \xrightarrow{t^\circ} \text{X}_5$
 X_5 затының формуласы
 А) Na_2O
 В) NO_2
 С) NO
 D) NaNO_3
 E) NaNO_2
22. Азот бойынша тығыздығы 2,5-ке тең циклоалканның 14 грамын жаққанда түзілетін көмірқышқыл газының көлемі (қ.ж.)
 А) 179,2 л
 В) 44,8 л
 С) 22,4 л
 D) 11,2 л
 E) 89,6 л
23. Төмендегідей құрылысты фенолдың аты:



- А) 1-гидроксил 5-пропил 2-метил бензол.
 В) 1-гидроксил 3-изопропил 6-метил бензол.
 С) 2-метил 5-изопропил фенол.
 D) 2-метил 3-изопропил фенол.
 E) 1-гидроксил 5-изопропил 2-метил бензол.

24. Құрамында 30% крахмалы бар, картоптың 1 тоннасынан 100л этил спирті ($\rho = 0,88 \text{ г/мл}$) алынса, өнімнің шығымы (%)
- A) 52
 - B) 50
 - C) 40
 - D) 55
 - E) 65
25. 66 г үшброманилин алу үшін концентрациясы 30%, ал тығыздығы $1,02 \text{ г/см}^3$ болатын бром суының қажет көлемі:
- A) 397,3 мл
 - B) 305,3 мл
 - C) 301,3 мл
 - D) 280,7 мл
 - E) 313,7 мл

ХИМИЯ
ПӘНІНЕН СЫНАҚ БІТТІ

БИОЛОГИЯ

1. Гүлсерігін түзеді:
 - A) Тостағанша және күлте жапырақшалары.
 - B) Тек күлте жапырақшалар.
 - C) Күлте жапырақшалары мен гүл табаны.
 - D) Күлте жапырақшалар мен гүл сағағы.
 - E) Тостағанша жапырақшалары мен гүл табаны.
2. Біржасушалы қарапайым жәндік
 - A) Шұбалшаң
 - B) Актиния
 - C) Жасыл эвглена
 - D) Гидра
 - E) Маржан
3. Көзге көрінбейтін тірі ағзалардың құрылысын, қасиеттерін, пайдасы мен зиянын зерттейтін ғылым:
 - A) Биология.
 - B) Микробиология.
 - C) Орнитология.
 - D) Эмбриология.
 - E) Микология.
4. Ұлулардың қозғалу мүшесі
 - A) Аяқ
 - B) Секіру
 - C) Жүзу
 - D) Қозғалып жүру
 - E) Бақалшақ
5. Құйрықты қосмекенділерге жататыны
 - A) Тритон.
 - B) Кәдімгі бақбақыл.
 - C) Құрбақа.
 - D) Жайынауызды тарбақа.
 - E) Бақа.
6. Сезім мүшелер жүйесіне жатпайды.
 - A) Құлақ
 - B) Ішек
 - C) Мұрын
 - D) Тері
 - E) Көз

7. Туберкулез таяқшасының зақымдайтын мүшесі-
 - A) ішектер.
 - B) бауыр.
 - C) өкпе.
 - D) асқазан.
 - E) қантамырлар.
8. Тіршіліктің негізгі жаратылым деңгейлерінің саны.
 - A) 4.
 - B) 6.
 - C) 5.
 - D) 3.
 - E) 7.
9. Табиғи биогеоценоздар -
 - A) Техникамен өңделеді.
 - B) Табиғи сұрыпталудың әсерінен пайда болады.
 - C) Адам арқылы реттеледі.
 - D) Қолдан сұрыптаудың әсерінен пайда болады.
 - E) Адам қатысып өнім алынады.
10. Қазақстанда «Қызыл кітап» тұңғыш рет шықты
 - A) 1978 жылы
 - B) 1996 жылы
 - C) 1968 жылы
 - D) 1981 жылы
 - E) 1967 жылы
11. Тамырдың топырақтан сорып алған минералды тұздарының ерітіндісін жер үсті мүшелеріне жеткізеді
 - A) Жабын
 - B) Өткізгіш
 - C) Негізгі
 - D) Түзуші
 - E) Тірек
12. Түйнек арқылы көбейетін өсімдік:
 - A) Қызғалдақ
 - B) Үйеңкі
 - C) Терек
 - D) Картоп
 - E) Қарағаш
13. Қосмекенділердің жақсы дамыған мидың бөлігі
 - A) Алдыңғы ми
 - B) Сопақша ми
 - C) Аралық ми
 - D) Ортаңғы ми
 - E) Мишық

14. Ішек, қантамыр қабырғаларын құрайтын ұлпа.
- A) Сүйек.
 - B) Май.
 - C) Бірыңғай салалы бұлшықет.
 - D) Көлденең жолақты бұлшықет.
 - E) Жүйке.
15. Буынның шығуы:
- A) буын қалтасы зақымдалса
 - B) сүйек зақымдалмай , сүйектің ойысы зақымдалса
 - C) сүйек басы тайғанда
 - D) қабығы зақымданғанда
 - E) сіңір созылғанда
16. Гемоглобині бар қан жасушалары:
- A) Фагоциттер.
 - B) Лейкоциттер.
 - C) Тромбоциттер.
 - D) Лимфоциттер.
 - E) Эритроциттер.
17. Алкоголь әсерінен болатын бауыр ауруы
- A) цирроз
 - B) бауырсорғы
 - C) туберкулез
 - D) цепень
 - E) лямблиоз
18. Балық бауырында, етінде, жұмыртқада болатын ағзада кальций мен фосфор тұздарының алмасуын реттейтін дәрумен
- A) B₁
 - B) D
 - C) K
 - D) C
 - E) A
19. АТФ синтезі жүреді:
- A) Рибосомада.
 - B) Вакуольда.
 - C) Центриольдарда.
 - D) Митохондрияда.
 - E) Лизосомада.
20. Қанайналым жүйесі бір шеңберлі, жүрегі екі бөлімді жануар
- A) Кесіртке
 - B) Құс
 - C) Балық
 - D) Ит
 - E) Бақа

21. Теріскей, Күнгеі, Іле Алатауында сирек кездесетін ашық тұқымды бұта.
- A) Кәдімгі арша.
 - B) Сауыр ағаш.
 - C) Жатаған шырша.
 - D) Эфедра.
 - E) Зеравшан аршасы.
22. Көкек зығырының спораларынан өсіп шыққан тарамды жасыл жіпшелерден пайда болатын
- A) Аналық, аталық жыныс жасушалары.
 - B) Спорасыз өсімдік.
 - C) Өскінше.
 - D) Споралы қауашақ.
 - E) Қабаттама.
23. Барлық бұлшықет ұлпалары түзіледі:
- A) Эктодермадан
 - B) Энтодермадан
 - C) Эктодерма
 - D) Плазмадан
 - E) Мезодермадан
24. Бір-бірінен екі жұп белгі бойынша ажыратылатын дараларды ... шағылыстыру:
- A) моногибридті.
 - B) толымсыз доминанттылық.
 - C) тіркес тұқымқуалау заңы.
 - D) гаметалар тазалығы ережесі.
 - E) дигибридті.
25. Тірі табиғатты жүйелеуде аса зор еңбек сіңірген
- A) К.Линней
 - B) Ч.Дарвин
 - C) Рулье
 - D) Ф.Энгельс
 - E) Ж.Б.Ламарк

БИОЛОГИЯ
ПӘНІНЕН СЫНАҚ БІТТІ

ГЕОГРАФИЯ

1. Дүние жүзін алғаш рет айналып шыққан саяхатшы:
 - A) X. Колумб
 - B) Васко да Гама
 - C) Ф. Магеллан
 - D) Дж. Кук
 - E) Н. М. Пржевальский
2. Планадағы биіктіктері бірдей нүктелерді қосатын сызықтар
 - A) масштабтар
 - B) горизонтальдар
 - C) қикжиектер
 - D) бойлықтар
 - E) ендіктер
3. Не қыраты, не ойпаты жоқ жазық ... деп аталады.
 - A) тегіс.
 - B) түзу.
 - C) қырат.
 - D) төмен.
 - E) біркелкі.
4. Аумақты қамтуына байланысты дүние жүзінің физикалық картасы ... карталардың тобына жатады.
 - A) Топографиялық.
 - B) Материктер мен мұхиттар, және олардың бөліктері.
 - C) Дүние жүзілік.
 - D) Мемлекеттік және оның бөліктері.
 - E) Тақырыптық.
5. Қазақстанның көлемі:
 - A) 1563,9 мың км
 - B) 17 млн. км
 - C) 600 мың км
 - D) 1450,9 мың км
 - E) 2724,9 мың км
6. Қазақстандағы маңызы жөнінен бірінші көмір бассейні.
 - A) Қарағанды.
 - B) Ірі кен орындары немесе бассейндер Қазақстанда жоқ.
 - C) Торғай.
 - D) Екібастұз.
 - E) Майкүбі.

7. Торғай үстірті ... жазығының құрамына кіреді
 - A) Тұран
 - B) Каспий маңы ойпаты
 - C) Шығыс Еуропа
 - D) Сарыарқа
 - E) Батыс Сібір
8. Сарқылмайтын табиғат ресурсы
 - A) жер ресурсы
 - B) топырақ ресурсы
 - C) су ресурсы
 - D) минералды ресурсы
 - E) климаттық ресурсы
9. Семей қаласындағы Ертіс көпірін салуға несие бөлген ел
 - A) Оңтүстік Корея
 - B) Сингапур
 - C) Малайзия
 - D) Жапония
 - E) Қытай
10. Мүк пен қына, бұта өсетін мәңгі тоң таралған жерлер:
 - A) Тундра
 - B) Орман
 - C) Тайга
 - D) Шөлейт
 - E) Дала
11. Аустралияның егістіктері мен ормандарын отап тоздырған жануарлар
 - A) Тышқандар
 - B) Үй қояндары
 - C) Егеуқұйрықтар
 - D) Түлкілер
 - E) Динго иті
12. Топырақтың эрозияға ұшырау жолы:
 - A) 2.
 - B) 7.
 - C) 3.
 - D) 5.
 - E) 6.
13. Шөл зонасындағы қорық.
 - A) Наурызым.
 - B) Үстірт.
 - C) Марқакөл.
 - D) Ақсу-Жабағылы.
 - E) Алматы.

14. Шикізатты көп қажет ететін тамақ өнеркәсібі саласы:
- A) Темекі, май шайқау.
 - B) Май шайқау, қант өнеркәсібі.
 - C) Ет, нан пісіру.
 - D) Спирт, сыра қайнату.
 - E) Макарон, кондитер.
15. Орталық Қазақстанда дамыған мал шаруашылығы
- A) Жылқы шаруашылығы.
 - B) Қой шаруашылығы.
 - C) Мүйізді ірі қара мал өсіру.
 - D) Түйе шаруашылығы.
 - E) Балық шаруашылығы.
16. Қала халқының үлес салмағының өсуі.
- A) Субурбандалу.
 - B) Урбандалу.
 - C) Миграция.
 - D) Жалған урбандалу.
 - E) Табиғи өсу.
17. Гибралтар бұғазы ... материктері арасында орналасқан.
- A) Африка және Еуразия.
 - B) Солтүстік Америка және Еуразия.
 - C) Солтүстік және Оңтүстік Америка.
 - D) Африка және Австралия.
 - E) Еуразия және Австралия.
18. Молдовада қант шығаратын зауыт бар қала:
- A) Бендеры
 - B) Кишинев
 - C) Тирасполь
 - D) Кагул
 - E) Рыбницы
19. Оңтүстік Еуропа елдерінің басты ауыл шаруашылық саласы.
- A) Жүзім шаруашылығы.
 - B) Жібек шаруашылығы.
 - C) Мақта.
 - D) Қой шаруашылығы.
 - E) Дәнді дақыл.
20. Географиялық қабықтың тұтастығы:
- A) Гидросферадағы су айналымы
 - B) Атмосферадағы ауа айналымы
 - C) Күн қуаты мен Жердің ішкі қуаты
 - D) Литосферадағы зат және қуат алмасуы
 - E) Құрамдас бөліктерінің өзара байланысы мен тәуелділігі

21. Африка материгінде биік, әрі ұзын тау тізбектерінің болмау себебі:
- A) Геосинклинальды аймақта орналасқан
 - B) Ежелгі платформада орналасқан
 - C) Экватор матерікті ортасынан қиып өтеді
 - D) Жауын-шашын көп жауады
 - E) Жер сілкіністерден
22. Шөлейт зонасының негізгі топырағы
- A) Қара
 - B) Қоңыр
 - C) Қызыл қоңыр
 - D) Қызғылт
 - E) Ашық қара қоңыр
23. Синтетикалық каучук шығаратын қала:
- A) Ақтөбе
 - B) Теміртау
 - C) Қостанай
 - D) Шымкент
 - E) Павлодар
24. Ең ірі агломерация:
- A) Буэнос-Айрес.
 - B) Мехико.
 - C) Дели.
 - D) Рио-де-Жанейро.
 - E) Гавана.
25. Нілде егістікті суару үшін Асуан бөгеті ... мемлекетінде салынған
- A) Либия
 - B) Тунис
 - C) Эфиопия
 - D) Египет
 - E) Уганда

ГЕОГРАФИЯ
ПӘНІНЕН СЫНАҚ БІТТІ

ДҮНИЕ ЖҮЗІ ТАРИХЫ

1. Израил-иудей мемлекеті құрылған аймақ:
 - A) Вавилон
 - B) Синай түбегі
 - C) Египет жері
 - D) Кипр аралы
 - E) Палестина жері
2. Ислам діні жолында Мекке қаласында өзіне қолдау таппаған Мұхаммед пайғамбардың паналаған араб қаласы:
 - A) Жидда.
 - B) Неджран.
 - C) Дамаск.
 - D) Таиф.
 - E) Медине.
3. «Манас» поэмасын тұңғыш хатқа түсірген қазақ ғалымы:
 - A) Ы.Алтынсарин
 - B) А.Құнанбаев
 - C) Ә.Марғұлан
 - D) Ш.Уәлиханов
 - E) Е.Бөкетов
4. Польшаның ұлы ғалымы Николай Коперниктің ашқан ірі ғылыми жаңалығы:
 - A) Жер және басқа планеталардың Күнді айналуын ашты.
 - B) Ұшу аппаратын жасады.
 - C) Жердің тартылыс күшін ашты.
 - D) Марс планетасын ашты.
 - E) Телескопты ойлап тапты.
5. 1914 жылғы бірінші дүниежүзілік соғыс өртін тұтандырған мемлекеттер:
 - A) Ресей мен Англия.
 - B) АҚШ пен Жапония.
 - C) Германия мен Австро-Венгрия.
 - D) Франция мен Түркия.
 - E) Италия мен Германия.
6. 1921 ж. сәуір Қытай Республикасының президенті болып жарияланды:
 - A) Сунь Ятсен.
 - B) Кан Ювей.
 - C) Чан Кайши.
 - D) Дэн Сяопин.
 - E) Мао Цзедун.

7. Кеңес елінің Ұлы Отан соғысындағы адам шығыны шамамен:
- A) 15 млн.
 - B) 20 млн.
 - C) 13 млн.
 - D) 25 млн.
 - E) 10 млн.
8. IV бесжылдықтың (1946-1950 ж.ж.) негізгі экономикалық міндеті:
- A) Кейбір экономикалық көрсеткіштер бойынша АҚШ-ты басып озу.
 - B) Қираған халық шаруашылығын қалпына келтіру.
 - C) Халық шаруашылығын одан әрі дамыту.
 - D) Тың жерлерді игеру.
 - E) Өнеркәсіп орындарын жаңа технологиямен қайта жабдықтау.
9. 1958 жылы Қытай Коммунистік партиясы жариялаған экономикалық бағыт:
- A) «Қытай мүмкіндігі»
 - B) «Зор секіріс»
 - C) «Жеделдету»
 - D) «Зор мүмкіндіктер»
 - E) «Қайта құру»
10. Б.з.б. 2200 ж. Аккад мемлекетіне шабуыл жасай бастаған «тау аждаһалары»:
- A) сириялықтар
 - B) бәдәуилер
 - C) шумерлер
 - D) либиялықтар
 - E) гутейліктер
11. Рим империясының әлсірей бастауының негізгі себептерінің бірі:
- A) Құлдар санының азаюы.
 - B) Жерінің құнарсыздығы.
 - C) Аумағының өте үлкен болуы.
 - D) Құлдар еңбегінің тиімсіздігі.
 - E) Өндіріс құралдарының ескіруі.
12. Германияда 1356 ж. «Алтын булла» жарлығын шығарған император:
- A) II Карл.
 - B) IV Карл.
 - C) I Карл.
 - D) III Карл.
 - E) V Карл.
13. 1815 ж. «Қасиетті одақты» ұйымдастыруды ұсынған мемлекет:
- A) Ресей.
 - B) Швеция.
 - C) Пруссия.
 - D) Англия.
 - E) Австрия.

14. 1678 жылы Жоңғар қонтайшысы Қалдан Бошоктың басып алған өлкесі:
- A) Моғолстан.
 - B) Тұрфан.
 - C) Қашқар.
 - D) Таулы Алтай.
 - E) Тибет.
15. XIX ғ. ортасында Италияда біртұтас ұлттық мемлекет құру жөнінде нақты жоспар ұсынған граф:
- A) Камилло Бенсо Кавур
 - B) Джузеппе Мадзани
 - C) Иосиф Радецки
 - D) Джузеппе Гарибальди
 - E) Карл Альберт
16. А. Линкольнның АҚШ президенті болып сайланған жылы:
- A) 1870 ж.
 - B) 1854 ж.
 - C) 1841 ж.
 - D) 1878 ж.
 - E) 1860 ж.
17. 1839 ж. Түркия тарихында басталған жаңа реформалық кезең:
- A) «Зор секіріс»
 - B) «Жаңа бағыт»
 - C) «Жаңа белес»
 - D) «Танзимат»
 - E) «Кемализм»
18. Франция мен Англияны байланыстыратын теміржол туннелі іске қосылған аймақ:
- A) Швейцария
 - B) Ла Манш бұғазы
 - C) Бискай шығанағы
 - D) Симплон
 - E) Альпі
19. Ұлыбританияның 1952 жылдан бергі мемлекет басшысын атаңыз:
- A) Г.Браун.
 - B) Чарльз Уэльский.
 - C) I Хуан Карлас.
 - D) VI Гёрг.
 - E) II Елизавета.
20. Ежелгі Грекияда театрдың пайда болу себебі:
- A) Дионис құдайдың құрметіне арналған ойын-сауықпен
 - B) теңіз сапарына шығар кезде Посейдон құдайының көңілін көтеруден
 - C) өзара соғысты тоқтату үшін ынтымақ мерекесін өткізуден
 - D) ойын-сауық кезінде жазушылар мен ақындардың өз шығармаларын халыққа оқып беруден
 - E) Зевс құдайының құрметіне олимпиялық ойындарды өткізуден

21. Англиядағы өнеркәсіп төңкерісінің мәні:
- A) Тауарлы өндірістің мануфактуралы өндіріске көшуі.
 - B) Натуралды шаруашылықтың өндірісті шаруашылыққа өтуі.
 - C) Машиналы фабрикалық жүйенің пайда болуы.
 - D) Ұсақ тауарлы өндірістің дамуы.
 - E) Мануфактуралы өндірістің дамуы.
22. 1872 ж. Иранда 70 жыл мерзімге мұнай мен табиғи байлықтарды игеруге тиімді концессия алған ағылшын капиталисі:
- A) Майкл Дэвит
 - B) Ю. Рейтер
 - C) Армстронг
 - D) Виккерс
 - E) С.Родс
23. XVIII ғасырдағы шотландық экономист Адам Смит өзінің экономикалық теориясын баяндаған кітабы:
- A) «Әлемнің басты жүйелері туралы диалог».
 - B) «Халық байлығы».
 - C) «Өзгермелі шамалар».
 - D) «Еркін сауда принципі».
 - E) «Жаңа Атлантида».
24. Түркияның Ұлттар Лигасына мүшелікке өткен жылы:
- A) 1935
 - B) 1932
 - C) 1933
 - D) 1930
 - E) 1931
25. Еуропалық одақ елдерінің 1999 жылдың 1 қаңтарынан бастап жүргізген іс-шарасы:
- A) Долларға тиым салу.
 - B) Біртұтас ақша жүйесі Евро-ға көшу.
 - C) Кедендік қатынасты реттеу.
 - D) Жекелей емес есеп айырысуға көшу.
 - E) Біртұтас ақша жүйесі ЭКЮ-ге көшу.

**ДҮНИЕ ЖҰЗІ ТАРИХЫ
ПӘНІНЕН СЫНАҚ БІТТІ**

ҚАЗАҚ ӘДЕБИЕТІ

1. Туған жер, Отан тақырыбына жазылған мақалды табыңыз.
 - A) Отан оттан да ыстық.
 - B) Өжет адам өлімді жеңеді.
 - C) Еңбегі аздың өнбегі аз.
 - D) Ырыс алды - ынтымақ.
 - E) Бейнетсіз рахат жоқ.
2. XVIII ғасырда өмір сүріп, Тәуке, Абылай хандарға кеңесші болған қай жырау екенін белгілеңіз.
 - A) Бұқар.
 - B) Шалкиіз.
 - C) Ақтамберді.
 - D) Доспамбет.
 - E) Қазтуған.
3. Махамбет Өтемісұлының туған жерін табыңыз.
 - A) Атырау облысы
 - B) Батыс Қазақстан облысы
 - C) Алматы облысы
 - D) Қызылорда облысы
 - E) Ақмола облысы
4. Абайдың өлеңін көрсетіңіз.
 - A) "Өзен".
 - B) "Жазғытұры".
 - C) "Арғымаққа оқ тиді".
 - D) "Әкеме".
 - E) "Өнер-білім бар жұрттар".
5. Абайдың поэмасын анықтаңыз.
 - A) «Масғұт».
 - B) «Батыр Баян».
 - C) «Көкшетау».
 - D) «Сұлушаш».
 - E) «Құлагер».
6. Өлеңнің әрбір жолы қалай аталатындығын көрсетіңіз.
 - A) Ұйқас.
 - B) Тармақ.
 - C) Ырғақ.
 - D) Бунақ.
 - E) Буын.

7. *Қалқам, мен Лермонтов, Пушкин де емен,
Есенинмін демедім ешкімге мен.
Қазақтың қара өлеңі – құдіретім,
Онда бір сұмдық сыр бар естілмеген,* - деген үзінді Мұқағалидың қай өлеңінен екенін белгілеңіз.
- A) «Қара өлең».
 - B) «Мен таулықпын».
 - C) «Анау – аспан, мынау – бақ».
 - D) «Поэзия».
 - E) «Фантазия».
8. Ж.Молдағалиевтің ақындық даңқын көтеріп, есімін әлемге мойындатқан шығармасын көрсетіңіз.
- A) «Жесір тағдыры».
 - B) «Мен-қазақпын».
 - C) «Сел».
 - D) «Аққу».
 - E) «Қыран дала».
9. "Аласапыран" романының авторын табыңыз.
- A) Найманбаев.
 - B) Жұмаділов.
 - C) Мағауин.
 - D) Есенберлин.
 - E) Бөкеев.
10. *Бәрідей жұрт ұсылып,
Айқаймен жаза жыртысып,
Өкірген үнін өшіртіп, жылаған көзден жас өрер,* - деген үзінді алынған жырды белгілеңіз.
- A) «Тоныкөк» жыры
 - B) «Оғыз қаған жыры»
 - C) «Қорқыт ата кітабы»
 - D) «Күлтегін» жыры
 - E) «Алып-Ер Тұңғаны жоқтау»
11. Ер Тарғынның әке-шешесі кімдер екенін табыңыз.
- A) Саржан-Айсұлу.
 - B) Әке-шешесі жоқ, қайтыс боп кеткен.
 - C) Байбөрі-Аналық.
 - D) Тоқтарбай-Аналық.
 - E) Байсары-Алтыншаш.
12. І.Жансүгіров суреттейтін тұлпардың атын белгілеңіз.
- A) Тарлан.
 - B) Көктүйғын.
 - C) Байшұбар.
 - D) Құлагер.
 - E) Қарақасқа.

13. «Еңлік-Кебек» поэмасының немен аяқталғанын көрсетіңіз.
- A) Армандарына жетеді.
 - B) Екі жас қосылады.
 - C) Жер ауып кетеді.
 - D) Бірге қаза табады.
 - E) Аяқталмаған.
14. Абдолла Жұмағалиевтің бейнесін сомдаған ақынды табыңыз.
- A) Қ.Мырзалиев.
 - B) Ж.Молдағалиев.
 - C) А.Байтұрсынов
 - D) О.Сүлейменов.
 - E) Қ.Аманжолов.
15. Жамбыл Жабаев туралы:
- ”Жетісу ақындарының алтын діңгегі”, - деп кім айтқанын анықтаңыз.
- A) М.Әуезов.
 - B) С.Мұқанов.
 - C) Ә.Тәжібаев.
 - D) І.Жансүгіров.
 - E) С.Мәуленов.
16. *«Оқуға ұғымды, ерекше талапты момын қара бала болашақ заманның белгісіз бір жарығына осы абақты ішінде сенген көңілмен күн санап ер жетіп келе жатты»*. М.Әуезовтің осылай аяқталатын туындысын табыңыз.
- A) «Қараш-Қараш оқиғасы».
 - B) «Түнгі сарын».
 - C) «Шатқалаң».
 - D) «Намыс гвардиясы».
 - E) «Қилы заман».
17. М. Әуезовтің ұлт-азаттық қозғалыс тақырыбына арналған пьесасын көрсетіңіз.
- A) “Тас түлек”
 - B) “Түнгі сарын”
 - C) “Шекарада”
 - D) “Сын сағатта”
 - E) “Алма бағында”
18. Сатығұл, Егізек, піркәншік Дәулетбек деген кейіпкерлері бар F.Мүсірепов әңгімесін атаңыз.
- A) «Талпақ танау».
 - B) «Шұғыла».
 - C) «Азамат Азаматыч».
 - D) «Қос Шалқар».
 - E) «Берен».

19. Классикалық әдебиет деген ұғымның анықтамасын көрсетіңіз.
- A) Үлгілі, кемелденген, жоғары сапалы деген ұғым.
 - B) Модаға айналған, бірақ көркемдігі төмен туынды.
 - C) Әдебиеттану ғылымында орын алған салыстырмалы әдіс.
 - D) Халық жыршыларының шығармалары.
 - E) Әдеби шығармалардың құрылысы деген сөз.
20. Ж. Аймауытовтың «Ақбілек» романындағы Ақбілектің жарының есімін табыңыз:
- A) Бекболат.
 - B) Мамырбай.
 - C) Мұқаш.
 - D) Төлеген.
 - E) Балташ.
21. “Серке” газетіне “Арғын” деген бүркеншік атпен “Біздің мақсатымыз” атты мақала жазған жазушыны анықтаңыз.
- A) А. Байтұрсынов.
 - B) М. Жұмабаев.
 - C) М. Дулатов.
 - D) Ж. Аймауытов.
 - E) С. Торайғыров.
22. С.Сейфуллин шығармашылығының жаңа күрт бетбұрыс басы болған туындысын белгілеңіз.
- A) «Қазақ сабағы».
 - B) «Мұра».
 - C) «Асығып тез аттандық».
 - D) «Надан бай».
 - E) «Інішегіме».
23. І.Жансүгіровтің «Жетісу суреттері» өлеңінің бірінші тарауы қалай аталатынын белгілеңіз.
- A) Жетісу суреті.
 - B) Жетісудағы су суреті.
 - C) Жалпы сын.
 - D) Тау суреті.
 - E) Жер түгі.
24. Мұхтар Әуезов әкесі қайтыс болған соң кімнің тәрбиесінде болғанын табыңыз.
- A) Нағашысы.
 - B) Немере ағасы Қасымбек.
 - C) Анасы.
 - D) Әжесі.
 - E) Аталас туысы.

25. С. Мұқановтың «роман» деп аталатын поэмасын табыңыз.
- A) «Өмір мектебі».
 - B) «Октябрь өткелдері».
 - C) «Ботагөз».
 - D) «Сұлушаш».
 - E) «Ақ аю».

**ҚАЗАҚ ӘДЕБИЕТІ
ПӘНІНЕН СЫНАҚ БІТТІ**

АҒЫЛШЫН ТІЛІ

1. «I» әріпі бірінші буындағы түрде тұр
A) fix
B) girl
C) silent
D) trip
E) third
2. “Above” предлогының антонимін табыңыз:
A) In.
B) Of.
C) Under.
D) At.
E) With.
3. "Shopping" тақырыбына сәйкес келетін сөз:
A) Village.
B) Wardrobe.
C) People
D) Office.
E) Department.
4. Сұраққа дұрыс жауапты табыңыз.
- How many oranges would you like?
- Six, please. And some sugar.
-
A small package please.
A) How many would you like?
B) How much sugar?
C) How many sugar?
D) What sugar?
E) What would you like?
5. Тиісті артикльді қойыңыз.
I read ... Caravan every day.
A) The.
B) -
C) An.
D) On.
E) A.
6. Сөздің дұрыс аудармасын таңдаңыз:
Бақытсыз
A) Happy.
B) Unhappy.
C) Inhappy.
D) Rehappy.
E) Imhappy.

7. Зат есімнің тәуелденуі бар сөйлемді таңдаңыз
- A) This article is interesting
 - B) This is a daily newspaper
 - C) Have you got yesterday's newspaper?
 - D) I read an article yesterday.
 - E) Yesterday we bought a newspaper
8. Жауаптың дұрыс нұсқасын таңдаңыз:
- She ___ a bad student when she was young*
- A) were
 - B) isn't
 - C) wasn't
 - D) aren't
 - E) weren't
9. Етістікті аударыңыз.
- drive
- A) тасымалдау
 - B) беру
 - C) жүргізу
 - D) тасу
 - E) жүру
10. Мына әріптерден дұрыс құрылған сөзді таңдаңыз:
- C, O, D, O, N, R, E, A, T, I.
- A) Noetidacor.
 - B) Coderation.
 - C) Deracotion.
 - D) Decoration.
 - E) Dacoration.
11. Предлогты қойыңыз:
- There's a fellow ... the door asking to see you.
- A) at
 - B) under
 - C) in
 - D) on
 - E) above
12. Есімдіктің дұрыс нұсқасын таңдаңыз:
- She burnt ... cooking dinner.
- A) She.
 - B) Herself.
 - C) Hers.
 - D) Herselves.
 - E) Himself.

13. Сөйлемді толықтырыңыз:

I like books ... have a lot of pictures.

- A) where
- B) which
- C) when
- D) what
- E) who

14. Отбасының барлық мүшелерін білдіретін сөзді таңдаңыз:

- A) The Petrovs
- B) The grandparents
- C) The parents
- D) Petrovs
- E) The Petrov

15. Етістіктің дұрыс түрін табыңыз.

Knowledge ... power.

- A) Been.
- B) Were.
- C) Is.
- D) Are.
- E) Am.

16. Етістіктің шағына, етісіне және түріне назар аудара отырып, дұрыс вариантын көрсетіңіз.

Angela is here, but her friends

- A) weren't.
- B) be.
- C) isn't.
- D) aren't.
- E) wasn't.

17. Ерекшеленген етістікті тиісті модальді етістіктермен ауыстырыңыз:

He has to get up early on week-days.

- A) will be able.
- B) might.
- C) can.
- D) must.
- E) may.

18. Қойыңыз «it was»

- A) The weather...fine today.
- B) ... a theatre in our street.
- C) ... cold yesterday.
- D) ... two pictures on the wall.
- E) ... five o'clock now.

19. **Сұрақтың дұрыс жауабын табыңыз.**
Who of the American presidents never lived in the White House?
A) Bill Clinton.
B) Abraham Lincoln.
C) George Washington.
D) Franklin Roosevelt.
E) George Bush.
20. **Берілген сөз қай сөзбен үйлеседі?**
A steep
A) radio.
B) walk.
C) table.
D) hill.
E) student.
21. **"Lend" сөзінің анықтамасы:**
A) It means to give money to somebody.
B) It means a piece of land which you buy to build a house.
C) It means to give money to somebody for a certain period.
D) It means to buy goods at the department store.
E) It means to take smb's money without permission.
22. **Мақалды аяқтаңыз:**
Health is ...
A) ... all wounds.
B) ... half done.
C) ... make light work.
D) ... better than wealth.
E) ... costs nothing.
23. **"575"ші**
A) five hundred seventy five
B) five hundredth and seventy fifth
C) five hundredth seventy fifth
D) five hundreds and seventy fifth
E) five hundred and seventy fifth
24. **Герундий қолданылған сөйлем:**
A) The boys are skiing now.
B) My favourite sport is skiing.
C) He can ski very well.
D) Does he like to ski?
E) Can you ski?

25. Мәтінді оқып, тапсырманы орындаңыз:

People from Europe began to settle in America many years ago. The first colonists landed in the South of the USA in the late sixteenth century. They called the place Virginia. But these people did not like living there and they went back to England. The first colonists who stayed in Virginia founded the settlement of Jamestown.

In the 1620s and 1630s leaders of the religious groups from England established new colonies in what they called New England. These settlers came with their wives and children and to make a new better life for themselves.

Soon colonists from almost all the countries of Europe began to make their homes in the New World. By 1790 after the War of Independence, four million colonists lived in the USA. Only half of them spoke the English language.

Сұраққа жауап беріңіз:

Why did people from England come to America?

- A) They wanted to make a better life for themselves.
- B) They didn't like America.
- C) They wanted to speak English.
- D) They took part in the War of Independence.
- E) They had listened about the New World.

**АҒЫЛШЫН ТІЛІ
ПӘНІНЕН СЫНАҚ БІТТІ**

HEMIC TIJI**1. Етістікті қойыңыз:**

Die Schuler ... ihre Sommerferien auf dem Lande

- A) seid / verbracht
- B) hat / verbracht
- C) sind / verbracht
- D) haben / verbracht
- E) habt / verbrachten

2. Керекті етістікті қойыңыз:

Im vorigen Jahr ... wir in der Alten Pinakothek in Munchen.

- A) Waren.
- B) Wart.
- C) War.
- D) Sind.
- E) Habt.

3. Етістікті қойыңыз:

... mir das Worterbuch!

- A) Gib
- B) Gieb
- C) Geben
- D) Gebe
- E) Giebe

4. Модаль етістікті қойыңыз.

Mein Sohn, ... du mir bitte helfen?

- A) sollst
- B) kannst
- C) darfst
- D) musst
- E) magst

5. Артикльді қойыңыз:

Wir hatten gestern ... Erholungsabend.

- A) einen
- B) dem
- C) der
- D) ein
- E) einem

6. Дұрыс сұраулы сөзді табыңыз:

„... ist das?“ – „Frau Muller“.

A) Wer

B) Welche

C) Wo

D) Was

E) Wie

7. Белгіленген зат есімнің орнына есімдікті қойыңыз:

Der Ausstellung "Karkara" wird im nächsten Monat in Almaty eine Fernsehsendung gewidmet.

A) ihm

B) ihnen

C) es

D) ihn

E) ihr

8. Қажетті предлогты қойыңыз:

Jeden Sonntag gehe ich ... das Theater.

A) aus.

B) in.

C) im.

D) zu.

E) an.

9. Сөйлемді толықтырыңыз:

Meine Mutter arbeitet nicht, sie fuhr

A) des Autos

B) das Zimmer

C) das Buch

D) das Heft

E) den Haushalt

10. Сөйлемді Perfekt формасына қойыңыз..

Die Verkäuferin bietet die Waren an.

A) Die Verkäuferin anbietet die Waren.

B) Die Verkäuferin wird die Waren anbieten.

C) Die Verkäuferin bat die Waren an.

D) Die Verkäuferin hat die Waren angeboten.

E) Die Verkäuferin hat die Waren anbieten.

11. Баяндауышты қойыңыз:

In der Deutschen Bucherei in Leipzig ... seit 1913 alle deutschsprachigen Bücher... .

- A) Werde / gesammelt.
- B) Wird / gesammeltet.
- C) Werden / gesammelt.
- D) Werden / sammeln.
- E) Wurde / gesammelt.

12. Керекті артикльді қойыңыз:

Diese Rede betrifft ... Erfolge der Wissenschaft.

- A) die
- B) der
- C) das
- D) dem
- E) den

13. Сәйкес келетін конструкциямен сөйлемді аяқтаныз:

Du sollst nicht so laut

- A) sprechen
- B) sprechen werden
- C) gesprochen
- D) sprechen wurden
- E) zu sprechen

14. Қажетті артикль қойыңыз:

Der Redakteur hat ... Inhalt ... Nachricht schon lange gewusst.

- A) die / der
- B) des / der
- C) der / der
- D) den / der
- E) der / die

15. Қажетті нұсқасын табыңыз:

Dieses Hotel ist zu teuer. Gibt es hier kein _____ Hotel?

- A) billigem.
- B) billiger.
- C) billigen.
- D) billige.
- E) billiges.

16. Сан есімді қойыңыз.

17, 11 DM = _

- A) siebzehn Mark elf
- B) sibzehn Mark elf
- C) siebzehen Mark elf
- D) siebenzehn Mark elf
- E) sieben zehn Mark elf

17. Сын есімді құрыңыз:

Heil-

A) um

B) er

C) isch

D) ig

E) ich

18. Сын есімнің шырайларын дұрыс қойыңыз.

Hier liegen viele Rucksacke. Adils Rucksack ist einer der

A) leichtesten

B) am leichtesten

C) leichter

D) leichtester

E) leichter

19. Дұрыс бағынышы сөйлемді табыңыз:

Die Lehrerin hat uns das gesagt,

A) als begann heute die Stunde.

B) als heute die Stunde begann.

C) begann als heute die Stunde.

D) als heute begann die Stunde.

E) als die Stunde begann heute.

20. Грамматикалық формасына сай сөйлемді таңдап алыңыз:

Das im Garten spielende Kind ist der Sohn meines Nachbars.

A) Das Kind, das im Garten gespielt hat, ist Sohn meines Nachbarn.

B) Das Kind, das im Garten spielen wird, ist Sohn meines Nachbarn.

C) Im Garten spielt das Kind. Es ist Sohn meines Nachbarn.

D) Die Kinder, die im Garten spielen, sind die Sohne meines Nachbarn.

E) Das Kind, das im Garten spielt, ist Sohn meines Nachbarn.

21. Средний род зат есімді табыңыз:

A) Wette

B) Waldbrand

C) Wesen

D) Wandspruch

E) Weizen

22. Көпше түрі жоқ зат есімді табыңыз

A) Möglichkeit.

B) Tätigkeit.

C) Fähigkeit.

D) Schwierigkeit.

E) Kindheit.

23. Сөйлемді аяқтаңыз:

Bringst du die Urlaubsfotos mit, ...

- A) Oder sind sie noch nicht fertig?
- B) Oder sie nicht fertig noch sind?
- C) Oder noch nicht sind sie fertig?
- D) Oder sie noch nicht fertig sind?
- E) Oder noch nicht fertig sind sie?

24. Дұрыс вариантты қойыңыз:

Assel will Arztein werden, ... lernt sie in der Schule sehr fleißig Chemie.

- A) Dass.
- B) Darum.
- C) Denn.
- D) Weil.
- E) Da.

25. Сөйлемнің дұрыс аудармасын табыңыз:

Мұнда көп жаңа үйлер салынады.

- A) Viele neue Häuser sind hier zu bauen.
- B) Hier wurden viele neue Häuser gebaut.
- C) Hier werden viele neue Häuser gebaut.
- D) Viele moderne Häuser ist schon gebaut.
- E) Wir haben hier viele neue Häuser gebaut.

**НЕМІС ТІЛІ
ПӘНІНЕН СЫНАҚ БІТТІ**

ФРАНЦУЗ ТІЛІ

1. Етістіктің Passe compose формасын таңдаңыз:
Elle me (repondre).
A) A repondu.
B) Est repondu.
C) Aura repondu.
D) Avait repondu.
E) Eut repondu.
2. Етістіктің болымсыз түрінің дұрыс нұсқасын таңда.
Elle _____ prefere _____ voyager seule.
A) Ne / rien
B) Pas / personne
C) Ne / pas
D) Pas / encore
E) Pas / toujours
3. Ырықсыз етіс қажетті түрін табыңыз:
Cette dictee ... par l'eleve.
A) A ete ecrite.
B) As ecrit.
C) A ete ecrit.
D) Ai ecrit.
E) A ecrit.
4. Тәуелдік сын есімнің дұрыс формасын таңдаңыз.
Il me prie de lui rendre ... livres.
A) Mon
B) Ton
C) Ses
D) Son
E) Sa
5. Қажетті әріпті табыңыз.
On...e.
A) Z
B) I
C) S
D) F
E) T
6. [S] дыбысы бар сөзді табыңыз:
A) Centime.
B) Concombre.
C) College.
D) Cage.
E) Ecolier.

7. Етістіктерді меңгеруның дұрыс нұсқасын тап.
Nous commencons ... bien parler francais.
A) En.
B) Chez.
C) Pour.
D) De.
E) A.
8. Шылаудың дұрыс нұсқасын тап.
... je sois malade, je ferai ce travail.
A) Pour
B) Bien que.
C) Pour que.
D) En.
E) Par.
9. Сөйлемнің француз тіліндегі баламасын табыңыз:
Бұл ержүрек адам.
A) C'est un homme triste.
B) C'est un brave homme.
C) C'est un homme pauvre.
D) C'est un homme bon.
E) C'est un homme brave.
10. Қажетті етістікті табыңыз:
Mon pere et ma mere ... professeurs.
A) etiez
B) etes
C) sont
D) sommes
E) ont
11. Есімшені өткен шақта дұрыс табыңыз.
"J'ai perdu Douchka, elle s'est (sauver),"- dit-il et eclata en sanglots.
A) Sauvees.
B) Sauves.
C) Sauvee.
D) Sauve.
E) Sauve.
12. Бұйрық райдың дұрыс нұсқасын тап
Tu te brosses les dents.
A) Les dents sont brosses par toi .
B) Tu brosses-te les dents.
C) Brosse-te le dents.
D) Te brosses les dents.
E) Brosse-toi les dents.

13. Етістікті дұрыс табыңыз:

J'espere qu'il ... dans l'avenir.

- A) Ait reussi.
- B) Reussira.
- C) Reussisse.
- D) Reussit.
- E) A reussi.

14. Слитный артикльдің дұрыс нұсқасын таңда.

Le plus long fleuve _____ France est la Loire.

- A) A la
- B) Au
- C) Du
- D) De la
- E) A

15. Есімдіктің қажетті формасын көрсетіңіз.

Le garçon ... entre dans la chambre est mon ami.

- A) que
- B) dont
- C) lequel
- D) qui
- E) celui

16. Мағынасы сәйкес сөзді табыңыз.

Martine est mariee avec

- A) Une danseuse
- B) Une cantatrice
- C) Une interprete
- D) Une chanteuse
- E) Un mathematicien

17. Үстеу суффикстерінің дұрыс нұсқасын табыңыз:

Ce journaliste a presente les faits tres

- A) Objectivement.
- B) Object.
- C) Objective.
- D) Objectif.
- E) Objet.

18. Сұрау сөздің дұрыс нұсқасын табыңыз.

... travailles-tu apres les cours?

- A) Ou
- B) Quand
- C) Quelle
- D) Quel
- E) Qu'est-ce que

19. Аударманың дұрыс вариантын көрсетіңіз.
Қызық кітаптар.
A) Un livres interessants.
B) Une livre interessant.
C) Des livres interessants.
D) Des interessants livres.
E) Un interessants livres.
20. Есімдіктік етістіктің дұрыс нұсқасын тап
A quelle heure tu chaque jour? A 8 heures.
A) Te regardes.
B) Te prends.
C) Te reveilles.
D) Te conserves.
E) Te dors.
21. Етістіктің дұрыс грамматикалық түрін көрсетіңіз.
Si vous veniez a temps tout le monde vous (ecouter).
A) ecoute
B) écouterà
C) écouterez
D) ecoutait
E) écouterait
22. Төлеу сөздің дұрыс вариантын көрсетіңіз.
Serge a dit : «Je vais au cinema».
A) Serge a dit qu'il est alle au cinema.
B) Serge a dit qu'il va au cinema.
C) Serge a dit qu'il ira au cinema.
D) Serge a dit qu'il etait alle au cinema.
E) Serge a dit qu'il allait au cinema.
23. Адвербальдық есімдіктің дұрыс нұсқасын тап.
A) Lui n'y repondez pas.
B) Ne lui y repondez pas.
C) Ne repondez –lui pas.
D) Ne y repondez lui pas.
E) Ne repondez y lui pas.
24. Қажеттісін таңдаңыз:
Les villes francaises connus comme capitales des Jeux Olympiques sont _____.
A) Paris, Poitiers
B) Orleans, Tours
C) Grenoble, Dijon
D) Grenoble, Albert-ville
E) Paris, Dijon,

25. Тексті оқып шығып, мағынасы сәйкес келетін сөйлемді белгілеңіз.

Les dauphins.

Les dauphins sont des animaux tres interessants qui nagent tres vite et sans fatigue. Ils sont intelligents et parlent entre eux. Ils savent voir dans l'eau et reconnaitre un ennemi de tres loin. Les dauphins ne sont pas dangereux . Au contraire, ils peuvent sauver un homme en danger.

- A) Les dauphins savent prononcer des mots.
- B) Les dauphins representent un danger pour l'homme.
- C) Les dauphins parlent une langue que nous ne comprenons pas.
- D) Les dauphins ne nagent pas bien et se fatiguent vite.
- E) Les dauphins sont des ennemis des hommes.

ФРАНЦУЗ ТІЛІ
ПӘНІНЕН СЫНАҚ БІТТІ